

Mascheroni  
SECRETUM  
DU COMPAG

Muzeum Przemysłu i Rolnictwa.

„Inwentarza Biblioteki”.

N<sup>o</sup> 1727

632's

403

GEOMETRIE

DU COMPAS



**GÉOMÉTRIE  
DU COMPAS.**

REVUE

DES SCIENCES

---

IMPRIMERIE DE HUZARD COURCIER,  
rue du Jardinot, n° 12.

# GÉOMÉTRIE DU COMPAS,

PAR L. MASCHERONI;

TRADUITE DE L'ITALIEN

PAR A. M. CARETTE,

ANCIEN ÉLÈVE DE L'ÉCOLE POLYTECHNIQUE, OFFICIER SUPÉRIEUR  
DU GÉNIE, etc.

SECONDE ÉDITION,

Revue, corrigée et augmentée d'une Notice biographique  
du Traducteur sur MASCHERONI.



BIBLIOTEKA  
A. CZAJEWICZA

PARIS,

BACHELIER, SUCCESSEUR DE M<sup>ME</sup> V<sup>E</sup> COURCIER,

LIBRAIRE POUR LES MATHÉMATIQUES,  
QUAI DES AUGUSTINS, N<sup>o</sup> 55.

ET A BRUXELLES,

A LA LIBRAIRIE PARISIENNE, RUE DE LA MADELEINE, N<sup>o</sup> 438.

1828

Lw 2897

10235

opis: 45430



6847



# AVERTISSEMENT

## DU TRADUCTEUR

### SUR LA SECONDE ÉDITION.

---

LA première édition de la traduction de la Géométrie du Compas, qui parut en 1798, fut très recherchée à cette époque ; elle est épuisée depuis plusieurs années, et les amis des Sciences exactes en réclamaient une nouvelle édition. C'est pour répondre à leurs vœux qu'on publie celle-ci ; et l'on a cherché à la rendre aussi correcte que possible, en faisant disparaître toutes les fautes que la précipitation avec laquelle la première édition fut imprimée n'avait pas permis d'éviter.

Dans une note que nous avons placée à la fin du chapitre X, nous avons donné

une solution du problème (146) plus générale que celle de Mascheroni ; et nous avons ajouté une solution , par le moyen du compas seulement, du problème (150) pour lequel Mascheroni ne donne que la solution d'Euclide, qui exige le concours de la règle et du compas.

---

# NOTICE BIOGRAPHIQUE

## DU TRADUCTEUR,

### SUR MASCHERONI.

---

DEPUIS la publication de la traduction de la Géométrie du Compas, qui parut en 1798, les sciences ont perdu l'auteur de cet intéressant ouvrage, ainsi que le fruit des travaux qu'il avait entrepris avec autant d'ardeur que d'heureuses dispositions, et qu'une mort prématurée l'empêcha d'achever.

Qu'il soit permis au Traducteur de la Géométrie du Compas, en publiant cette seconde édition, de payer à Mascheroni le juste tribut d'éloges et de regrets si légitimement dus à la mémoire d'un savant étranger, qui s'applaudissait d'avoir trouvé une seconde patrie dans la France, au moment où elle devint son tombeau.

MASCHERONI (Laurent) était né à Bergame en 1750. Il étudia avec goût les Belles-Lettres, et obtint dans ces premières études de très brillans succès. Dès l'âge de 18 ans, il enseignait le grec et le latin au collège de Bergame. Cette profession lui fournit souvent l'occasion d'exercer agréablement son esprit. Il se fit remarquer surtout par un discours qu'il prononça sur la fausse éloquence de la chaire : pour faire ressortir d'une manière plus piquante le ridicule qu'il attaquait, il employa lui-même le style poétique que les prédicateurs de son temps prodiguaient dans leurs sermons.

Il fut appelé ensuite à professer la langue grecque à Pavie, où il continua de l'enseigner jusqu'à l'âge de

27 ans ; mais ce n'était pas dans les lettres que Mascheroni devait trouver sa principale illustration. Jusque là on n'avait apprécié que la délicatesse de son esprit : une circonstance fortuite détermina en lui le goût des études sérieuses et des méditations profondes ; elle lui dévoila sa véritable vocation. Un ouvrage de Mathématiques lui tomba un jour entre les mains ; il le lut avec avidité , et conçut dès lors pour les sciences un amour qui devint bientôt une passion dominante. C'est ainsi que s'était manifesté le goût de Lagrange , qui n'avait, dans tout le cours de ses études à Turin, montré de dispositions que pour les Lettres , et dont le génie pour les Mathématiques ne fut révélé qu'à la seconde année de son cours de philosophie par la lecture d'un mémoire de Halley que le hasard lui avait fait rencontrer.

Du moment où Mascheroni eût abordé les Sciences exactes, il en fit l'objet principal de ses études. Ses progrès furent rapides. En peu de temps il se montra digne d'occuper la chaire de Géométrie au collège de Bergame, et fut , un peu plus tard , nommé professeur de Géométrie et d'Algèbre à l'université de Pavie.

Il publia dans cette ville , en 1787 , un mémoire intitulé *Méthode pour la mesure des polygones plans*, dans lequel il traitait tous les problèmes que l'on trouve dans la Polygonométrie de Lhuillier , imprimée deux ans plus tard à Genève , 1789. Ce dernier ouvrage ne parvint que quelques années après sa publication à la connaissance du célèbre professeur , qui eut peine à concevoir que le même sujet, que les mêmes problèmes fussent traités précisément de la même manière par un autre géomètre. Il fit imprimer à Pavie, en 1793,

sous le titre modeste, *Problèmes pour les arpenteurs, avec différentes solutions*, un ouvrage composé de cinq livres. Les trois premiers et partie du quatrième ne sont qu'une nouvelle édition du mémoire qu'il avait publié à Pavie, en 1787, sur la mesure des polygones plans. La fin du quatrième livre a pour objet de donner la plus grande généralité aux problèmes contenus dans les livres précédens. Le cinquième est entièrement consacré à la mesure des solides.

Mascheroni profita de cette publication pour revendiquer, dans la Préface, la propriété de son premier mémoire, et il le fit avec autant de chaleur pour une production qu'il affectionnait, que d'égards pour un mathématicien dont il ne voulait point atténuer le mérite dans l'opinion publique.

Il parut en l'an XI (1803), chez Courcier, une traduction française de cet ouvrage, intitulé : *Problèmes pour les arpenteurs*. Mais on ne voit pas pourquoi le traducteur, en tronquant quelques passages de la préface, enlève à l'auteur une partie des moyens par lesquels il établit ses droits à la propriété qu'il réclamait.

Le savant italien ayant reconnu, dans la Polygonométrie de Lhuillier, tous les problèmes qu'il avait donnés lui-même dans son ouvrage, imprimé deux ans avant l'époque à laquelle Lhuillier avait publié le sien, signala très délicatement cette rencontre qui lui avait paru tout-à-fait extraordinaire.

Nous rétablirons ici les propres expressions de Mascheroni, en désignant par des caractères italiques les parties de sa préface qui ont été omises par le traducteur de l'ouvrage.

« J'avais publié, en 1787, parmi les additions au  
 » Cours de Mathématiques de M. Bossut, *qui me sert*  
 » *de texte dans mes leçons de l'Université*, un petit  
 » mémoire intitulé : Méthode pour la mesure des po-  
 » lygones plans ; et j'y mis mon nom. Deux ans après,  
 » M. Lhuillier publia à Genève sa Polygonométrie, im-  
 » primée par Barde en 1789. Je reconnus en la lisant,  
 » non-seulement que mon ouvrage renfermait tous ses  
 » problèmes, mais encore que mes solutions analyti-  
 » ques m'avaient conduit aux mêmes formules, et que  
 » j'avais suivi absolument les mêmes traces qu'un au-  
 » teur qui avait imprimé son ouvrage deux ans après la  
 » publication du mien. Je fus vraiment étonné de voir  
 » que je m'étais ainsi rencontré avec ce géomètre. »

On ne peut s'empêcher d'observer, dans le passage qui précède, avec quelle finesse, quelle délicatesse d'expression Mascheroni cherche à concilier le besoin qu'il éprouve de s'assurer la conservation des droits que sa priorité lui avait acquis, avec la réserve et la circonspection, d'ailleurs si conformes à ses dispositions naturelles, que semblait lui imposer le caractère d'ecclésiastique dont il était revêtu. Si l'on a droit de s'étonner de l'omission des passages soulignés dans la traduction de la préface de Mascheroni, que penser de l'addition de la phrase suivante, quand il ne se trouve pas dans l'italien un mot qui puisse la justifier? « Un accord  
 » aussi parfait avec ce célèbre géomètre (M. Lhuillier  
 » fut pour moi d'un grand prix, et la preuve la plus com-  
 » plète que mon travail pouvait être de quelque utilité. »

Mascheroni, tout modeste qu'il était, se sentait bien capable d'apprécier seul le mérite de son ouvrage, et

de Bonaparte en Italie. Le général, qui accueillait avec plaisir les savans italiens, avait vu souvent Mascheroni, et s'était entretenu plusieurs fois avec lui de la Géométrie du Compas. Quand la paix de Campo-Formio fut signée, Bonaparte vint à Paris apporter le traité au directoire, et lui présenter les drapeaux de l'armée d'Italie. Le lendemain de cette cérémonie triomphale, qui eut lieu le 20 frimaire an VI ( 10 décembre 1797 ), Bonaparte fut invité par François de Neufchâteau à une nombreuse réunion composée de savans et de gens de lettres, tous membres de l'Institut. « Le général les » étonna tous, dit le *Moniteur* du temps, par la va- » riété et l'étendue de ses connaissances. »

Lagrange et Laplace faisaient partie de la réunion, et dans une conversation que Bonaparte eut avec ces illustres géomètres, et particulièrement avec Laplace, il leur fit connaître la Géométrie du Compas, ouvrage alors tout nouveau et inconnu en France, en leur donnant la solution de quelques-uns des problèmes qui se trouvent dans cette production originale. Après avoir écouté Bonaparte avec attention, Laplace, qui avait été son professeur de Mathématiques à l'école de Brienne, lui dit en présence de tous les savans réunis autour d'eux : « Nous attendions tout de vous, général, ex- » cepté des leçons de Mathématiques. »

Cette anecdote, répétée par plusieurs journaux, signala pour la première fois en France la Géométrie du Compas, et inspira à l'auteur de cette notice, qui sortait alors de l'École Polytechnique pour entrer dans le corps du génie, le désir de connaître l'ouvrage et ensuite celui d'en publier la traduction.

n'a pas craint de faire lui-même la juste part de celui de M. Lhuillier, relativement à sa Polygonométrie, ainsi qu'on peut s'en convaincre par la lecture du passage suivant, qui termine sa réclamation : « Au reste, » dit-il, l'ouvrage de M. Lhuillier n'en mérite pas moins » la bienveillance du lecteur, tant pour son *érudition*, » que pour les démonstrations géométriques qu'il a » données, et pour beaucoup d'exemples choisis qui » répandent de la clarté sur toute la méthode. »

L'*érudition*, accordée à M. Lhuillier par Mascheroni, implique contradiction avec le contentement que semblerait lui avoir procuré, d'après la phrase du traducteur, un accord aussi parfait avec le géomètre de Genève : ou bien il faudrait n'y voir qu'une ironie peu conforme à l'esprit de douceur auquel se plaisent à rendre hommage tous ceux qui ont connu le savant italien.

Lors de l'entrée des Français en Italie, Mascheroni sut allier les sentimens d'un patriotisme éclairé avec les devoirs de l'état ecclésiastique qu'il avait embrassé. Ses talens et la sagesse de son esprit fixèrent sur lui l'attention et les suffrages de ses concitoyens : il fut nommé membre du corps-législatif de la république Cisalpine ; mais, tout en exerçant ces nouvelles fonctions avec le plus grand zèle, il n'en continuait pas moins à se livrer à l'étude des sciences mathématiques, pour lesquelles il avait conservé la même prédilection.

Mascheroni publia à Pavie, en 1797 (1), la *Géométrie du Compas*. C'était dans les derniers momens du séjour

---

(1) C'est par erreur que la Biographie des Contemporains de Rabbe et la Biographie universelle de Barbier annoncent que cet ouvrage a paru à Milan en 1795. Il n'a eu qu'une édition, celle imprimée à Pavie en 1797.



Mascheroni contribua beaucoup aux expériences faites à Bologne, pour prouver le mouvement de la terre par la chute des corps.

Les ouvrages que l'on a de lui sont :

1°. *Sulle curve che servono a delineare le ore ineguali de gli antichi nelle superficie plane.* Bergamo, 1784, in-4°.

2°. *Nouvelles Recherches sur l'équilibre des voûtes.* Bergamo, 1785, in-4°, avec planches. Ouvrage profond, où l'auteur essaie d'aller plus loin que n'avaient été Bossut et Lorgna dans les mémoires qu'ils avaient publiés en 1774, 1779 et 1780.

3°. *Des vers italiens, adressés à la comtesse de Grismondi, aussi célèbre par son esprit que par sa beauté.* 1786, in-4°.

4°. *Méthode pour la mesure des polygones plans.* 1787, Bergamo, in-8°.

5°. *Problèmes pour les arpenteurs avec différentes solutions.* 1793, Pavie, in-8°.

6°. *La Géométrie du Compas.* 1797, Pavie, in-8°.

7°. *Notes sur le Traité de calcul différentiel, par Euler.*

8°. Une pièce de vers dans laquelle l'auteur fait preuve d'un talent distingué pour la poésie et d'un attachement sincère au savant français dont il déplore la perte. *In morte Bordæ, viri celeberrimi, Elegia.* Paris, 1799, in-folio.

9°. *Invito di Dafni a Lesbia* ; poëme qui ne fait pas moins d'honneur à Mascheroni que la Géométrie du Compas.

Il y décrit, avec autant de précision que de facilité,

les objets curieux de l'Amphithéâtre de Physique et du Cabinet d'Histoire naturelle de l'Université de Pavie.

Mascheroni a laissé, en outre, en manuscrit, plusieurs mémoires, un entre autres sur la pyramidométrie ; sujet dont l'immortel Lagrange s'était occupé avant lui, mais qu'il a envisagé sous un aspect différent.

L'un de ces mémoires, intitulé *Spiegazione popolare della maniera colla quale si regola l'anno sestile o intercalare, e il cominciamento dell' anno repubblicano*, a été inséré après sa mort dans les Mémoires de Mathématiques et de Physique de la Société italienne des Sciences, tome IX, page 321. Modène, 1802.

Mascheroni occupait encore en 1798 la chaire de professeur de Mathématiques à l'Université de Pavie, lorsqu'il fut député à Paris par le gouvernement italien pour y coopérer à la rédaction du nouveau système des poids et mesures. Il se livra à ce travail avec autant de zèle que d'intelligence, et le mérite qu'il y déploya lui procura l'estime de ses collègues, comme sa douceur et sa modestie lui avaient déjà acquis leur amitié.

Les évènements de la guerre ne lui permettant pas de retourner dans son pays, il chercha dans le nôtre à exercer ses talens. M. Dubois, l'un de nos plus dignes instituteurs, le reçut chez lui comme professeur ; mais la fatigue des travaux auxquels Mascheroni s'était livré toute sa vie avec tant d'acharnement avait ruiné sa santé. M. Dubois ne lui demanda aucun service, et le séjour du savant italien dans sa maison ne fut pour lui qu'une occasion bien honorable d'exercer sa bienfaisance. Mascheroni reçut chez M. Dubois, pendant un an que dura sa maladie, les soins les plus tendres et

les plus hospitaliers. Vainement les médecins français réunirent leurs talens et les ressources de leur art : rien ne put arrêter les progrès du mal, et Mascheroni fut enlevé aux sciences et à ses amis le 25 messidor an VIII ( 14 juillet 1800 ), à l'âge de 50 ans (1).

On doit s'étonner et regretter que Bossut n'ait pas donné place, dans son Histoire des Mathématiques, à un savant qui semblait y avoir acquis quelques droits par plusieurs ouvrages, et particulièrement par la Géométrie du Compas.

Delambre a rendu plus de justice au géomètre italien dans le rapport historique qu'il fit, en 1808, au nom de la classe des Sciences physiques et mathématiques de l'Institut, sur les progrès des Sciences mathématiques depuis 1789 jusqu'en 1808.

Après avoir rappelé, dans le discours qui précède le rapport, que la Géométrie ancienne n'admettait dans ses démonstrations que ce qui peut s'exécuter avec la règle et le compas, Delambre ajoute : « Mascheroni, » plus sévère encore, voulut se passer de la règle. On a » lieu d'être étonné du grand nombre de propositions » nouvelles et piquantes qu'il a su trouver dans un sujet » en apparence épuisé. Ses principaux théorèmes avaient » été apportés en France par le vainqueur et le pacifi- » cateur de l'Italie. On désira connaître l'ouvrage en- » tier, et bientôt il en parut une traduction française. »

Dans le rapport même, Delambre revient sur la Géomé-

(1) Et non pas en 1808, âgé de 58 ans, comme le disent la Biographie des Contemporains et la Biographie universelle, auxquelles nous avons déjà reproché d'autres inexactitudes.

métrie du Compas ; et, pour ne point altérer le sens de ses expressions, nous nous faisons un devoir de les rapporter textuellement : « Avant de quitter la Géométrie »  
 « élémentaire, nous parlerons, dit le célèbre géomètre »  
 « français, de la Géométrie du Compas, due à l'inté- »  
 « ressant et malheureux Mascheroni, enlevé par le »  
 « chagrin que lui causaient les malheurs de son pays, »  
 « au moment où les succès des armées françaises, com- »  
 « mandées par le héros qui le premier avait apporté en »  
 « France les théorèmes les plus curieux de son livre, »  
 « allaient lui rendre une patrie qu'il honorait par ses »  
 « talens. C'est, en effet, une idée originale que de ré- »  
 « duire au seul usage du compas la solution de toutes »  
 « les questions de la Géométrie élémentaire, et de créer »  
 « ainsi, dans une partie qui paraissait épuisée, un sys- »  
 « tème de propositions aussi considérable que nouveau. »  
 « Celles qui regardent la division du cercle méritent »  
 « surtout d'être remarquées, parce qu'elles pourraient »  
 « avoir des applications utiles dans la construction des »  
 « instrumens de Mathématiques et d'Astronomie. »

Le secrétaire perpétuel de la classe des Sciences physiques et mathématiques fait bien connaître, dans les passages précédens, le véritable mérite de la Géométrie du Compas ; et l'hommage touchant rendu par un savant, tel que Delambre, à la sensibilité comme au talent de Mascheroni, répare bien honorablement le tort que pourrait faire à sa mémoire l'oubli commis par Bossut, oubli d'autant plus singulier, qu'il n'avait guère pu se dispenser de consulter le rapport fait par Delambre le 6 février 1808, pour son Histoire des Mathématiques qui ne parut qu'en 1810.

---

# TABLE.

---

AVERTISSEMENT du Traducteur sur la 2 <sup>e</sup> édit.	Page	v
NOTICE BIOGRAPHIQUE du Trad. sur MASCHERONI.		vij
ERRATA.		3
PRÉFACE.		5
LIVRE I.	Préliminaires.	25
— II.	De la division de la circonférence et des arcs du cercle.	41
— III.	De la multiplication et de la divi- sion des distances en ligne droite.	65
— IV.	De l'addition et de la soustraction des distances ; de la situation des perpendiculaires et des paral- lèles.	83
— V.	Des distances proportionnelles.	95
— VI.	Des racines.	105
— VII.	De l'intersection des lignes droites avec les arcs de cercle et entre elles.	129
— VIII.	De la construction, de la multipli- cation et de la division des angles et des lignes trigonométriques.	195

LIVRE IX.	Des figures semblables et des poly- gones réguliers. . . . .	Page 147
— X.	Des centres. . . . .	175
— XI.	Problèmes divers. . . . .	185
—	Problèmes résolus par approximation. . .	259

FIN DE LA TABLE.

## ERRATA.

- Page 99, ligne 9, au lieu de fig. 32, lisez fig. 39
- 110, 11, des nombres entiers, lisez des racines des nombres entiers
- 150, 11, sera à celle de la plus grande, comme 2 est à 5, lisez sera égale aux  $\frac{2}{5}$  de la plus grande
- 214, 12, d'une hélice, lisez d'une ellipse
- 261, 10, et de choisir parmi ceux, lisez et de choisir ceux
- 263, 16,  $-\cos.A + (45^\circ)$ , lisez  $-\cos.(A + 45^\circ)$
- 318, 8, à la moitié de celle de la sphère, lisez à celle de la sphère
- 322, 17, 0,000019, lisez 0,0000019





# PRÉFACE

## DE L'AUTEUR.

---

La première idée qui m'engagea à tenter la carrière nouvelle de la Géométrie du Compas fut celle-ci : puisque l'on fait chaque jour de si belles découvertes en avançant dans les Mathématiques, ne pourrait-on pas, en revenant sur ses pas, trouver quelque endroit encore inconnu dans le vaste champ qu'elles offrent à parcourir? Jusqu'ici on a regardé en Géométrie comme les solutions les plus simples celles qui n'exigeaient que le secours de la règle et du compas : c'est-à-dire de la ligne droite, la plus simple des lignes, et du cercle, la plus simple des courbes. A ces deux instrumens des problèmes, si l'on peut s'exprimer ainsi, qui pendant un temps constituaient et déterminaient la Géométrie élémentaire, on

ajouta dans la suite les courbes coniques ; celles-ci furent suivies des courbes supérieures au second degré, et des transcendentes de diverses espèces.

Le domaine de la Géométrie continua à s'accroître à l'aide de ces profondes recherches et avec le nouveau secours de l'analyse finie et infinitésimale, au point que les inventions qui d'abord avaient fixé l'admiration des anciens, et mérité les sacrifices de Thalès et de Pythagore, sont devenues l'apanage des enfans de nos jours. Je me dis à moi-même : ne pourrais-tu pas revenir aux élémens, en rentrant dans la ligne de démarcation, et chercher s'il n'est jusqu'ici rien resté en arrière qui ait été négligé ? Est-il bien vrai que les problèmes élémentaires d'Euclide soient de la plus simple construction possible ? Ne pourrait-on pas décomposer l'élément mathématique en ses élémens fondamentaux, la règle et le compas, à l'exemple de ceux qui ont

décomposé l'eau en deux airs, et un air regardé jusqu'à présent comme simple, en deux autres substances? Alors je m'avisai que la règle seule, ne pouvant servir qu'à conduire une ligne droite, on pouvait peut-être n'employer que le compas, non pour décrire seulement un cercle ou un arc, mais en en décrivant plusieurs de différens centres et avec diverses ouvertures, trouver par le moyen des sections mutuelles de ces cercles plusieurs points utiles et précisément les points cherchés de position dans un problème quelconque. J'ai remarqué jusqu'ici que cette branche n'avait encore été cultivée par aucun mathématicien, et que les solutions de ce genre, obtenues par hasard à l'aide du compas seul, auraient été, par leur construction, plus élémentaires que toute autre.

Deux raisons cependant me firent hésiter pendant quelque temps à entreprendre cet ouvrage, dans la crainte

qu'en me servant de ce moyen, mes efforts ne devinssent inutiles. D'abord je ne voyais pas trop ce qui résulterait de trouver avec le seul compas des points que d'autres ont trouvés avec le compas et la règle réunis. Je craignais en second lieu, et cela était bien naturel, que mes essais ne fussent pas couronnés du succès que j'en espérais; mon travail alors eût été perdu. Les constructions faites avec le seul compas pour déterminer les points de la Géométrie élémentaire, pouvaient être encore plus compliquées que celles déjà connues où l'on employait de plus la règle. Ma théorie aurait ainsi manqué d'élégance, et la pratique de précision; ainsi j'étais sur le point d'abandonner mon entreprise.

Dans mon incertitude, il m'arriva par hasard de relire la manière avec laquelle Graham et Bird en Angleterre divisèrent leurs grands quarts de cercle astronomiques (*Encyclopédie méthodique*, article

*Quart de cercle mural*). Celui qu'a fait Graham pour l'observatoire de Greenwich, non-seulement a servi de modèle à la plus grande partie de ceux qu'on a faits depuis, mais encore a mérité par sa précision d'être regardé par les astronomes comme un des meilleurs jusqu'à ceux de Ramsden. Je m'aperçus donc que la division de cette célèbre machine avait été faite à l'aide du compas seul sans la règle; rien de plus intéressant que la description des moyens employés par cet artiste, dans cette longue et ingénieuse opération. Je n'entrerai point ici dans l'explication des motifs qui firent exclure la règle; ils seront facilement sentis par ceux qui se connaissent en travaux de ce genre. Pour démontrer en général la supériorité de l'usage du compas sur celui de la règle, quand il s'agit de décrire avec précision des lignes à l'épreuve du microscope, il suffit de dire qu'avec une règle tant soit peu longue, il est presque

impossible de garantir la précision de tous les points qu'on trace, tant il est difficile qu'elle soit rigoureusement droite dans toute sa longueur. Fût-elle même très droite, les praticiens savent que la trace d'une ligne menée le long de la règle porte avec elle une incertitude de parallélisme dans le mouvement de l'axe de la pointe qui marque, ou de parfaite application de cette pointe à l'arête de la règle. Le compas n'est point sujet à ces deux inconvéniens, il suffit que son ouverture soit fixe et les pointes très fines; en plaçant l'une d'elles en un point pris pour centre, l'autre décrit un arc aussi exact qu'il est possible. En lisant la description de la méthode de Graham, je remarquai qu'il rencontra quatre difficultés :

La première, fut d'être obligé d'opérer par tâtonnemens. En parlant en effet de l'arc de soixante degrés qu'il détermina par le moyen du rayon, on voit que

toutes les subdivisions furent faites par essais. Les anciens ne nous ont laissé le moyen de diviser la circonférence avec le seul compas qu'en six parties, comme il est enseigné et démontré dans la quinzième proposition du liv. 4 des Éléments d'Euclide; Graham ne put donc obtenir une précision géométrique que pour un point.

Le second inconvénient fut la perte de temps, que les plus habiles mêmes ne sauraient éviter dans les expériences.

Le troisième fut d'avoir été obligé d'employer deux plans, un pour les essais, et l'autre qui était le quart de cercle lui-même, sur lequel il transposait les résultats; ce qu'il faisait pour ne pas gâter, par les essais sur le quart de cercle, la surface du limbe.

Enfin, la quatrième difficulté fut d'avoir été obligé d'exécuter deux divisions différentes. Comme la division du quart de cercle en  $90^\circ$  entraînait avec elle les

subdivisions d'un arc en 3 et en 5 parties, et que les essais de ces subdivisions étaient imparfaits par le trop grand nombre d'erreurs inévitables, il voulut tenter une autre division du même quart de cercle, approchant de la première, qui ne divisait l'arc que de deux en deux parties. Ayant donc divisé l'arc de  $60^\circ$  en deux parties, il eut l'arc de  $30^\circ$ ; le quart de cercle se trouvant par là divisé en 3 parties, avec les subdivisions par 2, on eut ensuite la 6<sup>me</sup>, la 12<sup>me</sup> partie, jusqu'à ce qu'enfin le quart restât divisé en 96. Cette division était celle qui méritait le plus de confiance; mais l'autre division en 90 degrés, devant servir immédiatement aux astronomes, fut comparée à la première, et corrigée par le moyen d'une table calculée à cet effet.

Tous ces inconvéniens engagèrent sans doute Bird à recourir à une autre méthode pour diviser ses quarts de cercle. Elle consistait à déterminer les arcs par



leurs cordes qu'il prenait sur une échelle divisée en parties égales. Elle n'était pas cependant exempte d'imperfections, puisqu'elle manquait d'abord de précision géométrique, et qu'en second lieu, le quart de cercle avait nécessairement les inexactitudes qui se trouvaient sur l'échelle.

L'importance des instrumens astronomiques m'engagea à considérer mon projet de la Géométrie du compas sous un point de vue plus favorable. Je commençai à croire que j'aurais beaucoup fait, si je réussissais à diviser la circonférence en plus de six parties par le secours du compas seul; j'aurais rendu aux artistes qui travaillent aux instrumens astronomiques un service d'autant plus important, que mes subdivisions de la circonférence auraient été plus étendues et plus conformes à la division du quart de cercle en  $90^{\circ}$ . Je fournissais à cette classe de mécaniciens un

moyen de précision géométrique dans leurs divisions. Je leur épargnais le temps des tâtonnemens , la nécessité de faire deux divisions à la fois et sur deux plans différens , et surtout je rendais inutile l'usage de l'échelle dont on ne peut garantir l'exactitude , bien loin qu'elle soit d'une rigueur géométrique. Il ne me restait que la seule crainte que ma nouvelle méthode ne fût compliquée et trop longue pour être commode dans la pratique.

Je me mis néanmoins à l'ouvrage. Voyant que je ne devais pas attendre beaucoup de l'application de l'Algèbre à la Géométrie , j'eus recours à d'autres moyens purement géométriques. Je ne les indique pas ici , parce que dans cette nouvelle carrière je n'ai pas tenu toujours la même route , et que je dois beaucoup au hasard. Ce n'a été souvent qu'après maintes tentatives différentes que j'ai obtenu le résultat que je cherchais.

Je laisse à d'autres le soin d'examiner la chaîne qui lie entre eux les problèmes de cette nouvelle théorie; ils parviendront peut-être à suivre le fil qui conduit par ordre de l'un à l'autre, et qui, s'il eût été découvert dès le commencement, aurait rendu plus courte et plus facile l'invention de la Géométrie du compas.

J'adressai alors le premier essai de mon entreprise à M. Annibal Baccaria, avec une lettre que je fis insérer dans le journal de Brugnatelli. Cet excellent artiste, alors Patrice milanais, depuis membre de la municipalité et du comité d'instruction publique de cette ville, réunit à la gloire d'être le frère du célèbre auteur du livre *des Délits et des Peines*, celle qui lui est propre d'exécuter avec la plus grande habileté tous les instrumens de Mathématiques les plus délicats.

Mon premier essai consistait dans la

méthode de diviser la circonférence en 24 parties , à l'aide d'un seul point pris hors d'elle. L'exécution de cette division est la plus simple qu'on puisse espérer , et je l'ai conservée dans cet ouvrage. Celle que j'avais donnée en 120 parties était trop compliquée ; j'en ai trouvé une beaucoup moins longue , et telle même que je la crois la plus courte possible. J'y avais ajouté aussi une construction très prompte pour obtenir les racines carrées des nombres , depuis l'unité jusqu'à 10 ; je l'ai encore conservée dans cet ouvrage.

J'ai omis les autres problèmes exposés dans cette lettre , parce qu'ils étaient trop compliqués , ou d'une approximation insuffisante. Je suis parvenu depuis , comme on le verra , à diviser très promptement la circonférence en 240 parties , avec une exactitude géométrique , par le moyen du compas seul et de trois points pris hors de la même

circonférence. Chacune de ces parties est un degré et demi de la division en  $360^\circ$ , usitée jusqu'ici. Je partage tout arc quelconque en deux parties, et cela géométriquement, par approximation. Je divise la circonférence, avec trois points seulement, en degrés et quarts de degrés, sans erreur d'un sixième de seconde.

Avec ces mêmes points je la divise en minutes, avec erreur de moins d'une seconde. Je me suis flatté que les astronomes pouvaient être contents de cette précision, parce que je ne sache pas d'artiste, même parmi les plus célèbres, qui ait passé outre.

Cependant je ne croyais pas encore avoir assez fait, si ma nouvelle théorie ne servait pas aussi à la nouvelle division du cercle.

On sait que les Français, heureux de posséder dans leur patrie les premiers géomètres de l'univers, ont enfin, d'après

leurs conseils , adopté pour tous les arts la seule division décimale tant souhaitée des savans.

Sans doute que cette division réussira avec difficulté dans les autres contrées , à cause des préjugés , et surtout de la force d'inertie ; mais elle s'établira enfin d'une manière inébranlable partout où l'on aime les sciences , et où les intérêts du commerce sont bien entendus. Une des divisions les plus difficiles à changer , était celle de la circonférence du cercle en  $360^{\circ}$  , et la subdivision en 60 parties , employée par toutes les nations ; et cela , à cause des fatigans travaux qu'il fallait nécessairement entreprendre pour refaire les tables trigonométriques dans un nouveau système ; mais l'énergie d'une grande nation qui se régénère ne connaît point d'obstacles. Ayant déterminé 400 parties ou degrés dans la circonférence , le quart du cercle , qui est le fondement de la

Trigonométrie, se trouve divisé en 100 parties, chacune desquelles se subdivise en 100 autres, et ainsi de suite.

Les tables des sinus naturels et artificiels de ces divisions et subdivisions sont déjà calculées et imprimées. Mais pour que rien ne manque à la stabilité et à la certitude de la précision des nombres, on a entrepris en France de les faire imprimer en caractères soudés en plomb. On voit déjà de ces nouvelles tables exécutées d'après la méthode nouvelle et ingénieuse de *Firmin Didot*, appelée stéréotype.

Une société de calculateurs très habiles en prépare encore d'autres plus étendues et avec un plus grand nombre de décimales, sous la direction du célèbre *De Prony*. Toutes ces circonstances m'engagèrent à chercher une méthode, au moins d'approximation, pour diviser la circonférence en ces nouveaux degrés et parties de degrés. J'ai réussi, avec

trois points seulement et très peu d'ouvertures de compas , à obtenir cette nouvelle division décimale de la circonférence sans erreur d'une seconde.

Quand je n'eusse fait autre chose que ce que je viens d'indiquer , cela aurait suffi à la recommandation de l'usage du compas seul. Mais en avançant , j'ai trouvé qu'il n'y avait point de problème de Géométrie élémentaire qui ne puisse se résoudre avec ce seul instrument , c'est-à-dire en ce sens que le compas suffit pour trouver tous les points demandés par le problème , pour la position et la détermination des droites dont on a besoin. Ceci intéressait la théorie ; j'ai voulu épuiser le sujet , donner tous les élémens pour tous les cas possibles , et démontrer qu'on peut trouver avec le compas seul tous les points qu'Euclide et les autres auteurs de Géométrie élémentaire , enseignent à trouver avec le secours de la règle et du compas réunis.



Quoique tous les problèmes élémentaires résolus avec le seul compas n'aient pas une solution assez simple, j'ose dire pourtant que la plus grande partie des plus nécessaires sont résolus avec assez de brièveté et de simplicité, pour engager les praticiens à rejeter le secours de la règle, et à se servir du seul compas pour trouver les points fondamentaux. Les moyens que je propose dans ce livre justifieront ce que j'avance. Je n'indiquerai point ici tous les problèmes semblables qui m'ont paru de quelque importance : en voici cependant quelques-uns.

Si l'on cherche avec le seul compas le centre d'un cercle, on le trouvera promptement et sans peine ; on aura de même les troisièmes et les quatrièmes proportionnelles, et par conséquent les moyennes proportionnelles.

On pourra aussi, avec le seul compas, construire des polygones réguliers ins-

★

crits ou circonscrits au cercle (1). Le seul compas suffira encore pour trouver les racines carrées des nombres, pour doubler, multiplier les surfaces des carrés, des cercles et des autres figures semblables. On résoudra avec une exactitude géométrique tous ces problèmes, car leur nature les en rend susceptibles. Ensuite, par approximation, on trouvera une longueur égale à la circonférence d'un cercle, ou un arc égal au rayon, ou un carré égal à un cercle, ou un cercle égal à un carré, ou une sphère égale à un cube, ou un cube égal à une sphère, ou un cube double, ou triple, ou quadruple d'un autre. On pourra résoudre tous ces problèmes en employant des sections d'arcs, ou en déterminant, toujours sans autre instrument que le compas, la longueur des

---

(1) Les ingénieurs militaires trouveront peut-être ici quelque chose d'utile pour leurs travaux,

côtés ou des rayons dont on a besoin pour les figures demandées.

Voilà , en peu de mots , le fond de la Géométrie du compas que je présente au public. Quant aux démonstrations , je me suis servi , autant que j'ai pu , de la Géométrie des anciens ; cela m'a paru plus conforme à la nature de mes problèmes , et plus court. Partout où les procédés géométriques devenaient trop longs pour obtenir le résultat , j'ai employé le calcul ; j'ai donc en même temps recherché la brièveté , la clarté , l'élégance autant qu'il m'a été possible.


J'ai cité Euclide , ce grand maître en fait d'éléments. Lorsqu'il est question de proportions , les numéros des propositions que je cite sont ceux de *Tacquet* , parce que son livre est plus répandu en Italie que l'ancien texte d'Euclide.

J'ai placé dans le onzième livre , en faveur des artistes qui ne voudront que s'amuser avec le compas , plusieurs pro-

blèmes récréatifs tirés de *Pappus*, d'*Ozanim*, de *Simpson* et de plusieurs autres auteurs. Voilà tout ce que j'avais à dire à mes lecteurs sur la Géométrie du compas. Elle est, quant à la construction de ses problèmes, la plus simple et la plus élémentaire qu'on puisse désirer, et je ne sache pas que cette matière ait été traitée jusqu'ici par personne.

---

# GÉOMÉTRIE DU COMPAS.



## LIVRE PREMIER,



### PRÉLIMINAIRES.

1. J'appelle *Géométrie du Compas* celle qui, par le moyen du compas seulement, et sans le secours de la règle, détermine la position des points.

Étant donnés, par exemple, deux points A et E (*figure 1<sup>re</sup>*), si l'on cherche le troisième point D, qui soit aussi éloigné de chacun d'eux qu'ils le sont entre eux, qu'on décrive d'un intervalle égal au rayon AE, et des points A et E comme centres, les deux cercles EDB, ADV, qui se coupent au point D, ce point D sera le point cherché, puisqu'il sera éloigné des points A et E d'un intervalle égal à AE,

(*Prop. 1, liv. 1 des Elémens d'Euclide.*) Ce point D a été trouvé avec le seul compas, sans le secours de la règle.

2. Il peut arriver que l'on trouve la position d'un point avec le seul compas, mais que pour démontrer la proposition, on ait besoin de la règle dans la construction de la figure.

Soient, par exemple, donnés deux points A et B (*fig. 2*) qui soient éloignés entre eux d'un certain intervalle pris pour unité, ou qu'on fait  $= 1$ ; si l'on cherche un point D qui soit éloigné de B de l'intervalle  $BD = \sqrt{3}$ , on résoudra le problème de la manière suivante :

Du centre A et d'un rayon AB, soit décrit le cercle BCD; avec le même rayon et du centre B, soit décrit un arc qui coupe la circonférence au point C; puis du centre C et avec le même rayon, soit décrit un arc qui coupe plus loin la circonférence en D; on aura en D le point cherché, ainsi trouvé sans le secours de la règle.

Pour démontrer néanmoins que l'intervalle  $BD = \sqrt{3}$ , on aura besoin de lignes droites qui se tracent avec la règle. Soit BE le diamètre du cercle BCD, si l'on mène les droites BD, DE, le triangle BDE sera rectangle en D (*31, liv. 3*), et l'on aura

$$(BE)^2 = (BD)^2 + (DE)^2;$$

d'où

$$(BD)^2 = (BE)^2 - (DE)^2.$$

Mais l'intervalle BC étant égal à  $CD = AB$ , on aura encore  $DE = AB$  (15, liv. 4), ou  $DE = 1$  et  $BE = 2$ . On aura donc

$$(BD)^2 = 4 - 1 = 3;$$

d'où

$$BD = \sqrt{3};$$

ce qu'il fallait démontrer, et ce qu'on ne pouvait faire sans la règle. Cette proposition est la 12<sup>e</sup> du livre 13 d'Euclide.

3. De la définition précédente (1), il résulte qu'à la Géométrie du compas appartiennent tous les problèmes que l'on peut résoudre avec le seul compas, quoiqu'on ne puisse pas les démontrer avec ce seul instrument. Tel est le problème précédent (2).

4. Cette Géométrie sera, comme on le verra par les exemples, d'un très grand usage dans la pratique pour trouver des points avec la plus grande précision possible, et même beaucoup plus promptement avec le seul compas, qu'en y joignant le secours de la règle.

5. Nous résoudrons donc les problèmes avec le seul compas, et l'on pourra ensuite, pour les

démonstrations, se servir de constructions faites, suivant l'usage, avec la règle et le compas. C'est pourquoi nous citerons les propositions et les livres d'Euclide.

6. On aura atteint complètement le but de ce traité, si l'on n'a omis aucun des élémens nécessaires pour que l'on puisse, avec le seul compas, déterminer, dans quelque problème que ce soit, tous les points qui jusqu'ici n'ont pu être déterminés qu'avec la règle et le compas réunis.

7. Nous ne placerons pourtant pas ici tous ces problèmes; mais après avoir démontré les élémens nécessaires et suffisans pour tous, nous en résoudrons un grand nombre des principaux, et surtout ceux qui sembleront les plus utiles, ou préférables à cause de leur élégance.

8. Nous ajouterons ici en faveur des artistes, pour lesquels, en grande partie, cet ouvrage est écrit, que, bien convaincus de l'importance des erreurs qui résultent de l'écart et du rapprochement de branches du compas pour obtenir avec précision des ouvertures différentes, nous aurons soin de résoudre les problèmes avec le plus petit nombre possible d'ouvertures de compas. Il serait même mieux que l'artiste eût à sa disposition autant de ces compas *fideles*



(ainsi appelés, parce qu'on peut s'assurer qu'ils conservent exactement l'ouverture donnée), qu'il y a d'ouvertures exigées par la solution du problème; car il arrivera souvent que nous serons obligés de nous servir plusieurs fois de la même ouverture, après en avoir employé une ou plusieurs autres : alors, sans élargir ou resserrer un seul compas, nous reprendrons le compas mis de côté qui conserve cette ouverture. C'est pourquoi nous appellerons quelquefois du nom de premier, second, troisième compas, les ouvertures successives avec lesquelles on aura résolu le problème.

9. D'ailleurs, comme pour la précision pratique de la position d'un point, il importe que la section des lignes qui le déterminent se fasse à angle droit ou approchant, nous ferons toujours en sorte qu'un arc en coupe un autre, ou à angle droit, ou au moins sous un angle qui en diffère peu.

10. Afin d'être plus courts, sans cependant devenir obscurs, en indiquant la construction des figures, nous emploierons souvent des expressions abrégées, que la seule inspection de la figure fera bientôt comprendre. Par exemple, dans la figure 2, au lieu de dire : « Avec le rayon AB, et du centre C, soit dé-

» crit un arc qui coupe la circonférence BCD  
 » au point C; puis avec le même rayon et du  
 » centre C, qu'on décrive un arc qui coupe la  
 » même circonférence en D, etc. »; nous  
 dirons seulement : « Soit fait à  $AB = BC$   
 $= CD$ , etc. » En effet, c'est assez dire que les  
 points B, C et D, avec lesquels on indique la  
 même circonférence BCD, sont des points de  
 cette circonférence; ainsi il n'y a aucun risque  
 d'équivoque.

11. De même étant donnés  $B$   $A$   
 par exemple, trois intervalles  $AB$ ,  $CD$ ,  $EF$ , quand on  $C$   $D$   
 dira : « Soit fait à  $CD = EG$ ,  
 à  $AB = FG$ , » on devra  $G$   
 entendre ceci : « Avec un  
 » rayon  $CD$ , et du centre  $E$   $F$   
 »  $E$ , soit décrit un cercle  
 » dans la circonférence duquel soit le point  $G$ ;  
 » ensuite, avec l'intervalle  $AB$  et du centre  $F$ ,  
 » soit décrit un autre cercle qui coupe le pre-  
 » mier au point  $G$  ».

12. D'autres fois dans les démonstrations,  
 nous désignerons quelques lignes droites qui  
 ne seront pas dans la figure, en nommant les  
 deux points extrêmes auxquels elles devraient  
 être menées, comme si, dans la figure 11, on

nommait la droite AB, ou bien CD. C'est ainsi que nous ferons quand il n'y aura pas à craindre d'obscurité, pour conserver la figure nette, et faire mieux paraître la construction faite avec le seul cercle.

13. *Lemme.* Si des deux centres A et B, et avec les rayons AP et AQ, on décrit des arcs qui se coupent en P et p, Q et q, les points Q, q, P et p seront dans la même ligne droite.

*Démonstration.* Tous les côtés des triangles APp, BPp (*fig. 3*), étant respectivement égaux entre eux par construction, l'angle APp sera égal à l'angle BPp (8, *liv. 1*). On démontre de même que APQ = BPQ. Donc

$$APp + APQ = BPp + BPQ.$$

Mais la somme de ces quatre angles est égale à quatre angles droits (13, *liv. 1, coroll.*). Donc chacune des sommes de deux angles est égale à deux angles droits. Donc la ligne QPp est droite (14, *liv. 1*). On démontre de la même manière que la ligne Ppq est droite. Donc les points Q, P, p, q sont dans la même ligne droite.

14. Les choses étant comme au numéro précédent, les droites AB, Pp, ainsi que celles AB, Qq, se couperont à angles droits en deux par-

ties égales au point  $M$ , et les droites  $QP$ ,  $qp$  seront égales.

*Démonstration.* En effet, à cause de l'égalité des côtés des deux triangles  $APB$ ,  $ApB$ , on a l'angle  $PAB = pAB$  (8, liv. 1). Mais on a encore  $APp = ApP$  (5, liv. 1). Donc aussi  $AMP = AMp$  (corroll. prop. 32, liv. 1). Donc ces deux angles sont droits (13, liv. 1), et la ligne  $Pp$  sera partagée en deux parties égales au point  $M$  par la démonstration de la proposition 10, liv. 1. On démontrera de la même manière que les droites  $Qq$  et  $AB$  sont divisées en deux parties égales au point  $M$ . Donc, en retranchant des droites égales  $QM$  et  $qM$ , les parties égales  $PM$ ,  $pM$ , les restes  $QP$ ,  $qp$  seront égaux.

15. *Corollaire.* On aura donc

$$(QM)^2 = (AQ)^2 - (AM)^2 \quad (47, \text{liv. 1}).$$

16. *Lemme.* Tout étant comme au numéro 13, on aura

$$(AQ)^2 = (AP)^2 + (PQ)^2 + Pp \cdot PQ.$$

*Démonstration.* Car on a  $(AQ)^2 = (AP)^2 + (PQ)^2 + 2MP \cdot PQ$  (12, liv. 2). Mais on a  $2MP = Pp$  (14). Donc, etc.

17. *Lemme.* On aura donc

$$(AQ)^2 = (Ap)^2 + (pQ)^2 - Pp \cdot pQ.$$

*Démonstration.* Car on a

$$(AQ)^2 = (Ap)^2 + (pQ)^2 - 2pM.pQ \text{ (13, liv. 2).}$$

Mais on a

$$2pM = pP \text{ (14).}$$

Donc, etc.

18. *Corollaire* 1<sup>er</sup>. Puisque  $pQ = pP + PQ$ , on aura

$$(pQ)^2 = pP.pQ + PQ.pQ \text{ (2, liv. 2);}$$

d'où soustrayant  $pP.pQ$ , on a

$$(pQ)^2 - pP.pQ = PQ.pQ;$$

et substituant cette valeur dans celle de  $(AQ)^2$  (17), on aura

$$(AQ)^2 = (Ap)^2 + pQ.PQ;$$

d'où l'on tire, en soustrayant  $(Ap)^2$  de part et d'autre

$$(AQ)^2 - (Ap)^2 = pQ.PQ.$$

Donc en effectuant la multiplication de  $AQ + Ap$  par  $AQ - Ap$  } on trouvera

$$(AQ + Ap)(AQ - Ap) = (AQ)^2 - (Ap)^2;$$

et par conséquent

$$(AQ + Ap)(AQ - Ap) = pQ.PQ;$$

d'où (par la 16<sup>e</sup> proposition du liv. 6) on déduit la proportion

$$pQ : AQ + AP :: AQ - Ap : PQ;$$

où substituant de même AP au lieu de Ap, et transposant les extrêmes,

$$PQ : AQ + AP :: AQ - AP : PQ.$$

De ces deux proportions on déduit expressément ce fameux théorème :

*Dans un triangle quelconque, un côté quelconque est à la somme des deux autres côtés, comme leur différence est à la différence ou à la somme des segmens que fait sur ce côté la perpendiculaire menée de l'angle opposé, suivant qu'elle tombe en dedans ou au dehors du triangle.*

19. *Corollaire* 2. On aura  $AQ = pQ$ . Otant de part et d'autre les deux termes égaux  $(AQ)^2$ ,  $(pQ)^2$ , et ajoutant des deux côtés la partie  $pP \cdot pQ$ , on aura  $pP \cdot pQ = (Ap)^2$ .

20. *Lemme*. Tout étant comme dans le n<sup>o</sup> 13, si l'angle  $RpQ$  est droit (*fig. 4*), et que l'angle  $RpS = RpA$ , et  $pS = pR = pA$ , AS sera parallèle et égale à Pp, et l'on aura

$$p \quad (AQ)^2 = (RQ)^2 - AS \cdot PQ.$$

*Démonstration.* En effet, si des deux angles droits  $R p Q$ ,  $R p q$ , on soustrait les deux angles égaux  $R p A$ ,  $R p S$ , il restera les deux angles égaux  $A p P$ ,  $S p q$ . Mais  $A p P = A P p$  (5, liv. 1); donc  $S p q = A P q$ ; donc  $A P$ ,  $S p$  sont parallèles (29, liv. 1). Mais elles sont aussi égales par construction; donc les deux droites  $A S$ ,  $P p$ , sont égales et parallèles (33, liv. 1).

On a aussi

$$(RQ)^2 = (Rp)^2 + (pQ)^2 \text{ (47, liv. 1)} = (Ap)^2 + (pQ)^2;$$

et par le lemme 17,

$$(A Q)^2 = (A p)^2 + (p Q)^2 - p P . p Q.$$

Donc

$$\begin{aligned} (A Q)^2 &= (R Q)^2 - p P . p Q \\ &= (R Q)^2 - A S . p Q. \end{aligned}$$

21. *Lemme.* Tout étant comme dans les n<sup>os</sup> 13 et 20, on aura  $(S Q)^2 = (R Q)^2 + A S . p Q$ .

*Démonstration.* En effet, si on fait  $ST = Sp$ ,  $p T = p P$ , (11) les deux triangles  $S p T$ ,  $A P p$  auront les angles  $S p T$ ,  $A P p$  égaux entre eux (8, liv. 1). Donc la ligne  $P p T$  est droite (27, liv. 1). On aura ensuite

$$(S Q)^2 = (p S)^2 + (p Q)^2 + p Q . p T \text{ (16).}$$

Mais on a

$$(pS)^2 + (pQ)^2 = (pR)^2 + (pQ)^2 = (RQ)^2,$$

et

$$pT = pP = AS.$$

Donc

$$(SQ)^2 = (RQ)^2 + AS \cdot pQ.$$

Des deux *lemmes* précédens il résulte ce corollaire, que

$$(AQ)^2 + (SQ)^2 = 2(RQ)^2.$$

**22. Lemme.** Si l'on a  $AQ = pQ = BQ$  et  $Ap = pB = pS$ ,  $pS$  étant sur le prolongement de  $Bp$ , on aura

$$AS \cdot pQ = (Ap)^2.$$

*Démonstration.* Les triangles isoscèles  $AQp$ ,  $BQp$  ayant les côtés égaux entre eux, on aura l'angle  $QpA = QpB$  (8, liv. 1). On aura ensuite l'angle  $ApB$ , qui est la somme des deux autres, égal aussi à la somme des deux angles  $SAp$ ,  $ASp$  (32, liv. 1), qui sont égaux entre eux, parce que le triangle  $ApS$  est isoscèle (5, liv. 1); chacun d'eux sera égal à l'angle  $ApQ = pAQ$  (5, liv. 1). On aura donc le triangle  $pAS$  semblable au triangle  $QpA$  (32, liv. 1; 4, liv. 6); et de là

$$pQ : Ap :: Ap : AS$$



et

$$AS.pQ = (Ap)^2 \text{ (17, liv. 6).}$$

**23. Lemme.** Si l'on a  $AB = AC = BD$ , et  $AD = BC$ , on aura

$$DC.AB = (AB)^2 - (AD)^2.$$

*Démonstration.* Les deux triangles  $ADB$ ,  $ACB$  (*fig. 5*) ayant les côtés respectivement égaux, seront égaux (8, et 26 *liv. 1*). Puis tous les deux étant posés sur la même base  $AB$ , seront compris entre les mêmes parallèles  $DC$ ,  $AB$  (39, *liv. 1*). Si donc sur la ligne  $BA$  on prend  $BE = DC$ ,  $DE$  sera égale et parallèle à  $BC$  (33, *liv. 1*) et aussi égale à  $DA$ ; d'où les deux triangles isoscèles  $BDA$ ,  $DAE$ , qui ont un angle commun en  $A$ , seront semblables (5, 32, *liv. 1*, et 4, *liv. 6*), et l'on aura

$$AB : AD :: AD : AE;$$

ce qui donne

$$AB.AE = (AD)^2 \text{ (17, liv. 6).}$$

On a ensuite

$$AB.AE + AB.BE = (AB)^2 \text{ (2, liv. 2);}$$

et substituant pour  $AB.AE$  sa valeur  $(AD)^2$  et  $DC$  à la place de  $BE$ , on a

$$(AD)^2 + AB \cdot DC = (AB)^2.$$

Enfin, soustrayant  $(AD)^2$  on aura

$$DC \cdot AB = (AB)^2 - (AD)^2.$$

24. *Lemme.* Si dans le cercle  $B\mu G$  (*fig. 6*) décrit d'un rayon  $AB$ , on élève au centre  $A$  la perpendiculaire  $Ae$  égale à la corde  $BG$  de l'arc  $B\mu G$ , et que du point  $e$  comme centre, et d'un rayon  $AB$ , on décrive un arc qui coupe la circonférence au point  $\mu$ , l'arc  $B\mu$  sera égal à la moitié de l'arc  $B\mu G$ .

*Démonstration.* A cause de l'égalité des côtés des deux triangles  $ABG$ ,  $A\mu e$ , on a l'angle  $GAB = A\mu e$  (8, *liv. 1*). Soit divisé par la moitié l'angle  $A\mu e$  par la droite  $\mu M$ , le triangle  $\mu eA$  étant isoscèle, on a l'angle  $\mu eM = \mu AM$ ; ensuite les deux triangles  $\mu eM$ ,  $\mu AM$  ayant leurs deux autres angles égaux, on aura encore le triangle  $\mu Me = \mu MA$  (*coroll. 32, liv. 1*); d'où  $\mu M$  est perpendiculaire à  $Ae$  (13 *liv. 1*), et parallèle à  $AB$  (29, *liv. 1*) et on aura l'angle  $M\mu A = \mu AB$  (27, *liv. 1*); donc  $\mu AB$  sera la moitié de l'angle  $GAB$ ; donc aussi l'arc  $B\mu$  sera la moitié de l'arc  $B\mu G$ .

25. Si dans le parallélogramme  $ABMN$  (*fig. 7*), on a la diagonale  $MA$  égale aux côtés

opposés  $MB$ ,  $AN$ , le carré de l'autre diagonale  $BN$  est égal au carré de la première, plus aux deux carrés des deux autres côtés.

*Démonstration.* Soit divisé  $AB$  en deux parties égales au point  $m$  par la perpendiculaire  $Mm$  (10, 11, liv. 1); et sur la droite  $BA$  prolongée, soit pris  $An = Bm$ , on aura  $mn = BA = MN$ . On aura donc le parallélogramme  $MNnm$  (33, liv. 1), et l'angle  $NnB$  sera droit (27, liv. 1); d'où

$$(BN)^2 = (AB)^2 + (AN)^2 + 2AB \cdot An. \quad (12, \text{liv. } 2.)$$

Mais  $An = \frac{1}{2} AB$ ; donc

$$(BN)^2 = (AN)^2 + 2(AB)^2 = (AN)^2 + (AB)^2 + (MN)^2.$$

26. Si dans un triangle quelconque  $BPE$  (fig. 8), on coupe en deux parties égales au point  $A$  la base  $BE$ , et que de l'angle opposé  $P$ , on mène la droite  $PA$ , la somme des carrés des côtés  $BP$  et  $PE$  sera égale à la somme des carrés égaux des deux segmens, en y ajoutant le double carré de la droite  $AP$ .

*Démonstration.* En effet, si l'on abaisse la perpendiculaire  $PR$  sur la base  $BE$ , on aura

$$(BP)^2 = (BA)^2 + (AP)^2 + 2BA \cdot AR \quad (12, \text{liv. } 2.)$$

On aura donc

$$(PE)^2 = (AE)^2 + (AP)^2 - 2AE \cdot AR \quad (13 \text{ liv. } 2).$$

Donc après avoir formé la somme des valeurs des deux carrés  $(BP)^2$  et  $(PE)^2$ , et de plus  $BA$  étant égal à  $AE$ , on aura

$$\begin{aligned} (BP)^2 + (PE)^2 &= (BA)^2 + (AE)^2 + 2(AP)^2 \\ &= 2(AB)^2 + 2(AP)^2. \end{aligned}$$

## LIVRE SECOND.

### DE LA DIVISION DE LA CIRCONFÉRENCE ET DES ARCS DU CERCLE.

#### PROBLÈME.

27. *Partager la circonférence du cercle BDA en quatre parties égales.*

*Solution.* Soit fait dans la même circonférence (*fig. 9*) au rayon  $AB = Bc = BC = CD = DE = Ed$ , avec le premier compas (8), on aura  $dc = cB = BA$  (15, *liv. 4*).

Soit fait aussi à  $BD = Ba = Ea$  avec le second compas, et à  $Aa = BF = Bf$  avec le troisième compas. On aura divisé la circonférence en quatre parties égales  $BF, FE, Ef, fB$ .

*Démonstration.*  $BAE$  étant un diamètre (15, *liv. 4*), et les triangles  $aAB, aAE$  ayant tous leurs côtés égaux, et par conséquent les angles  $aAB, aAE$  aussi égaux (8, *liv. 1*), ces deux angles seront droits (13, *liv. 1*). Donc

$$(aB)^2 = (AB)^2 + (aA)^2 \quad (47, \text{liv. 1});$$

et soustrayant de part et d'autre,  $(AB)^2$ ,  
on a

$$(aB)^2 - (AB)^2 = (aA)^2.$$

Soit fait pour abrégér  $AB = 1$ , on aura

$$(aB)^2 = (BD)^2 = 3 \quad (2);$$

donc

$$(aA)^2 = 3 - 1 = 2,$$

et encore

$$(BF)^2 = (aA)^2 = 2 = 1 + 1 = (AB)^2 + (AF)^2.$$

Donc, dans le triangle FAB, l'angle FAB sera droit (48, liv. 1), et par conséquent aussi FAE (13, liv. 1). Donc les arcs BF, FE seront égaux entre eux et quarts de cercle, ainsi que les arcs  $Bf$ ,  $fE$ .

28. *Corollaire.* Les angles BAa, BAF étant droits, les trois points A, F, a seront dans la même ligne droite.

29. Nous avons donc déjà la circonférence divisée, savoir, en deux parties égales aux points B et E; en trois parties, aux points B, D, d (15, liv. 4); en quatre parties, aux points B, F, E, f (27); en six parties, aux points B, C, D, E, d, c (15, liv. 4).

## PROBLÈME.

30. *Diviser une circonférence en huit parties égales.*

*Solution.* Tout étant comme au n<sup>o</sup> 27, soit fait à  $AB = aG = aH$  (*fig. 9*), avec le premier compas; à  $Aa = Gg = Hh$  avec le troisième compas, on aura aussi  $g\iota = Aa$ , et la circonférence sera divisée en huit parties égales aux points B, G, F, H, E, *h, f, g*.

*Démonstration.* Puisque  $(Aa)^2 = 2$  (27), on aura  $(Aa)^2 = (AG)^2 + (aG)^2$ . L'angle  $aGA$  sera donc droit (48, *liv. 1*). D'où, à cause du triangle isoscèle  $aGA$ , les deux autres angles  $GAa$ ,  $GaA$ , égaux entre eux (5, *liv. 1*), vaudront chacun la moitié d'un angle droit (32, *liv. 1*). Donc l'angle  $GAF$ , qui est le même que l'angle  $GAa$  (28), sera la moitié de  $BAF$ : donc aussi l'arc  $GF = BG$ . Mais, par construction, on a  $Gg = BF$  (26, *liv. 3*): donc, ôtant de part et d'autre  $BG$ , on aura  $GF = Bg$ . On démontrerait de même que les autres arcs sont égaux. Donc la circonférence sera divisée en parties, égales chacune à la moitié du quart, et par conséquent en huit parties.

## PROBLÈME.

**31.** *Diviser la circonférence en douze parties égales.*

*Solution.* Les choses étant comme au n° 27, qu'on fasse (*fig. 9*) à  $AB = FN = Nn = FO = Oo$  : la circonférence sera divisée en douze parties égales aux points B, N, C, F, D, O, E, o, d, f, t, n.

*Démonstration.* En effet, si des arcs égaux BF, FE, on retranche les arcs égaux BC, DE, les arcs restans CF, FD seront égaux. Or l'arc CD est la sixième partie de la circonférence; donc l'arc CF sera la moitié de cet arc, et par conséquent le douzième de la circonférence. A cause de  $FN = CD$ , on aura encore  $CF = CN$ ; donc aussi à cause de  $FN = CB$ , on aura  $CN = NB$ . On démontrera de la même manière que chacun des autres arcs est le douzième de la circonférence.

## PROBLÈME.

**32.** *Diviser la même circonférence en vingt-quatre parties égales.*

*Solution.* Les choses étant comme ci-dessus (30 et 31), soit fait (*fig. 9*) à  $AB = GL = LM$



$=Gk=ki=HI=IK=Hm=ml$ , de la première ouverture de compas, et le problème sera résolu.

*Démonstration.* En effet, si des arcs égaux  $GF$ ,  $GB$  (30), on retranche les arcs égaux  $CF$ ,  $NB$  (31), les restes  $GC$  et  $GN$  seront égaux. Or  $CN$  est la douzième partie de la circonférence; donc  $GC$  et  $GN$  en seront les vingt-quatrièmes parties.

On a ensuite  $FN=GL$ ; retranchant la partie commune  $FG$ , on aura  $NG=FL$ . Donc aussi  $FL$  sera la vingt-quatrième partie de la circonférence, et par conséquent la moitié de  $FD$  (31). On démontrera de la même manière que les arcs  $DH$ ,  $HO$ ,  $FI$ ,  $IC$  sont égaux, ainsi que tous les autres qui ont été déterminés ci-dessus.

33. Pour être plus courts, nous continuerons à nous servir, sans les citer, ainsi que nous venons de le faire, des propositions 26 et 27 du liv. 3 d'*Euclide*, que dans un même cercle, ou dans des cercles égaux, les droites égales soutendent des arcs égaux.

34. Les anciens, au moyen du centre  $A$  et du rayon  $AB$ , divisaient, avec le compas seulement, la circonférence en six parties égales. Ils obtenaient les autres divisions avec la règle et le compas, en prenant différens points hors

de la circonférence. Nous sommes parvenus à déterminer un point  $a$ , qui seul suffit pour la diviser en vingt-quatre parties égales avec le compas seulement ; ce qui est en même temps plus expéditif, plus commode et beaucoup plus exact que les méthodes des anciens.

35. On peut remarquer en même temps la loi élégante que suivent les ouvertures de compas suffisantes pour cette division.

L'ouverture du premier compas  $= \sqrt{1}$ , celle du troisième  $= \sqrt{2}$ , et celle du deuxième  $= \sqrt{3}$ .

36. *Lemme.* Si dans le cercle BGE, on a le rayon  $AB = 1$ , et que l'arc BG soit la huitième partie de la circonférence, on aura le carré de sa corde BG, c'est-à-dire  $(BG)^2 = 2 - \sqrt{2}$ .

*Démonstration.* Sur le diamètre BE, soit abaissée la perpendiculaire GP. Dans le triangle rectangle GPA, à cause de l'angle  $BAG = 45^\circ$ , on aura aussi  $AGP = 45^\circ$  (32, liv. 1), et par conséquent  $GP = PA$ . Or, on a  $(AG)^2 = (PG)^2 + (AP)^2$  (47, liv. 1); donc  $(AG)^2 = 2(AP)^2$ , ou  $2(AG)^2 = 4(AP)^2$ , ou encore  $2 = (2AP)^2$ ; donc

$$\begin{aligned} \sqrt{2} &= 2AP; \quad AP = \frac{1}{2} \sqrt{2}; \quad BP = AB - AP \\ &= 1 - \frac{1}{2} \sqrt{2}. \end{aligned}$$

On a ensuite, à cause de l'angle droit BGE (31, liv. 3),

$$BP : BG :: BG : BE \quad (8, 4, \text{liv. } 6);$$

donc (17, liv. 6)

$$(BG)^2 = BP \times BE = 2BP;$$

donc

$$(BG)^2 = 2 - \sqrt{2}.$$

37. *Lemme.* Les choses étant comme au n° 36, on aura

$$(GE)^2 = 2 + \sqrt{2}.$$

*Démonstration.*  $(BE)^2 = (GE)^2 + (BG)^2$  (47, liv. 1). Mais  $(BE)^2 = 4$ ,  $(BG)^2 = 2 - \sqrt{2}$  (36) :

donc

$$4 = (GE)^2 + 2 - \sqrt{2};$$

donc

$$2 = (GE)^2 - \sqrt{2},$$

et par conséquent

$$(GE)^2 = 2 + \sqrt{2}.$$

#### PROBLÈME.

38. *La circonférence étant déjà divisée en vingt-quatre parties égales (32), la sous-diviser en quarante-huit.*

*Solution.* Soit fait à  $aN = Be = Ee$  (11)



avec un quatrième compas, et à  $AB = e\mu = e\nu$  avec le premier compas. Les arcs  $K\mu$ ,  $\mu N$ ,  $M\nu$ ,  $\nu O$  seront les quarante-huitièmes parties de la circonférence.

*Démonstration.* Si l'on conçoit les droites  $Aa$ ,  $Nn$ ,  $aN$ ,  $aB$  (12), l'angle  $BAa$  étant droit, l'angle  $BAN = BAN$  (31) et les trois rayons  $AN$ ,  $AB$ ,  $An$  égaux, on aura

$$(aN)^2 = (aB)^2 - Nn \cdot Aa \quad (20).$$

Donc, à cause de  $aN = Be$ , on aura aussi

$$(Be)^2 = (aB)^2 - Nn \cdot Aa.$$

De plus les triangles  $eAB$ ,  $eAE$  étant rectangles en  $A$  (8, 13, liv. 1), puisque leurs côtés sont respectivement égaux, on aura

$$(Be)^2 = (AB)^2 + (Ae)^2 \quad (47, \text{liv. 1}),$$

et par conséquent

$$(AB)^2 + (Ae)^2 = (aB)^2 - Nn \cdot Aa;$$

mais on a  $(aB)^2 = (AB)^2 + (Aa)^2$ , donc

$$(AB)^2 + (Ae)^2 = (AB)^2 + (Aa)^2 - Nn \cdot Aa;$$

d'où, retranchant  $(AB)^2$  de part et d'autre, on a

$$(Ae)^2 = (Aa)^2 - Nn \times Aa.$$

Mais  $(Aa)^2 = 2$  (27) et  $Nn = 1$ , puisque  $Nn$  est la corde d'un arc de 60 degrés (31); donc  $(Ae)^2 = 2 - \sqrt{2} =$  le carré de la corde de l'arc  $BG$ , qui est la huitième partie de la circonférence (30 et 36.) On aura donc l'arc  $B\mu = \mu G$  (24); retranchant ensuite de chacun de ces arcs, les arcs égaux  $BK, NG$  (32), les restes  $K\mu, \mu N$  seront égaux; et comme l'arc  $KN$  est la vingt-quatrième partie de la circonférence (32), chacun d'eux en sera la moitié, et par conséquent la quarante-huitième partie de la circonférence. Il en sera de même des arcs  $K\mu, \mu N, M\nu$ , et  $\nu O$ .

39. On pourrait aussi avec la même construction (*fig. 11*), par le moyen des quatre compas ci-dessus indiqués, diviser la circonférence en quarante-huit parties égales (8). En effet, si avec le premier compas d'une ouverture  $= AB$ , on divise la circonférence en six parties, en commençant du point  $\mu$ , les arcs  $IF, HO, mo, fl, ng$  seront partagés en deux parties égales; puis divisant la circonférence en six parties, en commençant du point  $\nu$ , on aura divisé en deux parties égales les arcs  $oh, fi, nk, NG, FL$ . Divisant ensuite la circonférence en quatre parties avec le troisième compas d'une ouverture égale à  $Aa$ , en partant

du point  $\mu$ , les arcs restans LD, *ic* seront divisés en deux parties égales; et en partant du point  $\nu$ , on partagera de même les arcs IC, *ld*. Enfin divisant encore avec le premier compas la circonférence en six parties égales, mais en partant des derniers points trouvés avec le troisième compas, tous les autres arcs seront divisés en deux parties égales.

La démonstration est la même que celle n° 32.

PROBLÈME.

40. *Diviser la circonférence BDd en cinq parties égales.*

*Solution.* Tout étant comme dans le problème du numéro 31, qu'on fasse (*fig. 12*) à  $Aa = Nb = Ob$ , avec le troisième compas. Que l'on fasse à  $Bb = BQ$ , l'arc BQ sera la cinquième partie de la circonférence.

*Démonstration.* Si l'on conçoit menées les deux droites NO, AF, qui se coupent en X, à cause des triangles équilatéraux FNA, FOA, la droite AF sera divisée en deux parties égales au point X (10, *liv. 1*), ainsi que NO (14). Puis l'arc NFO étant égal à l'arc BCD (31), le carré de sa corde NO sera égal au carré de

la corde  $BD = 3$  (2). D'où le carré de sa moitié, c'est-à-dire  $NX^2 = \frac{3}{4}$  (*prop. 4, liv. 2, coroll.*). De plus, les points  $b, A, X$  sont en ligne droite, et le triangle  $NbX$  est rectangle (12, 13, 14). On a aussi  $(Nb)^2 = (Aa)^2 = 2$  (27); d'où l'on tire

$$\begin{aligned} (Xb)^2 &= (Nb)^2 - (NX)^2 \quad (47, \text{liv. 1}) \\ &= 2 - \frac{3}{4} = \frac{8}{4} - \frac{3}{4} = \frac{5}{4}. \end{aligned}$$

Mais à cause de l'angle droit  $XAB$ , qui est le même que  $FAB$ , on a

$$(BX)^2 = (AB)^2 + (AX)^2 \quad (47, \text{liv. 1}).$$

D'ailleurs, on a  $(AX)^2 = \frac{1}{4}(AF)^2$  (*prop. 4, liv. 2, coroll.*); donc

$$(BX)^2 = 1 + \frac{1}{4} = \frac{5}{4} = (Xb)^2.$$

Donc les droites  $BX, Xb$  sont égales. Donc on aura le point  $b$ , le même qu'emploie Ptolémée dans le premier livre de l'Almageste, pour inscrire dans un cercle un pentagone et un décagone régulier. Voy. la démonstration de Clavius, dans le scholie dépendant de la proposition 10 du liv. 13 d'Euclide. Voy. aussi les numéros suivans (45, etc.), qui fourniront

la démonstration complète de cette proposition et des suivantes.

## PROBLÈME.

41. *Diviser la circonférence en dix parties égales.*

*Solution.* Tout étant comme dans le problème précédent (40), que l'on fasse (*fig. 12*) à  $Ab = BP$ , on aura  $BP = PQ$ . Chacun de ces arcs est égal à la dixième partie de la circonférence.

*Démonstration.* Voy. la 10<sup>e</sup> proposition du liv. 13 d'*Euclide*.

## PROBLÈME.

42. *Diviser la circonférence en cent vingt parties égales.*

*Solution.* Tout étant comme dans les numéros 32 et 40,  $QI$  (*fig. 12*) sera la cent-vingtième partie de la circonférence.

*Démonstration.* En effet, l'arc  $BI$  est égal à cinq vingt-quatrièmes (32), et l'arc  $BQ$  à la cinquième partie de la circonférence. Donc

$$QI = BI - BQ = \frac{5}{24} - \frac{1}{5} = \frac{25 - 24}{120} = \frac{1}{120}.$$



43. Maintenant on pourra, quand on voudra, avec quatre compas seulement, ou quatre ouvertures du même compas, et avec les deux seuls point  $a$  et  $b$  pris hors de la circonférence, diviser la circonférence du cercle en cent vingt parties égales. En effet, après avoir, avec le point  $a$ , et avec trois compas, divisé la circonférence en vingt-quatre parties (*problème du numéro 32*), et ayant trouvé le point  $b$  (40), qu'on fasse, avec le quatrième compas, à  $Ab = BP = PQ = QR = RS$ , et par conséquent aussi  $= SE$  (41). Ensuite, pour diviser l'arc  $NG$  en cinq parties égales, dont chacune soit la cent-vingtième de la circonférence, qu'on fasse à  $Ab = Lq = qp = I\pi = O\rho = \rho\omega = \omega\phi$ . L'arc  $NG$  sera divisé en cinq parties égales, et l'on pourra diviser de la même manière tous les autres arcs  $GC$ ,  $CI$ , etc.

*Démonstration.* Puisqu'on a  $BQ = RE$ ,  $BF = FE$ ,  $IF = FL$ , on aura aussi  $IQ = LR$ ; et comme  $Lq = QR$ , on aura aussi  $Qq = LR = QI$ . De même  $QP$  étant égal à  $qp$ ,  $Qp$  sera aussi égal à  $Pp$ , et à  $QI$ . Pareillement, à cause de  $I\pi = QP$ , on aura  $\pi P = QI$ ; et comme on a  $O\omega = BQ$ ,  $OI = IB$ , on aura encore  $I\omega = QI$ . De plus, à cause de  $\omega\phi = I\pi$ , on a  $I\omega = \phi\pi = QI$ : puis, comme on a

$$O\phi = O\rho + \rho\omega + \omega\phi = BP + PQ + QR = BR,$$

en retranchant de part et d'autre les arcs égaux  $OG$ ,  $BL$ , on aura pour reste  $G\phi = LR = QI$ . Enfin, à cause de  $BI = LN$ , si on retranche les arcs égaux  $BQ$ ,  $Lp$ , on aura pour reste  $QI = Np$ . Donc on aura divisé l'arc  $NG$  en cinq arcs  $Np$ ,  $pP$ ,  $P\pi$ ,  $\pi\phi$ ,  $\phi G$  égaux chacun à l'arc  $QI$ , et par conséquent égaux entre eux; et puisque l'arc  $NG$  est un vingt-quatrième de la circonférence (32), sa cinquième partie en sera le cent-vingtième.

44. Nous avons donc jusqu'à présent fait, sans aucun autre instrument que le compas, les mêmes divisions en parties égales de la circonférence, que celles que faisaient les anciens en inscrivant au cercle les cinq polygones réguliers, savoir : le triangle, le carré, le pentagone, l'hexagone et le décagone, et en joignant l'usage de la règle à celui du compas, tandis que l'on y est parvenu d'une manière commode, en prenant seulement deux points hors de la circonférence, et en n'employant que quatre ouvertures d'un seul compas, ou bien quatre compas (43, 8). En comparant cette méthode avec la méthode connue, on pourra juger de sa sim-

plicité, de sa brièveté et de sa précision dans la pratique.

45. Comme on a par le n° 40

$$Xb + XF = Fb = Xb + XA$$

et

$$Ab = Xb - XA,$$

on aura

$$\begin{aligned} Fb \cdot Ab &= (Xb)^2 - (XA)^2 = (XB)^2 - (XA)^2 \\ &= (AB)^2; \end{aligned}$$

ou bien

$$Fb \cdot Ab = (FA)^2;$$

donc la droite  $Fb$  sera divisée au point  $A$  en moyenne et extrême raison (30, liv. 6).

46. On aura donc

$$\begin{aligned} Fb \cdot Ab &= (FA + Ab) \cdot Ab = (fA)^2 \\ &= (fA + Ab) \cdot Ab = fA \cdot Ab + (Ab)^2 \\ &= fA(fA - fb) + (Ab)^2 \\ &= (fA)^2 - fA \cdot fb + (Ab)^2. \end{aligned}$$

Ayant donc

$$(fA)^2 = (fA)^2 - fA \cdot fb + (Ab)^2,$$

retranchant  $(fA)^2$ , et ajoutant  $fA \cdot fb$ , on aura  $fA \cdot fb = (Ab)^2$ : donc aussi la ligne  $Af$  sera divisée en  $b$ , en moyenne et extrême raison.

47. Si du centre  $b$ , et d'un rayon  $bA$ , on décrit un arc qui coupe la circonférence au

point T, on aura

$$Tf = Tb = bA.$$

En effet, on aura

$$fA \cdot fb = (Ab)^2 = (Tf)^2;$$

d'où (17, liv. 6) on tire cette proportion

$$fA : fT :: fT : fb.$$

Donc les deux triangles  $fAT$ ,  $fbT$ , qui ont l'angle en  $f$  commun, auront leurs côtés contigus porportionnels; donc (6, liv. 6) ils seront semblables; donc aussi le triangle  $fbT$  sera isoscèle; ce qui donne  $Tb = Tf$ .

48. L'angle  $TbA = Tfb + bTf$  (32, liv. 1)  $= Tbf + bAT$ ; en ajoutant  $Tbf$ , on aura

$$TbA + Tbf = 2Tbf + bAT;$$

mais  $TbA + Tbf$  valent deux angles droits; (13, liv. 1); donc  $2Tbf + bAT$  valent deux angles droits. Mais  $Tbf = bAT + bTA$  (32, liv. 1)  $= 2bAT$  (5, liv. 1); donc  $2Tbf + bAT = 5bAT =$  deux angles droits. Donc l'angle  $bAT$ , qui est le même que l'angle  $fAT$ , sera un cinquième de deux angles droits, et l'arc  $fT$  un dixième de la circonférence.

49. Si l'on prend la corde  $ft = fT$ , on aura

aussi  $bt = ft$  (47), et les deux droites  $tT$ ,  $bf$  se couperont au milieu à angles droits en un point  $\gamma$  (14); alors on aura  $(Tf)^2 = (Ty)^2 + (fy)^2$ ; d'où l'on tire

$$4 (Tf)^2 = 4 (Ab)^2 = 4 (Ty)^2 + 4 (fy)^2 \\ = (Tt)^2 + (fb)^2;$$

et

$$(Tt)^2 = 4 (Ab)^2 - (fb)^2.$$

Mais  $(fb)^2 = (fA - Ab)^2 = (fA)^2 - 2fA \cdot Ab + (Ab)^2$ ; donc

$$(Tt)^2 = 3 (Ab)^2 - (fA)^2 + 2fA \cdot Ab.$$

Or  $2fA \cdot Ab = 2fA (fA - fb) = 2 (fA)^2 - 2fA \cdot fb = 2 (fA)^2 - 2 (Ab)^2$ ; donc

$$(Tt)^2 = 3 (Ab)^2 - (fA)^2 + 2 (fA)^2 - 2 (Ab)^2 \\ = (fA)^2 + (Ab)^2 = (BA)^2 + (Ab)^2 \\ = (Bb)^2.$$

Donc aussi  $Tt = Bb$ ; mais  $Tt$  est la corde de deux dixièmes, ou d'un cinquième de la circonférence; donc  $Bb$  l'est aussi; donc, etc.

50. *Dans le triangle rectangle ABb, le carré du côté du pentagone est égal à la somme des carrés des côtés de l'hexagone et du décagone. Cette proposition est la 10<sup>e</sup> du liv. 13 d'Euclide.*

51. Les côtés du triangle rectangle  $ABb$  sont cordes d'arcs qui sont en progression contre harmonique. Car ces arcs sont  $\frac{1}{5}$ ,  $\frac{1}{6}$ ,  $\frac{1}{10}$  de la circonférence, et l'on trouve cette proportion :

$$\frac{1}{5} - \frac{1}{6} : \frac{1}{6} - \frac{1}{10} :: \frac{1}{10} : \frac{1}{5}.$$

52. Des proportions  $fb : bA :: bA : Af$  (46), et  $fb : bA :: bA : AF$ , il suit que le diamètre  $Ff$  est divisé aux points  $A$  et  $b$  en trois parties qui sont en proportion continue.

PROBLÈME.

53. *Diviser la circonférence en vingt parties, c'est-à-dire trouver la vingtième partie de la circonférence.*

*Solution.* Tout étant comme au n° 40, soit fait dans le quart de cercle  $BVf$ ,  $fV = Bb$ , l'arc  $BV$  sera la vingtième partie de la circonférence.

*Démonstration.* En effet, on a  $BV = Bf - fV = \frac{1}{4} - \frac{1}{5}$  (40)  $= \frac{1}{20}$ .

*Autre solution.* Tout étant aussi comme au n° 40, soit fait dans le quart de cercle  $BVf$ ,  $bV = AB$ , l'arc  $BV$  sera la vingtième partie de la circonférence.

*Démonstration.* La droite  $Ab$  étant la corde de la dixième partie de la circonférence, l'arc  $BV$  sera la moitié de cette dixième partie, c'est-à-dire la vingtième (24).

54. A cause de  $Vb = VA$ , le triangle  $AVb$  est isocèle, ainsi que  $bTf$ . De plus, comme on a  $FA : Ab :: Ab : bf$  (52), ou en substituant des valeurs égales,  $VA : Ab :: Tb : bf$ , les deux triangles isocèles auront leurs côtés proportionnels; donc ils seront semblables. (6, liv. 6)

55. Comme on a aussi  $bF : FA :: FA : Ab$  (45 et 17, liv. 6), en substituant des valeurs égales, on aura  $bF : bV :: bV : Ab$ . Donc les côtés qui forment l'angle commun en  $b$ , dans les deux triangles  $bFV$ ,  $bVA$ , seront proportionnels, et par conséquent ces triangles seront semblables (6, liv. 6); donc aussi le triangle  $bFV$  sera isocèle, et l'on aura  $FV = Fb$ .

56. L'arc  $fV$  étant un cinquième (53), et l'arc  $fT$  un dixième de la circonférence (47), l'arc  $TV$  en sera aussi un dixième; d'où la corde  $TV = Tf = Tb = bA$ . Mais on a aussi  $Vb = TA$  (53); donc les deux triangles  $VTb$ ,  $TbA$  seront égaux, puisqu'ils auront tous leurs côtés respectivement égaux (8, 4, liv. 1).

## PROBLÈME.

57. *Diviser une circonférence en deux cent quarante parties égales.*

*Solution.* Tout étant comme au n° 43, soit divisé par le moyen donné (38, 39) l'arc NG au point  $\delta$  en deux parties égales, ce qu'on peut faire en faisant les cordes  $\nu\beta$ ,  $\beta\delta$  égales au rayon  $e\nu$ . Les deux arcs  $P\delta$ ,  $\delta\pi$  vaudront chacun la deux-cent-quarantième partie de la circonférence. (*Voyez encore le n° 58.*)

*Démonstration.* En effet, soustrayant des deux moitiés  $N\delta$ ,  $G\delta$ , les arcs égaux  $NP$ ,  $G\pi$  (43), il restera  $P\delta = \delta\pi$ . Mais  $P\pi$  est la cent-vingtième partie de la circonférence (43); donc, etc.

58. On pourra, avec une ouverture de compas prise du point  $\delta$  à un point quelconque N de la division déjà obtenue (43), continuer à diviser en deux toutes les cent-vingtièmes parties de la circonférence. Par exemple, avec cette ouverture, en plaçant le centre en  $p$ , on divisera l'arc  $\pi\phi$ ; en plaçant le centre en P, on divisera l'arc  $\phi G$ , et ainsi de suite.

59. Les trois points  $a$  et  $b$  (*fig. 12*) et  $e$  (*fig. 11*) sont très remarquables; car, au



moyen de ces seuls points pris hors de la circonférence, nous avons divisé la même en deux cent quarante parties égales, et nous sommes ensuite parvenus à en déterminer la deux-cent-quarantième partie, en n'employant que les cinq ouvertures de compas  $AB$ ,  $BD$ ,  $Aa$ ,  $aN$ ,  $Ab$ . Comme ces points peuvent servir dans la suite à plusieurs autres usages importans, nous trouverons, par rapport à eux, trois équations fondamentales, desquelles nous tirerons, quand il sera à propos, douze autres équations, et dont nous ferons voir les applications lorsque l'occasion s'en présentera.

## PROBLÈME.

**60.** *Diviser un arc quelconque  $BC$  (fig. 13) en deux parties égales en  $G$ .*

*Solution.* Avec le rayon  $AB$ , qui a décrit l'arc  $BC$  à diviser, et des centres  $B$  et  $C$ , qui sont les deux extrémités de l'arc, soient décrits les arcs  $AD$ ,  $AE$ ; qu'on fasse à  $BC = AD = AE$  (10); puis des centres  $D$  et  $E$ , et d'un rayon  $DC = BE$ , soient décrits deux arcs qui se coupent en  $F$ . Maintenant avec le rayon  $AF$ , et des mêmes centres  $D$  et  $E$ , qu'on décrive deux autres arcs qui se coupent en  $G$ , le point

G sera sur la circonférence, et l'on aura l'arc  $BG = GC$

*Démonstration.* Les côtés des trois triangles DBA, BAC, ACE, étant respectivement égaux, on aura l'angle  $BCA = CAE$  (8, liv. 1). Donc BC sera parallèle à AE (28, liv. 1); donc BAEC sera un parallélogramme (33, liv. 1).

On prouvera de la même manière que BCAD est un parallélogramme. On a ensuite, dans le parallélogramme BCAD, la diagonale AB égale aux côtés opposés BD, AC. Donc le carré de la diagonale DC sera égal à la somme du carré de l'autre diagonale AB, et des carrés des deux côtés AD, BC (25), c'est-à-dire  $(DC)^2 = (AB)^2 + 2(AD)^2$ ; et comme les deux droites DA, AE sont parallèles à la droite BC, les points D, A, E seront dans la même ligne droite. De plus, les triangles FAD, FAE ayant tous leurs côtés égaux, les angles FAD, FAE seront égaux (8, liv. 1), et par conséquent droits (13, liv. 1). On aura donc

$$(DF)^2 = (AD)^2 + (AF)^2;$$

mais  $(DF)^2 = (DC)^2$ ; donc

$$(AD)^2 + (AF)^2 = (AB)^2 + 2(AD)^2;$$

et ôtant  $(AD)^2$ , on aura

$$(AF)^2 = (AB)^2 + (AD)^2.$$

Mais  $(DG)^2 = (AF)^2$  : donc

$$(DG)^2 = (AB)^2 + (AD)^2;$$

et parce que les triangles  $GAD$ ,  $GAE$  ont leurs côtés égaux, les angles  $GAD$ ,  $GAE$  sont égaux et droits (8) (13, liv. 1). Donc

$$(DG)^2 = (AG)^2 + (AD)^2;$$

donc  $AB = AG$ , et par conséquent le point  $G$  est sur la circonférence. Otant ensuite des angles droits  $GAD$ ,  $GAE$ , les angles égaux  $BAD$   $CAE$ , les angles restans  $BAG$ ,  $GAC$  seront égaux; donc l'arc  $BC$  est divisé en deux parties égales au point  $G$  (33, liv. 6).

61. *Remarque.* Si l'arc à diviser était très petit, comme  $bc$  (fig. 13), il vaudrait mieux, dans la pratique, y ajouter de part et d'autre des arcs égaux un peu grands, comme  $bC$ ,  $cC$ , et diviser ensuite l'arc  $BC$  en deux parties égales au point  $G$  : l'arc  $bc$  se trouverait ainsi divisé en deux parties égales.

62. Si au contraire l'arc à diviser était trop grand, comme  $PGQ$ , il faudrait en retrancher de part et d'autre des arcs égaux  $PB$ ,  $QC$ , afin de donner une grandeur moyenne à la moitié

de l'arc  $BC$ , et ensuite diviser cet arc par le milieu au point  $G$ ; l'arc  $PGQ$  se trouverait ainsi divisé en deux parties égales.

**63.** On voit donc que tous les problèmes relatifs à la division de la circonférence, ou des arcs de cercle qu'on peut résoudre avec la règle et le compas, peuvent se résoudre aussi avec le compas seul.



# LIVRE TROISIÈME.

---

## DE LA MULTIPLICATION ET DE LA DIVISION DES DISTANCES EN LIGNE DROITE.

### PROBLÈME.

#### 64. Doubler la distance AB.

*Solution.* Du centre A, et d'un rayon AB, décrivez (*fig. 2*) une demi-circonférence BCDE; c'est-à-dire, faites à  $AB = BC = CD = DE$  (10) : la ligne BAE sera droite et double de AB.

*Démonstration.* Voyez la 15<sup>e</sup> du liv. 4

### PROBLÈME.

#### 65. Tripler, quadrupler, etc., une distance AB.

*Solution.* Qu'on ajoute (*fig. 1*) à AB la droite égale AE (64); qu'on ajoute de la même manière la ligne égale EV, etc., la droite BAEV sera égale à  $3AB$  : en continuant de la même manière, on quadruplera, etc.

*Démonstration.* La ligne BAE est droite (15, liv. 4), ainsi que la ligne AEV; donc, etc.

## PROBLÈME.

**66.** *Partager en deux parties égales la distance AB, c'est-à-dire trouver le point M qui soit au milieu de la droite AB.*

*Solution I<sup>re</sup>.* Après avoir décrit (*fig. 14*) la demi-circonférence BCDE (**64**), du centre E et d'un rayon EB soit décrit un arc indéfini  $P B p$ ; du centre B et d'un rayon BA, soit encore décrite la demi-circonférence  $p A P m$ ; ensuite, du centre P et du rayon PB soit décrit l'arc BM, et qu'on fasse à  $P m = BM$ ; le point M sera le point cherché.

*Démonstration.* La ligne  $B m$  sera sur le prolongement de  $B p$  (*15, liv. 4*). Substituant les trois lignes égales BP,  $B p$ ,  $B m$  aux trois lignes égales Ap,  $p B$ ,  $p S$  du n<sup>o</sup> 22, les trois lignes égales PE, BE,  $p E$  aux trois lignes AQ,  $p Q$ , BQ, et la ligne  $P m$  à la ligne AS; l'équation  $AS.pQ = (Ap)^2$  (**22**) deviendra  $P m.BE = (BP)^2$ . Mais  $BE = 2AB$ , et  $BP = AB$ : donc  $2AB.P m = (AB)^2$ ; et divisant par AB, on a  $2P m = AB = 2BM$ . De plus, les triangles BPM,  $BP m$  ont leurs angles égaux (*8, liv. 1*): donc  $mP$  est parallèle à BM (*28, liv. 1*). Mais les triangles  $BP m$ , BPE ont aussi les angles

égaux (22) : donc  $mP$  est parallèle à  $BE$  (28, liv. 1); donc les droites  $BM$ ,  $BE$  se confondent.

*Solution II.* Du point  $A$  comme centre, et du rayon  $AB$  (*fig. 15*), soit décrite la demi-circonférence  $BCDE$  (64); des points  $B$  et  $E$  comme centres, et du même rayon  $AB$ , soient décrits les deux arcs indéfinis  $CP$ ,  $DQ$ ; des mêmes points  $B$  et  $E$ , comme centres, et du rayon  $BE$ , soient décrits les deux arcs  $EQ$ ,  $BP$ ; du centre  $P$  et d'un rayon  $PB$  soit décrit l'arc  $BM$ ; enfin qu'on décrive du point  $E$  comme centre, et d'un rayon  $PQ$ , un arc qui coupe l'arc  $BM$  au point  $M$ ; le point  $M$  sera le point cherché.

*Démonstration.* Après avoir fait les substitutions nécessaires dans la *fig. 5* (23), on aura

$$PQ \cdot BE = (BE)^2 - (BP)^2.$$

Mais  $BE = 2AB$ ,  $BP = AB$ ,  $PQ = ME$ ; donc

$$2ME \cdot AB = 4(AB)^2 - (AB)^2 = 3(AB)^2;$$

donc, divisant par  $AB$ , on aura  $2ME = 3AB$ . Mais à cause de l'égalité des côtés opposés,  $PQEM$  sera un parallélogramme qui, divisé en deux triangles équilatéraux par la diagonale  $QM$ , donne l'angle  $PQM = QME$  (8, liv. 1):

d'où l'on voit que PQ est parallèle à ME (28, liv. 1), et PM parallèle à QE (33, liv. 1). De plus, on a PQ parallèle à BE (23); donc ME, BE coïncident; donc, ayant  $ME = MA + AE = MA + AB$ , on aura

$$2ME = 2MA + 2AB = 3AB;$$

d'où l'on tire

$$2MA = AB.$$

*Solution III.* Du centre A et d'un rayon AB soit décrite (fig. 16) la demi-circonférence BCDE (64); du centre B et d'un rayon BE soit décrit l'arc indéfini PE $\rho$ ; du centre E et d'un rayon EC, qu'on décrive un arc qui coupe ce dernier aux points P et  $\rho$ ; des centres P et  $\rho$ , et du même rayon PE, soient décrits deux arcs qui se coupent en M, le point M sera le point cherché.

*Démonstration.* Le point M sera sur la droite BE (13); et en substituant dans l'équation (19)  $pP \cdot pQ = (Ap)^2$  les distances, c'est-à-dire les droites correspondantes de cette figure, on aura l'équation  $EM \cdot EB = (PE)^2$ . D'où, à cause de  $(PE)^2 = (EC)^2 = 3(AB)^2$  (12, liv. 13) (2), on aura

$$2AB \cdot EM = 3(AB)^2;$$



et divisant par  $AB$ ,  $2EM = 3AB$ , ou bien

$$2AE + 2AM = 3AB :$$

d'où, retranchant les quantités égales  $2AE$ ,  $2AB$ , il reste  $2AM = AB$ .

*Solution IV.* La demi-circonférence  $BCDE$  (*fig. 17*) étant décrite (64); du centre  $B$  et d'un rayon  $BD$  soit décrit un arc indéfini  $aDp$ ; du centre  $E$  et du même rayon  $BD$  soit décrit un arc qui coupe celui  $aDp$  au point  $a$ ; puis du rayon  $Aa$  et du centre  $E$  soit décrit un arc qui coupe cet arc  $aDp$  en  $P$  et  $p$ ; enfin du même rayon  $Aa$  et des centres  $P$  et  $p$  soient tracés deux arcs qui se coupent en  $M$ , le point  $M$  sera le point cherché.

*Démonstration.* Le point  $M$  sera sur la droite  $BE$  (13); puis, faisant les substitutions nécessaires dans l'équation

$$(AQ)^2 = (Ap)^2 + pQ.PQ, \quad (18)$$

on aura

$$(PB)^2 = (PE)^2 + EB.MB;$$

ou

$$(BD)^2 = (Aa)^2 + 2AB.MB;$$

ou bien (12, liv. 13), (2)

$$3(AB)^2 = 2(AB)^2 (27) + 2AB.MB:$$

d'où, soustrayant  $2(AB)^2$ ,

$$AB = 2MB.$$

On peut donner plusieurs autres solutions de ce problème, ou en employant de nouveaux rayons de cercle, ou en combinant entre elles les solutions précédentes ; mais je crois inutile de les indiquer. En voici une assez simple, mais qui pourtant n'est pas très exacte dans la pratique, parce que les arcs s'y coupent à angles trop aigus.

*Solution V.* Après avoir décrit (*fig. 14*), 1°. du centre A et d'un rayon AB la demi-circonférence BCDE (64); 2°. du centre E et d'un rayon EB l'arc indéfini PBp, qu'on décrive du centre B et d'un rayon AB un arc qui coupe l'arc PBp en P et p; soient encore décrits, des centres P et p et du même rayon AB, deux arcs qui se coupent en M, le point M sera le point cherché.

*Démonstration.* Le point M sera sur la droite BE (13); et comme, à cause d'un angle à la base commun en B (5, 32, *liv. 1*, 4, *liv. 6*), les deux triangles isoscèles BPM, PBE sont semblables, on aura

$$BE : BP :: BP : BM :$$

d'où (17, *liv. 6*)

$$BE \cdot BM = (BP)^2 = (AB)^2,$$

ou

$$2AB \cdot BM = (AB)^2;$$

et divisant par AB,

$$2BM = AB.$$

## PROBLÈME.

**67.** Continuer la sous-division en deux parties égales, avec une construction plus simple, de AM en N, de AN en O, etc., à l'infini.

*Solution I<sup>re</sup>.* Après avoir décrit (fig. 18) du rayon AB la demi-circonférence BCDE (64); du centre B avec le même rayon AB, l'arc indéfini P'CAp'; des centres E et B et du rayon BE les deux arcs R'Q'P'Bp'q'r', PQRERqp; et du centre E du rayon EC, l'arc PCp; si l'on décrit des centres P' et p' et du rayon AB deux arcs, ils se couperont en M au milieu de la droite AB (solution V) (66). Si des centres P et p et du rayon PE on décrit deux arcs, ils se couperont aussi au même point M (solution III) (66). Qu'on fasse maintenant à AP' = BQ' = Bq' = q'N = Q'N (41), le point N sera au milieu de la droite AM. Qu'on fasse à

$AQ' = BR' = Br' = r'O = R'O$ , le point  $O$  sera au milieu de la droite  $AN$ . En continuant ainsi, on diviserait de la même manière  $AO$  en deux parties égales, etc., à l'infini.

*Démonstration.* Si l'on imagine une droite  $P'A$  qui divise en deux parties la base  $BE$  du triangle  $P'BE$  (12), on aura (26)

$$(BP')^2 + (P'E)^2 = 2(AB)^2 + 2(AP')^2.$$

D'où, après avoir substitué les valeurs de  $BP' = AB$  et de  $P'E = 2AB$ ; et soustrayant  $2(AB)^2$ , on aura  $3(AB)^2 = 2(AP')^2$ ; d'où l'on tirera, en divisant par 2,

$$(AP')^2 = (BQ')^2 = \frac{3}{2}(AB)^2;$$

et comme le point  $N$  est sur la droite  $BE$  (13), le triangle isocèle  $Q'BN$ , à cause de l'angle commun en  $B$  (5 et 32, liv. 1, 4, liv. 6) sera semblable au triangle  $Q'BE$ . D'où  $(BQ')^2 = BN \cdot BE$  (17, liv. 6). Puis, comparant entre elles les deux valeurs de  $(BQ')^2$ , l'on aura

$$\frac{3}{2}(AB)^2 = BN \cdot BE = 2BN \cdot AB,$$

et divisant par  $2AB$ ,

$$\frac{3}{4}AB = BN :$$

donc

$$AN = \frac{1}{4} AB.$$

De même on aura (26)

$$(BQ')^2 + (Q'E)^2 = 2(AB)^2 + 2(AQ')^2;$$

d'où

$$\frac{3}{2}(AB)^2 + 4(AQ')^2 = 2(AB)^2 + 2(AQ')^2;$$

et réduisant

$$\frac{7}{4}(AB)^2 = (AQ')^2 = (BR')^2.$$

Mais  $(BR')^2 = BO \cdot BE = 2 AB \cdot BO$ ;

donc aussi

$$\frac{7}{4}(AB)^2 = 2 AB \cdot BO;$$

d'où

$$\frac{7}{8} AB = BO, \text{ et } AO = \frac{1}{8} AB, \text{ etc.}$$

*Solution II.* Qu'on fasse à  $AP = EQ = Eq = qN = QN$ , le point N sera au milieu de la droite AM.

Qu'on fasse à  $AQ = ER = Er = rO = RO$ , le point O sera au milieu de la droite AN. Continuant de la même manière, on partagerait en deux la droite AO, et ainsi de suite à l'infini.

*Démonstration.* En effet, on a (26)

$$(PE)^2 + (PB)^2 = 2(AB)^2 + 2(AP)^2;$$

puis, substituant les valeurs de  $(PE)^2 = (CE)^2 = 3(AB)^2$  (12, liv. 3) (2), et de  $(PB)^2 = (BE)^2 = 4(AB)^2$ , on aura

$$7(AB)^2 = 2(AB)^2 + 2(AP)^2;$$

d'où ôtant  $2(AB)^2$ , et divisant par 2, on a

$$\frac{5}{2}(AB)^2 = (AP)^2 = (EQ)^2.$$

Mais à cause des triangles isoscèles semblables EQN, EQB (13) (5 et 32, liv. 1, 4 et 17, liv. 6),  $(EQ)^2 = EN \cdot EB$ ; donc,

$$\frac{5}{2}(AB)^2 = EN \cdot EB = 2 EN \cdot AB;$$

et divisant par  $2 AB$ , on a

$$\frac{5}{4} AB = EN, \text{ et } AN = \frac{1}{4} AB.$$

En raisonnant de la même manière, on aura

$$(QE)^2 + (QB)^2 = 2(AB)^2 + 2(AQ)^2;$$

d'où :

$$\frac{5}{2}(AB)^2 + 4(AB)^2 = 2(AB)^2 + 2(AQ)^2;$$

d'où aussi

$$\begin{aligned} \frac{9}{4}(AB)^2 &= (AQ)^2 = (ER)^2 = EO \cdot EB \\ &= 2 AB \cdot EO; \end{aligned}$$

et divisant par 2 AB,

$$\frac{9}{8} AB = EO$$

et

$$AO = \frac{1}{8} AB, \text{ etc.}$$

*Solution III.* Du centre A et du rayon AB (*fig.* 19) soit décrite la demi-circonférence BCDE (64); avec le même rayon AB, et des centres B et E, soient décrits les arcs indéfinis CP, Dp; des mêmes centres B et E, et du rayon BE, soient décrits les arcs Epq<sub>r</sub>, BPQR, on pourra trouver le point M, en faisant PM = PB, EM = Pp (*solution II*) (66). Actuellement, qu'on fasse à AP = BQ = QN = Eq; qu'on fasse aussi à Qq = EN, le point N sera au milieu de la droite AM. Soit fait pareillement à AQ = BR = RO = Er, et à Rr = EO, le point O sera au milieu de la droite AN.

*Démonstration.* Après avoir fait dans la *fig.* 5 (23) les substitutions nécessaires, on aura

$$Qq \cdot BE = (BE)^2 - (BQ)^2.$$

Mais  $BE = 2 AB$ , et  $(BQ)^2 = \frac{3}{2} (AB)^2$  (*voyez la démonstration de la solution I<sup>re</sup>*); donc

$$2 Qq \cdot AB = 4 (AB)^2 - \frac{3}{2} (AB)^2;$$

puis, divisant par  $2 AB$ , et réduisant, on a

$$Qq = \frac{5}{4} AB.$$

Donc aussi  $EN = \frac{5}{4} AB$ ; donc la droite  $AB$  étant la même dans les deux *fig.* 18 et 19, les côtés des deux triangles  $Q'NE$  (*fig.* 18),  $QNE$  (*fig.* 19), seront aussi les mêmes. D'où en superposant les trois points  $B, Q, E$  de la *fig.* 19, sur les trois points  $B, Q', E$  de la *fig.* 18, les points  $N$  des deux figures se confondront aussi; donc, etc.

De même, faisant les substitutions nécessaires dans la figure 5 (23), on a

$$Rr \cdot BE = (BE)^2 - (BR)^2.$$

Mais  $(BR)^2 = \frac{7}{4} (AB)^2$  (*démonstration de la solution I<sup>re</sup>*); donc

$$Rr \cdot BE = (BE)^2 - \frac{7}{4} (AB)^2;$$

ou bien, substituant  $2 AB$  à  $BE$ , on a



$$2 AB.Rr = 4 (AB)^2 - \frac{7}{4} (AB)^2;$$

puis, divisant par  $2 AB$  et réduisant ,

$$Rr = \frac{9}{8} AB = OE.$$

Donc les points E, R, B de la fig. 19 coïncidant avec les points E, R', B de la fig. 18, et les lignes RO et EO y étant respectivement égales aux lignes R'O, EO de la fig. 18, le point O coïncidera aussi. D'où l'on voit que le point O se trouvera au milieu de la ligne AN. On démontrerait de même pour les autres divisions jusqu'à l'infini.

On pourrait employer d'autres moyens pour trouver les mêmes points : mais nous passerons à d'autres divisions de la ligne AB en un nombre différent de parties.

#### PROBLÈME.

**68.** *Diviser la distance AB en trois parties égales.*

*Solution.* Qu'on ajoute en ligne droite de part et d'autre à AB (fig. 20) les deux distances AE, BV qui lui sont égales (64); des centres E et V et du rayon EV soient décrits les deux arcs indéfinis QVq, PEp; des mêmes

centres E et V et du rayon EB soient décrits deux autres arcs qui coupent les premiers en Q, q, et P, p; avec ce même rayon EB, et des centres P et p, soient décrits deux arcs qui se coupent en T; enfin, avec le même rayon et des centres Q, q soient décrits deux arcs qui se coupent en t, la ligne AB sera divisée en trois parties égales aux deux points T et t.

*Démonstration.* Les points T, t seront dans la ligne droite VE (13); puis, à cause de l'angle commun en E (5 et 32, liv. 1; 4, liv. 6), le triangle isoscèle EPT sera semblable au triangle isoscèle EPV; donc  $(PE)^2 = ET \cdot EV$  (17, liv. 6). Substituant dans cette équation 2 AB pour PE, et 3 AB pour EV, elle deviendra  $\frac{4}{3} AB = ET$ ; d'où  $AT = \frac{1}{3} AB$ . On démontrerait de même que Bt est un tiers de AB, et par conséquent aussi T t.

## PROBLÈME.

69. *Diviser une distance AB en un nombre quelconque de parties égales*

*Solution.* Un exemple ou deux feront mieux sentir la règle générale.

*Exemple 1<sup>er</sup>.* Soit (fig. 21) la distance AB

à diviser en cinq parties égales ; qu'on lui ajoute en ligne droite les quatre distances  $AE$ ,  $EF$ ,  $FG$ ,  $GH$  (65) qui lui sont égales , de manière qu'elle soit quintuplée en  $BH$ , c'est-à-dire multipliée par autant d'unités qu'il y en a dans le nombre qui indique en combien de parties on veut la diviser. Des extrémités  $B$  et  $H$ , comme centres, et avec un rayon  $AB$  de la longueur de la distance qu'on veut diviser, qu'on décrive deux arcs indéfinis  $AC$ ,  $GI$ ; des mêmes centres  $B$  et  $H$ , et avec un rayon  $BH$ , soient décrits les deux arcs  $HI$ ,  $BC$ ; puis du centre  $C$  et du premier rayon  $AB$  qu'on décrive un arc indéfini  $BQ$ ; enfin, du centre  $H$  avec le rayon  $CI$  qu'on décrive un arc qui coupe l'arc  $BQ$  en  $Q$ ; la distance  $BQ$  sera sur la direction de la ligne  $BA$ , et en sera la cinquième partie.

Si l'on ajoute ainsi à  $BQ$  la droite égale  $Qq$  (64), et ensuite les autres lignes égales  $qr$ ,  $rs$ , on aura déterminé toutes les cinquièmes parties de la droite  $BA$ .

*Exemple II.* Si l'on veut diviser la distance  $AB$  en sept parties égales (*fig. 22*), soit faite la ligne  $BH$  sept fois plus grande que  $BA$ ; des extrémités de cette ligne, c'est-à-dire des points  $B$  et  $H$ , et avec le rayon  $AB$ , soient

décrits les arcs indéfinis AC, GI; des mêmes centres B et H, et du rayon BH, soient décrits les deux arcs HI, BC; du centre C et du premier rayon AB soit décrit un arc indéfini BQ; du centre H et du rayon CI soit décrit un arc qui coupe cet arc BQ en Q; BQ sera sur la direction de BA, et en sera la septième partie.

*Démonstration.* Les triangles CQI, IHQ ayant leurs côtés respectivement égaux, on aura l'angle CIQ = IQH (8, liv. 1); donc CI est parallèle à HQ (28, liv. 1). De plus, la ligne CI étant aussi parallèle à BH (23), le point Q sera sur la ligne BH. D'où l'on voit que les deux triangles isoscèles CBQ, CBH ayant un angle à la base commun en B, seront semblables (5, 32, liv. 1; 4, liv. 6); ce qui donne

$$HB : BC :: BC : BQ,$$

ou bien

$$HB : AB :: AB : BQ :$$

donc la ligne AB sera autant de fois plus grande que BQ, que la droite HB sera de fois plus grande que AB.

*Solution II.* Si l'on veut diviser (fig. 23) la ligne AB, par exemple, en cinq parties égales, après avoir déterminé, comme dans la *solution I*, la ligne BH cinq fois plus grande que

la ligne AB, soit décrit du centre H et du rayon AB un arc indéterminé CBc; maintenant, du centre B, avec le rayon BA, qu'on décrive la demi-circonférence cCK (64); puis, du centre C, avec le même rayon AB, soit décrit l'arc BQ; enfin du centre B et du rayon CK qu'on décrive un arc qui coupe cet arc BQ en Q, la ligne BQ sera la cinquième partie de la ligne BA, et sera placée dans la même direction.

*Démonstration.* La droite BK sera sur le prolongement de la ligne BC (15, liv. 4). Après avoir fait les substitutions nécessaires (22), on aura

$$KC \cdot BH = (BC)^2 = (AB)^2;$$

ce qui donne (17, liv. 6)

$$BH : AB :: AB : KC;$$

ou bien

$$BH : AB :: AB : BQ :$$

donc la même ligne AB sera d'autant plus grande que BQ, que BH sera plus grande que AB; et quand on aura  $BH = 5AB$ , on aura aussi  $AB = 5BQ$ ; ensuite les deux triangles BKC, BCQ ayant tous leurs côtés égaux entre eux, on aura l'angle  $KCB = CBQ$  (8, liv. 1). Mais l'angle CBH est aussi égal à l'angle KCB (22): donc BQ sera sur la direction de BH.

70. Il est clair que ce dernier problème (69) peut être très utile dans la pratique pour diviser en lignes un pied déjà divisé en pouces, puisque BH étant égale à douze pouces, BQ deviendra égale à la douzième partie du premier pouce AB, c'est-à-dire à une ligne. On pourra de la même manière sous-diviser en centimètres le mètre déjà divisé en décimètres. Quand la droite AB, sur laquelle on doit trouver le point Q, sera décrite, l'opération sera plus simple, puisque, sans décrire du centre C, et avec le rayon AB, l'arc BQ, il suffira de couper en Q la droite donnée AB avec les ouvertures de compas précédemment indiquées.

# LIVRE QUATRIÈME.

## DE L'ADDITION ET DE LA SOUSTRACTION DES DISTANCES ; DE LA SITUATION DES PERPENDICULAIRES ET DES PARALLÈLES.

71. Il est sans doute fort simple et très facile d'ajouter à des distances données , ou d'en retrancher une autre distance avec la règle et le compas , en tirant une droite indéfinie par les deux extrémités de la première distance , et en y ajoutant ou en en retranchant avec le compas la seconde distance (3, *liv. 1*) ; mais il n'est certainement pas aussi prompt ni aussi aisé de le faire avec le compas seul : aussi ne donnerons-nous pas ici les problèmes suivans comme d'un grand usage , mais seulement pour faire voir qu'il n'y a aucun problème de Géométrie élémentaire qu'on ne puisse aussi résoudre avec le compas seul dans le sens déjà expliqué (1), ce qu'on démontrera dans la suite plus rigoureusement , et pour remplir la promesse que nous avons faite (7) de n'omettre aucun des élémens de cette nouvelle Géométrie.

## PROBLÈME.

72. De la distance  $AB$  (fig. 24) retrancher une distance égale à  $CD$ .

*Solution.* Du centre  $B$  et du rayon  $CD$  (si c'est du côté de  $B$  qu'on veut retrancher la distance) décrivez la circonférence  $FGEH$ ; du centre  $A$ , et d'un rayon quelconque soit décrit un arc qui la coupe en  $E$  et  $F$ , et divisez en deux parties égales au point  $G$  l'arc  $EGF$  (60), le point  $G$  sera sur la droite  $BA$ , et l'on aura pour reste la ligne  $GA$ .

*Démonstration.* Les triangles  $EBG$ ,  $FBG$  ayant les côtés égaux, l'angle  $EBG$  sera égal à l'angle  $FBG$  (8, liv. 1) : donc l'angle  $EBG$  sera égal à la moitié de l'angle  $EBF$ . Les triangles  $EBA$ ,  $FBA$  ayant aussi les côtés égaux entre eux, on prouvera de même que l'angle  $EBA$  est aussi la moitié de l'angle  $EBF$ . Donc l'angle  $EBG$  est égal à l'angle  $EBA$  : donc le point  $G$  est sur la droite  $BA$ . Mais  $BG$  est aussi égal à  $CD$  : donc en retranchant de  $AB$  la droite  $CD$ , on aura  $GA$  pour reste.



## PROBLÈME.

73. *Ajouter à la ligne AB (fig. 25) la distance CD en ligne droite.*

*Solution.* Du centre B (si c'est de ce côté qu'on veut ajouter la distance CD) et d'un rayon CD, soit décrit le cercle FGEH. Du centre A, et d'un rayon quelconque, soit décrit un arc qui coupe le cercle en E et F; qu'on divise en deux parties au point H l'arc EHF (60), le point H sera sur la droite AB, et AH sera la somme des deux distances AB, CD.

*Démonstration.* Les triangles EBH, FBH ayant les côtés respectivement égaux, ainsi que EBA, FBA, l'angle EBH sera égal à l'angle FBH, et l'angle EBA égal à l'angle FBA. Donc

$$EBH + EBA = FBH + FBA.$$

Mais la somme de ces quatre angles vaut quatre angles droits (13, liv. 1) : donc leur moitié (par exemple EBH + EBA) vaudra deux angles droits; d'où l'on voit que la ligne HBA sera droite (14, liv. 1). De plus, BH=CD;

donc

$$AH = AB + CD.$$

PROBLÈME.

74. Placer sur  $AB$  (fig. 25), de  $B$  vers  $A$ , la distance  $CD$  plus grande que  $AB$ .

*Solution.* Du centre  $B$  et du rayon  $CD$ , soit décrit un arc indéfini  $LMN$ , ou un cercle entier ; du centre  $A$ , et d'un rayon arbitraire, soit décrit un arc qui coupe le premier aux points  $L$  et  $N$  ; qu'on divise l'arc  $LN$  en deux parties égales au point  $M$  (60), la ligne  $BM$  sera la ligne  $CD$  placée où on voulait qu'elle le fût.

*Démonstration.* Comme on a l'angle  $LMA = NMA = \frac{1}{2} LMN$ , et aussi  $LMB = NMB = \frac{1}{2} LMN$ , on trouvera, par le moyen des démonstrations des deux problèmes précédens, que l'angle  $LMA = LMB$  : d'où l'on voit que  $BAM$  est droite ; de plus, elle est égale à  $CD$  : donc, etc.

75. *Observation.* Si l'arc décrit du centre  $A$  coupait à angles trop aigus l'arc décrit du centre  $B$ , ce qui arrive quand la ligne  $AB$  est

trop petite par rapport à  $CD$ , il faudrait ajouter à  $BA$  la ligne égale  $AE$  en ligne droite, et couper avec un arc décrit du centre  $E$  en  $L$  et  $M$  l'arc  $LMN$  décrit du centre  $B$ ; si alors les angles des deux arcs sont encore trop aigus, il faut tripler, quadrupler, etc. (65), la ligne  $BA$  de  $B$  vers  $A$ , jusqu'à ce que le point qui la termine, pris pour centre du second arc, donne les angles d'intersection en  $L$  et  $M$  plus approchans de l'angle droit. On fera la même chose dans les cas semblables pour les n<sup>os</sup> 72 et 73.

## PROBLÈME.

76. *Étant donnés deux points  $A$  et  $B$  (fig. 26), trouver un point  $H$  tel que la droite  $BH$  soit perpendiculaire en  $B$  à la ligne  $AB$ , et égale à une ligne donnée  $CD$ .*

*Solution.* Du centre  $B$ , et avec la distance  $CD$  pour rayon, soit décrit un cercle  $FEHG$ ; du centre  $A$ , et avec la distance  $AB$  pour rayon, soit décrit un arc qui coupe le cercle en  $F$  et  $E$ ; qu'on détermine la demi-circonférence  $FEG$  (64), et qu'on divise en deux parties égales au point  $H$  l'arc  $GE$  (60), le point  $H$  sera le point cherché.

*Démonstration.* A cause de la similitude des triangles  $GEB$ ,  $EBA$  (22), on aura l'angle  $GEB = EBA$  : d'où l'on voit que  $GE$  est parallèle à  $BA$  (28, liv. 1). Mais  $BH$ , qui divise l'angle  $GBE$  en deux parties égales, est perpendiculaire à la corde  $GE$  (9, 11, 12, liv. 1), et par conséquent aussi à  $BA$  (28, liv. 1). Or, on a de plus  $BH = CD$ ; donc  $H$  est le point cherché.

Si la ligne  $AB$  était plus petite que  $CD$ , il faudrait doubler, tripler, etc. (64, 65).

#### PROBLÈME.

77. *Étant donnés deux points A et B (fig. 27), trouver un point D, tel que DA soit perpendiculaire à AB.*

*Solution.* Des centres  $A$  et  $B$ , et d'un rayon ( $AB$ , par exemple) pris arbitrairement, soient décrits deux arcs qui se coupent en  $C$ ; avec le même rayon, et du centre  $C$ , soit décrite la demi-circonférence  $BAD$  (64), le point  $D$  sera le point cherché.

*Démonstration.* L'angle  $DAB$  est inscrit et appuyé sur le diamètre : donc il est droit (31, liv. 3).

## PROBLÈME.

78. *Étant données les deux extrémités d'une droite AB, et un point D pris hors de cette ligne, trouver (fig. 28) un autre point E qui détermine la position de la droite DE perpendiculaire à AB, et le point M où elle la coupe.*

*Solution.* Soit fait à  $AD = AE$ , à  $BD = BE$  (11), le point E sera le premier point cherché. Soit divisée la ligne DE en deux parties égales au point M, le point M sera le second point.

*Démonstration.* Elle se trouve au n° 14.

## PROBLÈME.

79. *Trouver deux points d'une droite qui soit perpendiculaire au milieu de DE (fig. 28).*

*Solution.* Soit fait à un rayon quelconque pris arbitrairement  $= DA = EA$ ; soit fait de l'autre côté au même rayon, ou à tout autre pris arbitrairement,  $= DB = EB$ , les points A et B seront les deux points cherchés.

*Démonstration.* Elle se trouve au n° 14.

## PROBLÈME.

80. *Étant donnés deux points A et B (fig. 29) d'une ligne droite, et un point C pris hors de cette ligne, par lequel on veut mener une parallèle à AB, trouver un autre point D qui en détermine la position.*

*Solution.* Soit fait à  $CA = BD$  (11) et à  $BA = CD$ , le point D sera le point cherché.

*Démonstration.* Dans les deux triangles CDB, CAB, qui ont les trois côtés égaux chacun à chacun, l'angle DCB est égal à l'angle CBA (8, liv. 1) : donc CD est parallèle à AB (28, liv. 1).

## PROBLÈME.

81. *Étant donnés (fig. 30) deux points A et B d'une ligne droite, et un point C pris hors de cette ligne, porter à ce point C une distance CB; de manière que la droite CE soit parallèle à AB, et égale à une ligne donnée MN.*

*Solution.* Ayant trouvé un point D de la ligne parallèle qui passe par le point C (80), sur la direction de la ligne CD, placez la droite MN, en la soustrayant, si elle est plus petite

(72), ou en l'ajoutant de l'autre côté (73), ou en la plaçant sur CD de C vers D, si elle est plus grande (74), suivant que l'exigeront les conditions du problème.

Cette solution n'a pas besoin de démonstration.

## PROBLÈME.

82. Vérifier (fig. 31) si les points A, B, C sont en ligne droite.

*Solution.* Des centres A et C, et d'un rayon (AC, par exemple) pris arbitrairement, soient décrits deux arcs qui se coupent en D et E; puis qu'on observe si  $DB = EB$ : si cela est, les trois points A, B, C sont en ligne droite; sinon, ils n'y sont pas.

*Démonstration.* Si l'on a encore  $DB = EB$ , on aura l'angle  $DAB = EAB = \frac{1}{2} DAE$  (8, liv. 1), car les deux triangles DAB, ABE ont les côtés égaux chacun à chacun. Mais, par la même raison, dans les triangles DAC et EAC, les angles DAC, EAC sont égaux, et par conséquent chacun d'eux est égal à la moitié de l'angle DAE: donc on aura  $DAB = DAC$ ; d'où l'on voit que les trois points ABC sont en ligne droite.

Mais si la ligne  $DB$  est plus grande ou plus petite que  $EB$ , l'angle  $DAB$  sera ou plus grand ou plus petit que l'angle  $EAB$  (25, liv. 1); il ne pourra donc pas être égal à l'angle  $DAC$ , puisqu'il ne saurait être égal à la moitié de l'angle  $DAE$  : donc les trois points  $A, B, C$  ne pourront être en ligne droite.

## PROBLÈME.

83. *Étant donnés trois points  $A, B, D$  (fig. 32), vérifier si la ligne  $DA$  est perpendiculaire à  $AB$ .*

*Solution.* Soit doublée la ligne  $AB$  en  $BE$  (64) par le moyen du demi-cercle  $BPQE$ ; qu'on observe si l'on a  $DB = DE$  : si cela est, l'angle  $DAB$  est droit; autrement il ne l'est pas.

*Démonstration.* La droite  $BAE$  étant le diamètre du cercle, fera avec  $DA$  deux angles dont la somme vaudra deux angles droits (13, liv. 1). De plus, dans les deux triangles  $DAE, DAB$ , qui ont les côtés  $AE, AB$  égaux et le côté  $AD$  commun, quand on aura le côté  $DE$  égal au côté  $DB$ , l'angle  $DAE$  sera aussi égal à l'angle  $DAB$  (8, liv. 1), et par conséquent ils seront tous deux droits. Mais quand  $DE$  sera plus grande ou plus petite que  $DB$ , l'angle



DAE sera aussi plus grand ou plus petit que DAB : donc l'un sera aigu et l'autre obtus (25, liv. 1).

## PROBLÈME.

84. *Vérifier si la droite qui passe par deux points donnés D, F (fig. 33), est perpendiculaire à celle qui passe par deux autres points donnés A, B.*

*Solution.* Trouvez, par le moyen du point D, la droite DE perpendiculaire à AB (78), et voyez si les trois points DEF sont en ligne droite (82) : s'ils y sont, la ligne DF est perpendiculaire à AB ; sinon, elle ne l'est pas.

*Démonstration.* En effet, DE est perpendiculaire par construction ; si DF l'est aussi, ce sera la même droite, puisque d'un point D à une droite AB on ne peut mener deux perpendiculaires (*corroll. prop. 32, liv. 1*).

## PROBLÈME.

85. *Étant donnés (fig. 34) deux points A, B d'une droite, et deux points C, D d'une autre, vérifier si ces deux lignes sont parallèles.*

*Solution.* Soit fait à  $AD = AE$ , à  $BD = BE$

(11), et de même à  $AC = AF$  et à  $BC = BF$ ; on observera si  $DE = CF$ ; dans ce cas, les deux lignes seront parallèles; sinon, elles convergeront du côté de la plus petite.

*Démonstration.* Les lignes  $DE$ ,  $CF$  sont perpendiculaires à  $AB$ , et sont coupées par moitié aux deux points  $M$  et  $N$  (14): donc elles sont respectivement doubles des distances  $DN$ ,  $CN$  des points  $D$  et  $C$  de la droite  $AB$ : donc, quand ces lignes seront égales, les distances le seront aussi, et par conséquent les lignes  $AB$ ,  $DC$  seront parallèles; autrement elles convergeront.

# LIVRE CINQUIÈME.

## DES DISTANCES PROPORTIONNELLES.

### PROBLÈME.

86. *Trouver une troisième proportionnelle à deux distances  $Qp$ ,  $MN$  (fig. 35), dont la première  $Qp$  est plus grande que la seconde  $MN$ .*

*Solution.* Du centre  $Q$  et d'un rayon  $Qp$ , soit décrit un arc indéfini  $ApB$ ; du centre  $p$  et d'un rayon  $MN$  soit décrite la demi-circonférence  $BAS$ ; la ligne  $AS$  sera la troisième proportionnelle demandée.

*Démonstration.* Par le lemme du n° 22, on aura

$$AS.pQ = (Ap)^2;$$

donc

$$AS.pQ = (MN)^2,$$

donc (17, liv. 6)

$$pQ : MN :: MN : AS.$$

## PROBLÈME.

87. *Trouver une troisième proportionnelle à deux distances  $Qp$ ,  $MN$  (fig. 36), dont la première est plus petite que la seconde, mais pourtant plus grande que la moitié de cette ligne.*

*Observation.* Nous serons assurés que la ligne  $Qp$  est plus grande que la moitié de  $MN$ , si les deux cercles décrits des centres  $Q$  et  $p$ , qui sont les extrémités de la première distance, et des rayons  $Qp$  et  $MN$ , qui sont les deux distances données, se coupent comme dans la figure.

*Solution.* C'est la même que la précédente, appliquée à la fig. 36.

*Démonstration.* Elle est la même que la précédente.

88. Si le cercle  $pbQ'$  (fig. 37), décrit du centre  $Q$  et du rayon  $Qp$  n'avait aucun point d'intersection avec le cercle décrit du centre  $p$  et du rayon  $MN$ , comme dans la figure 37, on se servirait du problème suivant.

## PROBLÈME.

**89.** Trouver (fig. 37) une troisième proportionnelle à deux distances  $Qp$ ,  $MN$ , dont la première est plus petite que la moitié de la seconde.

*Solution.* Du centre  $p$  et du rayon  $MN$  soit décrit un arc indéfini  $BAS$ ; du centre  $Q$  et du rayon  $Qp$  soit décrite la demi-circonférence  $pbQ'$  (64); du centre  $Q'$  et du rayon  $Q'p$  soit décrit un arc indéfini; si cet arc coupe l'arc  $BAS$  en deux points  $B$  et  $A$ , qu'on détermine la demi-circonférence  $BAS'$  (64), et qu'on ajoute en ligne droite à  $AS'$  (64) une droite égale  $S'S$ , la ligne  $AS$  sera la troisième proportionnelle cherchée.

*Démonstration.* On a (22)

$$AS' \cdot pQ' = (Ap)^2 = (MN)^2.$$

Mais  $pQ' = 2pQ$ ; donc

$$2AS' \cdot pQ = (MN)^2;$$

ou bien  $AS \cdot pQ = (MN)^2$ , d'où (17, liv. 1)

$$pQ : MN :: MN : AS.$$

**90.** Si cependant l'arc  $pcQ''$  (fig. 38) décrit

du centre  $Q'$  et du rayon  $Q'p$  coupait l'arc  $BAS$  décrit du centre  $p$  et du rayon  $MN$ , déterminez la demi-circonférence  $pCQ''$ , et décrivez du centre  $Q''$  et du rayon  $Q''p$  un arc indéfini; s'il coupe l'arc  $BAS$  aux deux points  $A$  et  $B$ , déterminez la demi-circonférence  $BAS'$  (64); quadruplez  $AS'$  (65), et faites  $AS = 4AS'$ . Cette ligne sera la troisième proportionnelle cherchée.

*Démonstration.* En effet, on a (22)

$$AS' \cdot pQ'' = (Ap)^2 = (MN)^2,$$

et

$$4AS' \cdot pQ = (MN)^2 = AS \cdot pQ;$$

d'où (17, liv. 6)

$$pQ : MN :: MN : AS.$$

91. On procéderait de la même manière, quand même la distance  $Q''p$  serait plus grande que la moitié de  $MN$ ; c'est-à-dire on prendrait une distance double de cette ligne, et huit fois plus grande que  $Qp$ , et l'on octuplerait la ligne  $AS'$  que l'on vient de déterminer. Cette distance octuple de  $AS'$  serait la troisième proportionnelle cherchée, et ainsi de suite.

La démonstration est la même que celle qui précède.

92. Dans le cas encore où la première distance  $Qp$  serait un peu plus grande que la moitié de la seconde  $MN$ , il faudrait doubler cette distance, afin que les intersections des deux cercles se fassent à angles moins aigus et plus rapprochés de l'angle droit (9).

## PROBLÈME.

93. *Trouver une quatrième proportionnelle à trois distances  $PQ$ ,  $RS$ ,  $TV$  (fig. 32).*

*Solution.* D'un même centre  $O$ , et avec les deux premières distances  $PQ$  et  $RS$ , prises pour rayon, décrivez les deux cercles  $BC$ ,  $DE$ ; d'un rayon égal à la troisième distance  $TV$ , et d'un point quelconque  $B$  de la première circonférence, décrivez un arc de cercle qui la coupe en  $C$ ; du même point  $B$ , et avec un rayon arbitraire, décrivez un arc de cercle qui coupe la seconde circonférence en  $D$ ; du même rayon  $BD$  et du centre  $C$  coupez la même circonférence en  $E$ ; joignez les deux points par la droite  $DE$ ; elle sera la quatrième proportionnelle cherchée.

*Démonstration.* Les triangles  $COE$ ,  $BOD$ , ayant les côtés égaux entre eux, on aura l'angle

$COE = BOD$  (8, *liv. 1*); retranchant l'angle commun  $BOE$  (ou l'ajoutant), on aura  $COB = EOD$ ; donc  $OCB + OBC = OED + ODE$  (32, *liv. 1*). Mais les deux triangles  $COB, EOD$  sont isoscèles : donc les demi-sommes, c'est-à-dire les angles à la base, sont égaux ; donc ces deux triangles sont semblables, et l'on a

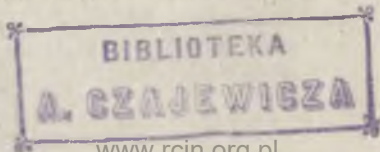
$$CO : DO :: CB : DE,$$

ou bien

$$PQ : RS :: TV : DE.$$

94. *Observation I<sup>re</sup>*. Il conviendra de prendre le rayon arbitraire  $BD$ , tel que l'angle  $BDO$  soit à peu près droit (9), ce qui peut se faire à vue d'œil.

95. *Observation II*. Si la troisième distance  $TV$  ne peut pas être placée comme corde sur  $BC$ , ce qui arrivera lorsque  $TV$  sera plus grande que deux fois la ligne  $PQ$ , il faudra doubler les deux distances  $PQ, RS$  (64), et avec ces deux distances ainsi doublées, décrire les deux cercles  $BC, DE$ , et achever la construction comme ci-dessus (93). Si cela ne suffisait pas, on les triplerait, etc., quand même  $TV$  pourrait s'appliquer comme corde au premier cercle ; si elle est presque égale au diamètre de ce cercle, il faudra doubler ou tripler ces dis-





tances pour éviter les sections à angles aigus, et en obtenir d'autres plus approchantes de l'angle droit.

La démonstration est fondée sur la proportion suivante :

$$PQ : RS :: 2PQ : 2RS :: 3PQ : 3RS :: \text{etc.}$$

Donc, lorsqu'on aura fait

$$BC : DE :: 2PQ : 2RS :: 3PQ : 3RS :: \text{etc.},$$

ce qui suit de la construction, on aura aussi

$$PQ : RS :: BC : DE;$$

ou

$$PQ : RS :: TV : DE \quad (4, \text{liv. } 5).$$

#### PROBLÈME.

**96.** *Diviser la droite MN en P, en parties proportionnelles à deux distances données PQ, RS.*

*Solution.* Portez sur le prolongement de PQ, la droite  $QV = RS$  (73); cherchez une quatrième proportionnelle aux trois droites PV, MN, PQ (93); portez-la sur la ligne MN en MP, en la soustrayant de MN (72);

le point P où elle tombera sera le point cherché.

*Démonstration.* On a par construction

$$PV : MN :: PQ : MP;$$

on aura donc aussi (5, liv. 5)

$$PV : MN :: QV : PN;$$

d'où

$$PQ : MP :: QV : PN;$$

ou bien

$$PQ : QV :: MP : PN;$$

et en mettant pour QV sa valeur,

$$PQ : RS :: MP : PN.$$

#### PROBLÈME.

97. *Diviser la droite AB (fig. 41) en moyenne et extrême raison.*

*Solution.* Du centre A et du rayon AB, décrivez le cercle B D d; soit fait dans sa circonférence à  $AB = BC = CD = DE = Ed$ ; faites à  $BD = Ba = Ea$ ; faites à  $Aa = Eb = db$ ; la droite AB sera divisée en moyenne et extrême raison au point b, et l'on aura

$$BA : Ab :: Ab : bB.$$

*Démonstration.* Voyez le n° 46.

98. Ce dernier problème est encore un de ceux que l'on résout au moyen du compas seul, plus simplement qu'avec la règle et le compas réunis. On peut s'en convaincre en comparant cette solution avec celles données dans les traités ordinaires de Géométrie. Cependant la démonstration en est plus compliquée.

PROBLÈME.

99. *Trouver une moyenne proportionnelle entre les distances données AB et CD (fig. 42).*

*Solution.* Sur la droite AB, portez CD de B en H (73); divisez AH en deux parties égales au point F (66); prolongez la ligne BF de la partie égale Bf (64); des points F et f pris pour centre, et avec un rayon égal à AF, décrivez deux cercles qui se coupent au point M, BM sera la moyenne proportionnelle demandée.

*Démonstration.* Les points f, B, F étant sur la même droite HA, et les triangles MBf, MBF ayant les côtés respectivement égaux,

on aura l'angle  $MBF = MBf$  (8, *liv. 1*), et par conséquent chacun de ces angles sera droit (13, *liv. 1*); donc MB sera perpendiculaire sur le diamètre du demi-cercle HMA. De là on a (13, *liv. 6*)

$$AB : BM :: BM : BH,$$

ou bien

$$AB : BM :: BM : CD.$$

# LIVRE SIXIÈME.

## DES RACINES.

### PROBLÈME.

100. *Trouver facilement les racines des nombres entiers, depuis un jusqu'à dix, en prenant pour unité la distance AB (fig. 43).*

*Solution.* Du rayon AB, décrivez le cercle BDd; faites à  $AB = BC = CD = DE = Ed = dc$ ; des points B et E pris pour centre, et du rayon BD, décrivez les arcs de cercle qui se coupent en  $a$  et  $\alpha$ ; du même rayon BD et des centres D et  $d$ , décrivez des arcs de cercles qui se coupent au point V. Du rayon Aa, et du centre B, coupez la circonférence au point F; des centres B et F et du rayon AB, décrivez deux arcs de cercle qui se coupent au point T; on aura

$AB = \sqrt{1}$		$aV = \sqrt{6}$
$Aa = \sqrt{2}$		$CV = \sqrt{7}$
$BD = \sqrt{3}$		$\alpha\alpha = \sqrt{8}$
$BE = \sqrt{4}$		$BV = \sqrt{9}$
$ET = \sqrt{5}$		$TV = \sqrt{10}$ .

*Démonstration.* On a prouvé (27) que  $(Aa)^2 = 2$ ; donc  $Aa = \sqrt{2}$ . On sait aussi (2) que  $BD = \sqrt{3}$ ; on a ensuite  $BE = 2 = \sqrt{4}$ .

Les triangles  $BTA$ ,  $TAF$  ayant les côtés égaux entre eux, on aura l'angle  $BTA = TAF$  (8, liv. 1), et par conséquent  $BT$  parallèle à  $FA$  (28, liv. 1) : donc  $BT$  sera perpendiculaire sur  $BA$ , de même que  $FA$  (27) (27, liv. 1) : de plus, les points  $A$  et  $E$  étant à la même distance des points  $D$  et  $d$ , ainsi que les points  $B$  et  $V$ , les quatre points  $B$ ,  $A$ ,  $E$ ,  $V$  seront dans la même droite (13), et l'on aura  $EV = BA$  (14). On aura donc

$$\begin{aligned} (ET)^2 &= (TB)^2 + (BE)^2 \quad (47, \text{liv. 1}) \\ &= (AB)^2 + 4(AB)^2 = 5; \end{aligned}$$

d'où

$$ET = \sqrt{5}.$$

De même

$$(aV)^2 = (Aa)^2 + (AV)^2;$$

et comme  $EV = BA$ , on aura

$$AB = BE = 2AB;$$

d'où

$$(AV)^2 = 4(AB)^2 = 4.$$

On a de plus  $(Aa)^2 = 2$  (27); donc  $(aV)^2 = 6$ , et  $aV = \sqrt{6}$ . Comparant ensuite les points  $C$ ,  $B$ ,  $c$ ,  $A$ ,  $V$  avec les points  $A$ ,  $p$ ,  $B$ ,  $P$ ,  $Q$

de la figure 3, et substituant dans l'équation

$$(AQ)^2 = (Ap)^2 + pQ.PQ \quad (18);$$

on aura

$$(CV)^2 = (CB)^2 + BV.AV = 1 + 3.2 = 7;$$

d'où  $CV = \sqrt{7}$ ; et comme  $Aa = A\alpha$  (14),

on aura

$$(a\alpha)^2 = 4(Aa)^2 = 8;$$

d'où  $a\alpha = \sqrt{8}$ . On a ensuite  $OV = 3 = \sqrt{9}$ .

Enfin on a

$$(TV)^2 = (TB)^2 + (BV)^2 = 1 + 9 = 10;$$

donc

$$TV = \sqrt{10}.$$

#### PROBLÈME.

**101.** *Par le moyen des racines trouvées dans le problème précédent, trouver (fig. 44) les autres racines des nombres entiers, depuis 10 jusqu'à 36.*

*Solution.* Soit soustrait le nombre dont on veut avoir la racine du nombre carré immédiatement plus grand, qui sera, ou 16, ou 25, ou 36; avec la racine du reste que l'on trouvera (100), prise pour rayon, et du centre A, soit décrite la demi-circonférence QLR (64)

avec la racine du nombre carré immédiatement plus grand, prise pour rayon (on la trouvera par la méthode du n° 65), et des centres Q et R soient décrits deux arcs qui se coupent en P; la ligne AP sera la racine cherchée.

Par exemple, si l'on veut la racine de 29, on aura  $36 - 29 = 7$ ; du rayon  $CV = \sqrt{7}$  (100), après avoir décrit la demi-circonférence QLR, soient, des centres Q et R, et d'un rayon  $= 6$ , tracés deux arcs qui se coupent en P, on aura  $AP = \sqrt{29}$ .

*Démonstration.* L'angle PAQ étant droit (83), on aura

$$(PQ)^2 = (AQ)^2 + (AP)^2 \quad (47, \text{liv. 1}) ;$$

d'où

$$(PQ)^2 - (AQ)^2 = (AP)^2.$$

Maintenant supposant  $(PQ)^2 = 36$ , et égalant successivement  $(AQ)^2$  aux nombres entiers compris depuis 1 jusqu'à 10,  $(AP)^2$  sera successivement égal aux carrés compris depuis 36 jusqu'à 25. Donc on aura successivement pour AP les racines de tous ces nombres. Mais la racine de 25 est 5 (65) : donc supposant  $(PQ)^2 = 25$ , on aura de la même manière les racines depuis 25 jusqu'à 16; et faisant  $(PQ)^2 = 16$ , on aura les autres racines depuis 16 jusqu'à 10.



Dans l'exemple que nous avons pris, on aura

$$(PQ)^2 - (AQ)^2 = 36 - 7 = (AP)^2 = 29 ;$$

d'où

$$AP = \sqrt{29}.$$

PROBLÈME.

**102.** *Trouver les racines de tous les nombres entiers.*

*Solution.* Il est clair qu'en employant la même méthode (101), on peut, avec les racines que l'on a déjà trouvées, avoir les autres racines des nombres supérieurs, et avec celles-ci continuer ainsi à l'infini. Nous avons donc déjà le moyen d'obtenir les racines de tous les nombres entiers.

PROBLÈME.

**103.** *Trouver la racine d'un nombre fractionnaire quelconque.*

*Solution.* Trouvez la racine du dénominateur (102), puis celle du numérateur, et faites cette proportion :

La première racine est à la seconde, comme l'unité est à une quatrième proportionnelle (93); ce quatrième terme sera la racine cherchée.

*Démonstration.* Soit en effet  $d$  le dénominateur, et  $n$  le numérateur; si l'on fait cette proportion :

$$\sqrt{d} : \sqrt{n} :: 1 : \text{à une 4}^{\text{e}} \text{ proportionnelle} = \sqrt{\frac{Vn}{Vd}}$$

Mais  $\frac{\sqrt{n}}{\sqrt{d}} = \sqrt{\frac{n}{d}}$  : donc, etc.

PROBLÈME.

104. *Trouver facilement* (fig. 45) *la moitié des nombres entiers, depuis 1 jusqu'à 25.*

*Solution.* Du rayon  $AB = 1$ , et du centre  $A$ , soit décrit le cercle  $BDd$ , et dans sa circonférence soit fait à  $AB = BC = CD = DE = Ed$ .

Du centre  $B$  et du rayon  $BD$  soit décrit un arc qui passe par les points  $a, N, D, d, n, \alpha$ .

Du même rayon et du centre  $E$  soit décrit un arc qui passe par les points  $a, M, C, m, \alpha$ .

Du rayon  $Aa$  et du centre  $B$  soit décrit

un arc qui passe par les points  $M, F, Q, q, m$ .

Du même rayon et du centre  $E$  soit décrit un arc qui passe par les points  $N, F, P, p, n$ .

Du rayon  $AB$  et du centre  $B$  soit décrit un arc qui passe par les points  $P$  et  $p$ .

Du même rayon et du centre  $E$  soit décrit un arc qui passe par  $Q$  et  $q$ .

Du même rayon et du centre  $P$  soit décrit un arc qui passe par  $R$ , et coupe la circonférence en  $S$ ; du centre  $p$  soit décrit un autre arc qui coupe le premier en  $R$ , et la circonférence en  $s$ .

Du même rayon et des centres  $Q$  et  $q$  soient décrits deux arcs qui se coupent en  $T$ , et coupent la circonférence en  $O$  et  $o$ .

Du même rayon et du centre  $\alpha$  soit décrit un arc qui coupe la circonférence en  $g$ ; du centre  $R$  soit décrit un arc qui coupe la circonférence en  $L$  et  $l$ ; des centres  $O$  et  $o$  soient décrits deux arcs qui se coupent en  $H$ ; des centres  $H$  et  $T$  soient décrits deux arcs qui se coupent en  $V$  et  $v$ ; on aura

$$RA = \frac{1}{2} \sqrt{1}$$

$$RQ = \frac{1}{2} \sqrt{2}$$

$$RD = \frac{1}{2} \sqrt{3}$$

$$RP = \frac{1}{2} \sqrt{4}$$

$$RF = \frac{1}{2} \sqrt{5}$$

$$AM = \frac{1}{2} \sqrt{6}$$

$$Qq = \frac{1}{2} \sqrt{7}$$

$$Aa = \frac{1}{2} \sqrt{8}$$

$$BR = \frac{1}{2} \sqrt{9}$$

$$BL = \frac{1}{2} \sqrt{10}$$

$$pS = \frac{1}{2} \sqrt{11}$$

$$BD = \frac{1}{2} \sqrt{12}$$

$$HF = \frac{1}{2} \sqrt{13}$$

$$EO = \frac{1}{2} \sqrt{14}$$

$$Ll = \frac{1}{2} \sqrt{15}$$

$$BE = \frac{1}{2} \sqrt{16}$$

$$Ha = \frac{1}{2} \sqrt{17}$$

$$HN = \frac{1}{2} \sqrt{18}$$

$$HD = \frac{1}{2} \sqrt{19}$$

$$ag = \frac{1}{2} \sqrt{20}$$

$$dV = \frac{1}{2} \sqrt{21}$$

$$HS = \frac{1}{2} \sqrt{22}$$

$$Mm = \frac{1}{2} \sqrt{23}$$

$$Mn = \frac{1}{2} \sqrt{24}$$

$$HE = \frac{1}{2} \sqrt{25}$$

*Démonstration.* Si l'on compare les points P, B, p, R, E de cette figure avec les points A, p, B, P, Q de la fig. 3 par le moyen de l'équation du n° 18,

$$(AQ)^2 = (Ap)^2 + (pQ \cdot PQ),$$

on aura pour cette figure,

$$(PE)^2 = (PB)^2 + BE.RE;$$

ou

$$(Aa)^2 = (AB)^2 + 2AB.RE;$$

ou bien (27)

$$2 = 1 + 2RE;$$

d'où l'on tire  $RE = \frac{1}{2} AE$ ;

et puisque le point R est sur la même droite BAE (43), on aura aussi

$$RA = \frac{1}{2} AE = \frac{1}{2} = \frac{1}{2} \sqrt{1}.$$

Le point T étant au milieu de AB, par la même raison que le point R est au milieu de AE, ce qu'on a démontré, on aura  $AT = RE$ ; d'où l'on voit, en comparant les points Q, T, q, E, R de cette fig. 45, avec les points A, q, B, Q, P de la fig. 3, le point A de la fig. 45 sera le point p de la fig. 3. Donc de l'équation du n° 16,

$$(AQ)^2 = (AP)^2 + (PQ)^2 + Pp.PQ,$$

on tirera pour cette fig. 45 l'équation

$$(QE)^2 = (RQ)^2 + (RE)^2 + AR.RE;$$

et substituant les valeurs numériques,

$$1 = (RQ)^2 + \frac{1}{4} + \frac{1}{4};$$

d'où l'on tire

$$(RQ)^2 = \frac{1}{4} \cdot 2, \quad RQ = \frac{1}{2} \sqrt{2}.$$

Comparant les points D, A, *d*, E de la fig. 45, avec les points P, A, *p*, B de la fig. 3, il restera démontré (14) que les deux droites AE, D*d*, se coupent réciproquement en deux parties égales. Mais AE est coupée en deux parties égales au point R; donc D*d* l'est aussi. Mais D*d* = BD =  $\sqrt{3}$  (2); donc

$$RD = \frac{1}{2} \sqrt{3}.$$

Qu'on se rappelle que DR*d* est aussi perpendiculaire à AE (14). On a ensuite RP = 1; donc RP =  $\frac{1}{2} \sqrt{4}$ .

L'angle FAR étant droit (27), on a

$$(RF)^2 = (FA)^2 + (AR)^2 = 1 + \frac{1}{4} = \frac{5}{4};$$

donc

$$RF = \frac{1}{2} \sqrt{5}.$$

La base BAE du triangle BME étant coupée au milieu par la droite AM, on aura (26)

$$(BM)^2 + (EM)^2 = 2(AB)^2 + 2(AM)^2;$$

c'est-à-dire

$$(Aa)^2 + (BD)^2 = 2(AB)^2 + 2(AM)^2;$$

ou bien

$$2 + 3 = 2 + 2(AM)^2;$$

d'où

$$6 = 4(AM)^2, \sqrt{6} = 2AM, AM = \frac{1}{2}\sqrt{6}.$$

De la comparaison que l'on vient de faire des points Q, T, q, E, R, A de la fig. 45 avec les points A, q, B, Q, P, p de la fig. 3, il résulte (13) qu'on a dans la fig. 45,  $AQ = Aq = QR = Rq$ . On verra par les mêmes raisons que les droites AP, Ap, PT, Tp sont égales entre elles, et aux quatre lignes AQ, Aq, QR, Rq. Donc les deux triangles isoscèles PTA, QAR ayant tous les côtés égaux entre eux, on aura l'angle PAT = QRA (8, liv. 1); et comme la ligne TAR est droite, PA sera parallèle à QR (29, liv. 1); d'où l'on voit aussi que PQ est égale et parallèle à AR (33, liv. 1).

Mais Qq est perpendiculaire à AR (14); donc elle l'est aussi à PQ (27, liv. 1). Ensuite dans les triangles PAT, RAq, les deux angles PAT, RAq seront égaux (8, liv. 1), et la ligne TAR sera droite. Donc les deux angles PAT, PAR étant égaux à deux angles droits (13, liv. 1), les deux angles PAR, RAq le seront aussi; d'où

la ligne PAq sera droite aussi (14, liv. 1). Donc

$$(Pq)^2 = (2RQ)^2 = (PQ)^2 + (Qq)^2 \quad (47, \text{liv. 1});$$

c'est-à-dire

$$2 = \frac{1}{4} + (Qq)^2;$$

d'où

$$\frac{7}{4} = (Qq)^2 \text{ et } Qq = \frac{1}{2} \sqrt{7}.$$

Puis on a

$$(Aa)^2 = 2(27) = \frac{8}{4};$$

d'où

$$Aa = \frac{\sqrt{8}}{\sqrt{4}} = \frac{1}{2} \sqrt{8}.$$

$$\text{On a aussi } BR = \frac{3}{2} = \frac{1}{2} \sqrt{9}.$$

Si l'on compare les points B, L, R, l, A de la fig. 45 avec les points Q, A, p, B, P de la fig. 3 de l'équation

$$(AQ)^2 = (AP)^2 + (PQ)^2 + Pp \cdot PQ \quad (16),$$

on tirera pour la fig. 45 l'équation

$$(BL)^2 = (LA)^2 + (AB)^2 + AR \cdot AB;$$

ou bien

$$(BL)^2 = 1 + 1 + \frac{1}{2} = \frac{10}{4};$$

d'où

$$BL = \frac{1}{2} \sqrt{10}.$$



Les deux triangles PSA, PBA ont les angles respectivement égaux; donc on a l'angle SPA = PAB (8, liv. 1); d'où les lignes PS, BA sont parallèles (28, liv. 1). Mais Pp coupe BR à angles droits (14); donc elle sera aussi perpendiculaire à PS (27, liv. 1). On démontrera ensuite que  $(Pp)^2 = \frac{7}{4}$  de la même manière que l'on a démontré que  $(Qq)^2 = \frac{7}{4}$ ; d'où, à cause de  $(pS)^2 = (Pp)^2 + (PS)^2$  (47, liv. 1), on aura

$$(pS)^2 = \frac{7}{4} + 1 = \frac{11}{4};$$

d'où

$$pS = \frac{1}{2} \sqrt{11}.$$

On a ensuite

$$(BD)^2 = 3(2) = \frac{12}{4};$$

d'où

$$BD = \frac{1}{2} \sqrt{12}.$$

On a aussi

$$(HF)^2 = (HA)^2 + (AF)^2;$$

et en démontrant que QO est parallèle à BE, de la même manière qu'on l'a fait pour PS, les points O, P, Q, S seront dans la même droite; et

$$PO = QO - PQ = 1 - \frac{1}{2} = \frac{1}{2} = PQ.$$

Donc OP étant égale et parallèle à TA et à TB, les lignes OT, PA seront aussi égales et parallèles, ainsi que les lignes OB, PT (33, liv. 1). Mais on a démontré plus haut que PT = PA; donc OT, OB seront aussi égales à ces lignes. Par la même raison, les lignes oT, oB de l'autre côté seront égales à pA = PA. Si maintenant on compare les points O, o, A, T, B, H avec les points A, B, Q, P, p, q de la fig. 3, on tirera (14)

$$HB = AT = \frac{1}{2}.$$

On aura donc

$$(HA)^2 = \left(\frac{3}{2}\right)^2 = \frac{9}{4};$$

d'où

$$(HF)^2 = \frac{9}{4} + 1 = \frac{13}{4},$$

et

$$HF = \frac{1}{2} \sqrt{13}.$$

Si l'on compare les points E, O, H, o, A avec les points Q, A, p, B, P de la fig. 3 de l'équation  $(AQ)^2 = (AP)^2 + (PQ)^2 + Pp \cdot PQ$  (16), on tirera pour la fig. 45,

$$\begin{aligned} (EO)^2 &= (OA)^2 + (AE)^2 + HA \cdot AE \\ &= 1 + 1 + \frac{3}{2} = \frac{7}{2} = \frac{14}{4}; \end{aligned}$$

d'où

$$EO = \frac{1}{2} \sqrt{14}.$$

Ensuite si l'on compare les points A, R, L, Q, *q*, *l* de la fig. 45 avec les points A, B, Q, P, *p*, *q* de la fig. 3, on a (15) pour la fig. 3 l'équation

$$(QM)^2 = (AQ)^2 - (AM)^2;$$

et multipliant par 4,

$$4(QM)^2 = 4(AQ)^2 - 4(AM)^2,$$

ou

$$(Qq)^2 = 4(AQ)^2 - (AB)^2.$$

On tirera pour la fig. 45

$$(Ll)^2 = 4(AL)^2 - 4(AR)^2 = 4 - \frac{1}{4} = \frac{15}{4};$$

d'où résulte

$$Ll = \frac{1}{2} \sqrt{15}.$$

On a ensuite

$$BE = 2 = \frac{1}{2} \cdot 4 = \frac{1}{2} \sqrt{16}.$$

A cause de l'angle droit *aAH* (27), on a

$$(Ha)^2 = (HA)^2 + (Aa)^2 = \left(\frac{3}{2}\right)^2 + 2 = \frac{17}{4};$$

d'où

$$Ha = \frac{1}{2} \sqrt{17}.$$

Démontrant que  $(AN)^2 = \frac{3}{2}$  de la même manière qu'on l'a fait pour  $(AM)^2$ , et aussi que  $(An)^2 = \frac{3}{2}$ ; et parce que NR coupe par moitié la base AE du triangle ANE, on aura (26)

$$(AN)^2 + (NE)^2 = 2(AR)^2 + 2(RN)^2;$$

c'est-à-dire

$$\frac{3}{2} + 2 = \frac{2}{4} + 2(RN)^2;$$

et réduisant, on trouve

$$(RN)^2 = \frac{3}{2} = (AN)^2.$$

De même on trouve  $(Rn)^2 = \frac{3}{2}$ .

Si maintenant on compare les points H, N, R, n, A de la fig. 45, avec les points Q, A, p, B, P de la fig. 3, de l'équation  $(AQ)^2 = (AP)^2 + (PQ)^2 + Pp.PQ$  (16), on tirera pour la fig. 45 l'équation

$$(HN)^2 = (AN)^2 + (AH)^2 + AR.AH;$$

c'est-à-dire

$$(HN)^2 = \frac{3}{2} + \frac{9}{4} + \frac{3}{4} = \frac{18}{4};$$

d'où résulte

$$HN = \frac{1}{2} \sqrt{18}.$$

La ligne DR étant perpendiculaire à AE, c'est-à-dire à HR, on aura

$$\begin{aligned} (HD)^2 &= (HR)^2 + (RD)^2 \quad (47, \text{liv. } 1) \\ &= 4 + \frac{3}{4} = \frac{19}{4}; \end{aligned}$$

d'où

$$HD = \frac{1}{2} \sqrt{19}.$$

La base  $aA\alpha$  du triangle  $ag\alpha$  étant coupée au milieu par la droite  $gA$ , on aura (26)

$$(ag)^2 + (\alpha g)^2 = 2(Aa)^2 + 2(Ag)^2,$$

ou

$$(ag)^2 + 1 = 4 + 2,$$

et

$$(ag)^2 = 5 = \frac{20}{4};$$

d'où

$$ag = \frac{1}{2} \sqrt{20}.$$

Les deux triangles HTV, AED ayant les côtés égaux entre eux, l'angle  $VTH = DEA$  (8, liv. 1), et les points H, T, A, E étant sur la même droite, VT sera parallèle à son égale DE (29, liv. 1); d'où VD est aussi parallèle et égale à TE (33, liv. 1). Mais  $Dd$  est perpendiculaire à BE, c'est-à-dire à TE; donc elle

l'est aussi à VD (27, liv. 1); d'où

$$\begin{aligned}(dV)^2 &= (VD)^2 + (Dd)^2 = (TE)^2 + (BD)^2 \\ &= \left(\frac{3}{2}\right)^2 + 3 \cdot (2) = \frac{9}{4} + \frac{12}{4} = \frac{21}{4};\end{aligned}$$

d'où

$$dV = \frac{1}{2} \sqrt{21}.$$

Ayant démontré PS égale et parallèle à AE, ainsi que  $ps$  par la même raison, SE sera aussi égale et parallèle à AP (33, liv. 1), de même que  $sE$  l'est à  $Ap$ . A cause de l'égalité et du parallélisme des trois droites PS, TR,  $ps$ , on prouvera de même l'égalité de RS, R $s$  aux lignes PT,  $pT$ , toutes deux déjà démontrées égales à AP = RQ. Comparant maintenant les points H, S, E,  $s$ , R de cette fig. 45, avec les points Q, A,  $p$ , B, P de la fig. 3, de l'équation

$$(AQ)^2 = (Ap)^2 + pQ \cdot PQ \quad (18),$$

on tirera pour la fig. 45

$$\begin{aligned}(HS)^2 &= (SE)^2 + EH \cdot RH = (RQ)^2 + EH \cdot RH \\ &= \frac{2}{4} + \frac{5}{2} \cdot 2 = \frac{22}{4};\end{aligned}$$

d'où

$$HS = \frac{1}{2} \sqrt{22}.$$

La base AE du triangle AME étant divisée en deux parties égales par la droite MR, on aura (26)

$$(AM)^2 + (EM)^2 = 2(RA)^2 + 2(RM)^2,$$

c'est-à-dire

$$\frac{6}{4} + 3 = \frac{2}{4} + 2(RM)^2;$$

d'où il résulte après la réduction,

$$(RM)^2 = 2 = (BM)^2 = (Bm)^2;$$

de cette valeur on déduirait de la même manière celle de  $(Rm)^2$ ; d'où

$$BM = MR = Rm = mB.$$

Si maintenant on compare les quatre points B, M, R, *m* de la fig. 45 avec les quatre points A, Q, B, *q* de la fig. 3, on a (15)

$$(QM)^2 = (AQ)^2 - (AM)^2;$$

et de là

$$4(QM)^2 = 4(AQ)^2 - 4(AM)^2;$$

c'est-à-dire .

$$(Qq)^2 = 4(AQ)^2 - (AB)^2.$$

On aura pour la fig. 45

$$\begin{aligned} (Mm)^2 &= 4(BM)^2 - (BR)^2 = 8 - \left(\frac{3}{2}\right)^2 \\ &= \frac{32}{4} - \frac{9}{4} = \frac{23}{4}; \end{aligned}$$

d'où

$$Mm = \frac{1}{2} \sqrt{23}.$$

Les triangles BME, BnE ayant les côtés égaux entre eux, et ayant tous deux la base commune BE divisée en deux parties égales par les lignes AM, An de l'équation (26), il résultera la même valeur pour AM, An. Donc les triangles BAM, Ean ayant les côtés égaux entre eux, on aura l'angle BAM = EAn (8, liv. 1); d'où, à cause de la droite BAE, la somme des angles MAB, MAE, étant égale à deux droits (13, liv. 1), et substituant à l'angle MAB son égal EAn, la somme des deux angles MAE, EAn vaudra deux angles droits; d'où les deux lignes MA, An seront une seule ligne droite (14, liv. 1). On aura donc

$$(Mn)^2 = 4(AM)^2 = \frac{24}{4};$$

d'où

$$MN = \frac{1}{2} \sqrt{24}.$$

Enfin,

$$HE = \frac{5}{2} = \frac{1}{2} \sqrt{25}.$$



105. Comme on a  $\frac{1}{2} \sqrt{n} = \sqrt{\frac{n}{4}}$ , par exemple,  $\frac{1}{2} \sqrt{7} = \sqrt{\frac{7}{4}}$ , etc., on aura facilement, au moyen de ce problème, les racines de tous les quarts, depuis 1 jusqu'à 25; ce dont on fera usage, comme nous le verrons, dans la construction des figures semblables.

106. Si l'on avait pris le rayon  $AB = 2$ , on aurait eu toutes ces distances doubles de valeur; d'où nous aurions eu les racines entières des nombres depuis 1 jusqu'à 25. On pourrait donc facilement doubler l'une quelconque de ces moitiés de racines pour avoir la racine entière (64).

107. La facilité de cette construction qu'on exécute avec les trois seules ouvertures déjà observées (35), savoir :

la première =  $\sqrt{1}$ ,

la troisième =  $\sqrt{2}$ ,

la seconde =  $\sqrt{3}$ ,

avec lesquelles on a déjà divisé le cercle en 24 parties égales, et trouvé ensuite les 25 racines successives des premiers nombres, fait voir l'excellence de la Géométrie du compas, et combien elle peut contribuer à la perfection des arts.

108. On a eu soin, dans la construction précédente, d'employer le plus qu'il a été possible le premier compas dont l'ouverture = 1, qui a décrit la circonférence  $BDd$ , et qui conservant l'ouverture fondamentale, mérite plus de confiance que les autres. C'est aussi pourquoi on n'a voulu employer que les trois premiers compas les plus remarquables (107); ce qui a fait que quelques-unes des sections des arcs se sont faites à angles un peu aigus, comme celles des points  $S, s, O, o$ , et surtout celles des points  $L$  et  $l$ . Si l'on voulait avoir tous les angles d'intersection plus approchans de l'angle droit, on pourrait employer la construction suivante.

*Autre construction de la figure 45.*

109. Après avoir trouvé les points  $M$  et  $m$ , comme dans la solution (104), du rayon  $BD$  et des centres  $M$  et  $m$  soient décrits deux arcs qui se coupent en  $H$ .

Du rayon  $AB$  et du centre  $H$  soit décrit un arc qui coupe la circonférence en  $O$  et  $o$ ; du même rayon soient déterminées les demi-circonférences  $OE_s, oES$  (64); du rayon  $BE$  et du centre  $H$  soit décrit un arc qui coupe la circonférence en  $L$  et  $l$ .

Tous les autres points de la fig. se trouveront comme au n° 104.

*Démonstration.* Nous démontrerons que les points que l'on trouve avec cette construction, sont les mêmes que ceux trouvés par la première.

Après avoir démontré (104) que  $BM = MR = Rm = mB$ , et que les trois points B, A, R sont dans la même droite, ayant de plus par construction  $MH = ME = mH = mE$ , H sera sur la même droite BAR (13), et l'on aura  $HB = RE$  (14) : donc le point H sera le même que dans l'autre construction. Ensuite les lignes HO, Ho étant égales dans les deux constructions, les points O et o seront aussi les mêmes. Si l'on soustrait l'arc osE des deux demi-circonférences BsE, oES, les arcs restans Bo, ES seront égaux ; d'où

$$ES = Bo = BO = AQ = RQ ;$$

d'où aussi le point S sera le même que dans la première construction ; le point s le sera également ; puis la base HTR du triangle HLR étant divisée par LT en deux parties égales, on aura (26)

$$(HL)^2 + (LR)^2 = 2(HT)^2 + 2(TL)^2 ;$$

c'est-à-dire

$$4 + (\text{LR})^2 = 2 + 2(\text{TL})^2;$$

ou bien

$$2 + (\text{LR})^2 = 2(\text{TL})^2.$$

Mais encore la base TR du triangle TLR étant divisée par moitié au point A par la droite LA, on aura (26)

$$(\text{TL})^2 + (\text{LR})^2 = 2(\text{TA})^2 + 2(\text{AL})^2;$$

et doublant,

$$\begin{aligned} 2(\text{TL})^2 + 2(\text{LR})^2 &= 4(\text{TA})^2 + 4(\text{AL})^2 \\ &= 1 + 4 = 5; \end{aligned}$$

d'où soustrayant  $2(\text{LR})^2$ , on a

$$2(\text{TL})^2 = 5 - 2(\text{LR})^2.$$

Mais on a trouvé ci-dessus

$$2(\text{TL})^2 = 2 + (\text{LR})^2;$$

donc

$$5 - 2(\text{LR})^2 = 2 + (\text{LR})^2.$$

Soustrayant 2, et ajoutant  $2(\text{LR})^2$ , on a

$$3 = 3(\text{LR})^2;$$

d'où

$$1 = (\text{LR})^2 = (\text{AB})^2.$$

Donc on aura  $\text{LR} = \text{AB}$  comme dans la première construction. On prouvera la même chose pour RL; les autres points sont déterminés comme dans la construction précédente: donc tous les points de la figure sont les mêmes que dans cette construction.

# LIVRE SEPTIÈME.

---

DE L'INTERSECTION DES LIGNES DROITES AVEC  
LES ARCS DE CERCLE ET ENTRE ELLES.

## PROBLÈME.

110. *Étant donnés deux points L et M d'une droite (fig. 46), et le centre A avec le rayon AB d'un arc BCD, trouver les deux points P et Q auxquels la ligne LM coupe ledit arc, si toutefois elle le coupe.*

*Solution.* Des points L et M donnés sur la droite, pris pour centres, et avec leurs distances respectives MA, LA du centre donné, prises pour rayons, soient décrits deux arcs qui se coupent en V; du centre V et du rayon donné AB soit décrit un arc indéfini EFG: si cet arc coupe l'arc donné en P et Q, ces deux points seront les points cherchés; s'il ne le coupait pas, la droite LM n'en couperait pas moins l'arc donné.

*Démonstration.* Les quatre distances AP, AQ, VP, VQ étant égales entre elles, et les deux autres AM, VM aussi égales entre elles,

les trois points  $P$ ,  $M$ ,  $Q$  seront dans la même droite (13). On démontre de la même manière que les trois points  $Q$ ,  $P$ ,  $L$  sont dans la même ligne droite : donc la droite  $LM$  passe par les points  $P$  et  $Q$ , quand ces points d'intersection s'y trouvent.

Si le cercle  $EFG$  (*fig. 47*), décrit du centre  $V$  et du rayon  $AB$ , ne coupait pas le cercle  $BCD$ ,  $LM$  ne couperait pas ce même cercle. En effet, si l'on conçoit la droite  $VA$  qui coupe les cercles en  $C$  et  $F$ ,  $CF$  étant divisée par moitié en  $m$ , on aura  $Vm = mA$ . Donc  $LM$  coupera perpendiculairement  $VA$  en  $m$  (14) hors du cercle  $BCD$  ; si l'on prend un autre point quelconque  $P$  sur la droite  $LM$ , dans le triangle rectangle  $PmA$ , on aura le côté  $PA$  plus grand que  $mA$ , parce qu'il est opposé à un plus grand angle (32 et 18, *liv. 1*). Donc le point  $P$  sera beaucoup plus hors du cercle que le point  $m$  : donc la droite  $LM$  ne coupera dans aucun point le cercle  $BCD$ .

## PROBLÈME.

111. *Étant donné (fig. 48) un arc BCD décrit du centre A, trouver les deux points où la circonférence est coupée par la droite qui passe par A et par un autre point donné L.*

*Solution.* Du centre L et d'un rayon arbitraire LP soit décrit un arc qui coupe l'arc BCD en P et en Q; soit partagé l'arc PQ en deux parties égales au point *m* (60); soit déterminée la demi-circonférence *mDn* (64): les points *m* et *n* seront les deux points cherchés.

*Démonstration.* Les trois points A, *m* et L étant à la même distance des points P et Q, seront dans la même ligne droite (13). Mais la droite *mA* contient aussi le point *n*, extrémité du diamètre *mn* (15, liv. 4): donc, etc.

## PROBLÈME.

112. *Étant donnés deux points A, B d'une droite (fig. 49 et 50), et deux points C, D d'une autre droite, trouver le point S où elles se coupent.*

*Solution.* De deux points d'une des deux droites, par exemple, des points A et B pris pour centres, et avec les distances respectives AC, AD de ces points, et BC, BD des deux points C, D de l'autre droite, prises pour rayons, soient décrits quatre arcs, dont deux se coupent aux points C et  $c$ , et les deux autres aux points D et  $d$ .

Soit trouvé le quatrième point  $\delta$  du parallélogramme  $CDd\delta$ , en faisant à  $Dd = C\delta$ , et à  $DC = d\delta$  (11).

Soit trouvée la quatrième proportionnelle aux trois lignes  $c\delta$ , CD, Cc.

Avec cette distance prise pour rayon et des centres C et  $c$  soient décrits deux arcs qui se coupent en S; le point S sera celui de l'intersection des deux droites AB, CD.

*Démonstration.* Les droites AB, Cc seront perpendiculaires l'une à l'autre (13, 14), ainsi




que  $AS, Cc$  : donc le point  $S$  sera dans la même ligne  $AB$  ; puis  $AB$  ou  $AS$  étant aussi perpendiculaire à  $Dd$  (13, 14), la même ligne  $Dd$  sera parallèle à  $Cc$  (29, liv. 1). Mais à cause des côtés égaux entre eux dans les deux triangles  $dC\delta, dCD$ , on a les angles  $dC\delta, CdD$  égaux (8, liv. 1) ; donc les deux lignes  $C\delta, Dd$  sont aussi parallèles (28, liv. 1) ; donc les points  $c, C, \delta$  sont dans la même droite. Maintenant, à cause des deux côtés égaux dans les deux triangles  $CBA, cBA$ , les angles  $CBA, cBA$  seront égaux (8, liv. 1) ; par la même raison, on trouvera les angles  $ABD, ABd$  égaux dans les triangles  $ABD, ABd$  ; donc, dans la fig. 49, l'angle  $cBd$ , qui est la somme des deux angles  $cBA, ABd$ , sera égal à l'angle  $CBD$ , somme des deux angles  $CBA, ABD$ . Dans la fig. 50, l'angle  $cBd$ , qui est la différence des deux angles  $ABd, cBA$ , sera aussi égal à l'angle  $CBD$ , qui est la différence des deux angles  $ABD, CBA$  ; donc pour les deux figures dans les triangles  $cBd, CBD$ , qui ont deux côtés et l'angle compris égaux, le troisième côté  $cd$  sera égal au troisième côté  $CD$  (4, liv. 1). Mais  $CD = d\delta$  ; donc le triangle  $cd\delta$  est isoscèle ; de plus, le triangle  $cCS$  étant aussi isoscèle, on a la proportion

$$c\delta : CD \text{ ou } d\delta :: Cc : CS;$$

d'où vient encore

$$c\delta : cd :: cC : cS.$$

Donc les deux triangles  $c\delta d$ ,  $cCS$  ont les angles égaux entre eux (5, liv. 6); d'où l'angle  $c\delta d$  étant égal à l'angle  $cCS$ ,  $CS$  sera parallèle à  $\delta d$  (29, liv. 1). Or  $CD$  est aussi parallèle à  $\delta d$ ; donc le point  $S$  sera sur cette ligne; donc, etc.



## LIVRE HUITIÈME.

---

DE LA CONSTRUCTION , DE LA MULTIPLICATION  
ET DE LA DIVISION DES ANGLES , ET DES  
LIGNES TRIGONOMÉTRIQUES.

113. OBSERVATION. Quand nous dirons : *construire un angle  $abc$  (fig. 51) avec le compas*, nous entendrons *trouver avec le compas trois points  $a, b, c$  ; ou, un de ces points étant donnés, trouver les autres , de manière qu'en tirant ensuite par deux de ces points  $a, b$  une droite , et par un de ces deux points  $b$  et le troisième  $c$  une autre droite , on ait un angle  $abc$  aussi grand qu'on veut*. Quoique l'angle  $abc$  ne soit pas réellement construit , les droites  $ab, bc$  n'étant pas encore tirées , ce qui ne peut se faire avec le compas seulement , néanmoins nous adopterons la première phrase , en y attachant le sens dont nous sommes convenus.

## PROBLÈME.

114. *Étant donné un angle  $ABC$  au moyen des trois points  $A, B, C$ , et deux autres points  $b$  et  $a$ , trouver un point  $c$  tel que l'angle  $abc$  soit égal à  $ABC$ .*

*Solution.* Cherchez (93) une quatrième proportionnelle aux trois distances  $AB, ab, BC$ ; avec cette ligne prise pour rayon, et du centre  $b$ , décrivez un arc qui passe par le point  $c$ ; cherchez de même une quatrième proportionnelle aux trois distances  $AB, ab, AC$ , et avec cette ligne prise pour rayon, du point  $a$  pris pour centre, décrivez un autre arc qui coupe le premier en  $c$ : on aura l'angle  $abc = ABC$ .

*Démonstration.* Puisque les deux triangles  $ABC, abc$  ont leurs côtés proportionnels, les angles opposés aux côtés proportionnels seront égaux (5, liv. 6).

115. La solution du problème précédent (114) servira donc aussi à résoudre le problème suivant: *Étant donnés trois points  $A, B, C$  (fig. 51) qui forment les sommets des trois angles d'un triangle, et deux autres  $a$  et  $b$ , et qui*

soient les sommets de deux angles d'un autre triangle, trouver un troisième point  $c$ , de manière que le triangle  $abc$  soit semblable au triangle  $ABC$ .

## PROBLÈME.

116. Doubler, tripler, quadrupler, etc., un angle donné  $BAC$  (113).

*Solution.* Du centre  $A$  (*fig. 52*) et avec les côtés  $AB$ ,  $AC$ , pris pour rayons, décrivez deux arcs indéfinis  $BDF$ ,  $CE$ ; faites à  $CB = CD$ , l'angle  $BAD$  sera double de  $BAC$ ; faites à  $CD = DE$ , l'angle  $BAE$  sera triple de  $BAC$ ; faites à  $DE = EF$ , l'angle  $BAF$  sera quadruple de  $BAC$ , etc.

Pour quadrupler l'angle proposé, on pourrait encore faire à  $BD = DF$ .

*Démonstration.* Les triangles  $BAC$ ,  $CAD$ ,  $DAE$ ,  $EAF$  ayant leurs côtés respectivement égaux, les angles  $BAC$ ,  $CAD$ ,  $DAE$ ,  $EAF$ , etc. (8, liv. 1), seront égaux; donc, etc. D'où l'angle  $BAD$  étant égal à  $DAF$ , on aura aussi  $BD = DF$  (4, liv. 1).

## PROBLÈME.

117. *Reconnaître si l'angle BAG, donné au moyen des trois points B, A, G, est égal à la moitié d'un angle droit.*

*Solution.* Du rayon AB (*fig.* 53) et du centre A, décrivez la demi-circonférence BFE (64); faites à GB = GF (10). Si l'on a BF = FE, l'angle BAG sera égal à la moitié d'un angle droit; si BF est plus petit ou plus grand que FE, l'angle BAG sera plus petit ou plus grand que la moitié d'un angle droit.

*Démonstration.* Puisque l'angle BAF est double de l'angle BAG (116), si l'angle BAG est égal à la moitié d'un angle droit, l'angle BAF sera droit, et par conséquent l'on aura BF = FE (83). Mais si BAG est moindre ou plus grand que la moitié d'un angle droit, BAF sera moindre ou plus grand qu'un angle droit, et par conséquent BF plus petit ou plus grand que FE (24, *liv.* 1).

## PROBLÈME.

**118.** *Diviser en deux parties égales l'angle BAC donné au moyen des trois points B, A, C seulement, le point A n'étant pas pris à la même distance du point B que du point C.*

*Solution.* Du centre A (fig. 54) et du rayon AB décrivez l'arc BMD; faites à  $CB = CD$ ; divisez l'arc BMD en deux parties égales au point M (60); divisez l'arc BN en deux parties égales en N; l'angle BAN sera la moitié de l'angle BAC.

*Démonstration.* L'angle BAD étant double de BAC (116), et double aussi de BAM (33, liv. 6), l'angle BAC sera le même que BAM; mais l'angle BAN est la moitié de BAM; donc aussi BAN sera la moitié de BAC.

## PROBLÈME.

**119.** *Étant donné l'arc BC (fig. 55) décrit du point A pris pour centre, en trouver le sinus, le cosinus, la tangente et la sécante.*

*Solution.* Dans la circonférence décrite avec

le rayon  $AB$ , faites à  $BC = Bc$ ; divisez en deux parties égales la corde  $Cc$  au point  $M$  (66);  $CM$  sera le sinus et  $MA$  le cosinus de l'arc donné.

Du point  $M$  pris pour centre et du rayon  $MA$ , décrivez un arc qui coupe, s'il est possible, la circonférence en  $D$  et en  $d$ ; déterminez la demi-circonférence  $dD\delta$  (64); prolongez  $BA$  de  $B$  en  $V$ , en faisant  $BV = BA$ : des centres  $A$  et  $V$  et du rayon  $D\delta$  décrivez deux arcs qui se coupent en  $S$ ,  $BS$  sera la tangente, et  $SA$  la sécante.

*Démonstration.* La ligne  $BA$  coupe au point  $M$  la corde  $Cc$  en deux parties égales et à angles droits (14): donc  $CM$  est le sinus et  $MA$  le cosinus de l'arc  $BC$ .

$SB$  est perpendiculaire à  $AB$  (83);  $D\delta$  est troisième proportionnelle aux deux lignes  $AM$ ,  $AC$  (87): il en sera de même de  $AS$ , qui est égal à  $D\delta$ . Donc, dans les deux triangles rectangles  $AMC$ ,  $ABS$ , on a la proportion

$$AM : AC :: AB : AS;$$

et *invertendo* (4, liv. 5),

$$AC : AM :: AS : AB.$$



On tire de là (35, *liv.* 5)

$$(AC)^2 : (AM)^2 :: (AS)^2 : (AB)^2;$$

et en substituant pour  $(AC)^2$  et  $(AS)^2$  leurs valeurs tirées de la 47<sup>e</sup> proposition du *liv.* 1, on aura

$$(AM)^2 + (MC)^2 : (AM)^2 :: (AB)^2 + (BS)^2 : (AB)^2;$$

d'où (17, *liv.* 5)

$$(MC)^2 : (AM)^2 :: (BS)^2 : (AB)^2;$$

et (34, *liv.* 5),

$$MC : AM :: BS : AB;$$

donc les côtés  $MC$ ,  $BS$  seront aussi proportionnels; donc l'angle  $MCA$  sera le même que  $BSA$  (5, *liv.* 6); donc les points  $A$ ,  $C$ ,  $S$  seront dans la même droite, et  $BS$  sera la tangente et  $AS$  la sécante de l'arc  $BC$ .

Si le cercle décrit du centre  $M$  et du rayon  $MA$  ne coupait pas la circonférence, ou la coupait sous des angles trop aigus, il faudrait avoir recours aux moyens indiqués (89 ou 90 et 91).

*Autre solution pour trouver la tangente et la sécante.*

Décrivez (64) la demi-circonférence BCE (fig. 56); du rayon BC et du centre E coupez-la au point Q; du rayon CQ et des centres A et B décrivez deux arcs indéfinis qui se coupent en V, et avec le même rayon CQ et du centre V coupez la circonférence en e; du rayon Ee et des centres A et B décrivez deux arcs qui se coupent en m; du même rayon Ee et du centre m décrivez la demi-circonférence ABS (64): SB sera la tangente et SA la sécante de l'arc BC.

*Démonstration.* Si l'arc BCF est égal au quart de la circonférence = FE, comme on a par construction  $BC = QE$ , on aura aussi  $CF = FQ$ . On sait de plus, par les définitions trigonométriques, que le sinus de l'arc CF est le même que le cosinus de l'arc BC, et que la corde de l'arc CFQ, double de l'arc CF, est double du sinus de l'arc CF ou du cosinus de l'arc BC: cette corde est égale à  $CQ = AV$ ; on a de plus (22)

$$AV \cdot Ee = (AB)^2.$$

La ligne  $AmS$  (64) étant droite  $= 2 Ee$  et  $aV$   
 $= 2 \cos. BC$ ; on aura

$$2 Ee. \cos. BC = (AB)^2 = AS. \cos. BC;$$

donc (17, liv. 6)

$$\cos. AC : AB :: AB : AS;$$

donc  $AS$  sera troisième proportionnelle au cosinus et au rayon, et par conséquent égale à la sécante, suivant les démonstrations trigonométriques. De plus, l'angle  $ABS$  étant droit (31, liv. 3), la sécante  $AS$  sera déterminée de position, et par conséquent  $BS$  sera la tangente.

## PROBLÈME.

120. *Etant donné le sinus  $mn$  d'un arc d'un rayon donné  $AB$ , trouver cet arc.*

*Solution.* Décrivez (fig. 57) avec le rayon  $AB$ , le cercle  $CcK$ ; doublez  $mn$  (64); d'un rayon  $= 2mn$ , et d'un point quelconque  $C$  de la circonférence, décrivez un arc qui la coupe en  $c$ ; divisez l'arc  $Cc$  en deux parties égales au point  $B$  (60),  $BC$  sera l'arc cherché.

*Démonstration.* Le sinus de l'arc  $BC$ , d'après

les définitions trigonométriques, est la moitié de la corde double de  $BC$ ; donc, etc.

## PROBLÈME.

121. *Etant donné le cosinus  $ma$  d'un arc d'un rayon donné  $AB$ , trouver cet arc.*

*Solution.* Décrivez le cercle  $CcK$  (*fig. 57*) avec le rayon  $AB$ ; doublez  $ma$  (64); d'un point quelconque  $c$  de la circonférence pris pour centre et d'un rayon  $= 2ma$ , coupez la circonférence au point  $K$ ; déterminez la demi-circonférence  $KcC$  (64); divisez en deux parties égales l'arc  $Cc$  au point  $B$  (60):  $BC$  sera l'arc cherché.

*Démonstration.* Tirez l'autre corde  $Cc$ ; elle sera divisée au point  $M$  en deux parties égales et à angles droits par le rayon  $AB$  (14). Mais l'angle  $CcK$  étant inscrit et appuyé sur le diamètre, est aussi droit (31, *liv. 3*); donc les deux triangles  $CMA$ ,  $CcK$ , qui ont un angle commun en  $C$ , et chacun un angle droit, sont équiangles entre eux (32, *liv. 1*): donc on a (4, *liv. 6*)

$$CM : Cc :: MA : cK.$$

Mais  $CM$  est la moitié de  $Cc$  ; donc

$$MA = \frac{1}{2} cK = ma ;$$

de plus,  $MA$  est le cosinus de l'arc  $BC$  ; donc, etc.

PROBLÈME.

122. *Étant donnée la tangente  $sb$  d'un arc d'un rayon donné  $AB$  (fig. 55), trouver cet arc.*

*Solution.* Décrivez avec le rayon  $AB$  le cercle  $BC\mathcal{J}$  ; au point  $B$  élevez sur  $AB$  une perpendiculaire  $BS = bs$  (76) ; trouvez (111) le point  $C$  où  $SA$  coupe la circonférence ;  $BC$  sera l'arc cherché.

Cette solution n'a pas besoin de démonstration.

PROBLÈME.

123. *Étant donnée (fig. 55) la sécante  $sa$  d'un arc d'un rayon donné  $AB$ , trouver cet arc.*

*Solution.* Décrivez avec le rayon  $AB$  la circonférence  $BC\mathcal{J}$  ; sur  $AB$  portez  $BV = AB$  (64) ; puis des centres  $A$  et  $V$  et du rayon  $sa$  ,

décrivez deux arcs qui se coupent en S; trouvez (111) le point C où la ligne SA coupe la circonférence : BC sera l'arc cherché.

*Démonstration.* La ligne SB sera perpendiculaire à BA (83); donc elle sera la tangente de l'arc BC, et par conséquent SA en sera la sécante.

# LIVRE NEUVIÈME.

---

## DES FIGURES SEMBLABLES ET DES POLYGOUES RÉGULIERS.

**124.** *OBSERVATION.* Quand nous dirons , *Construire une figure ou un polygone* , nous entendrons , *trouver tous les points qui suffisent pour déterminer de grandeur et de position toutes les droites qu'il conviendrait de tirer pour construire entièrement le polygone.*

### PROBLÈME.

**125.** *Sur un côté donné  $ab$  , construire un triangle semblable à un triangle donné  $ABC$  (fig. 51).*

*Solution.* Voyez 115.

### PROBLÈME.

**126.** *Étant donnée ( fig. 58 ) une figure  $ABCEFD$  , construire une figure qui lui soit semblable , et dont la surface soit avec celle de cette figure dans un rapport donné.*

*Solution.* Si l'on veut , par exemple , que

la surface de la nouvelle figure soit les deux cinquièmes de la surface de la figure donnée.

D'un rayon  $AB$ , le plus grand qu'il sera possible, construisez la figure 43 (100); prenez dans cette figure la ligne  $Aa = \sqrt{2}$  pour rayon; du centre  $O$  (*fig.* 58) décrivez le cercle plus petit, dans la circonférence duquel se trouve le point  $\nu$ . De la ligne  $ET = \sqrt{5}$  (*fig.* 43), prise pour rayon, et du même centre  $O$ , décrivez le cercle plus grand, dans la circonférence duquel se trouve le point  $V$ , déterminé par rapport au point  $\nu$ , de telle manière que la ligne  $V\nu$  soit à peu près tangente au point  $\nu$  du cercle intérieur.

Supposez la figure donnée divisée en autant de triangles  $ABC$ ,  $ACD$ ,  $CDE$ ,  $EDF$ , en imaginant des droites  $AC$ ,  $CD$ , etc., et placez les nombres 1, 2, 3, 4, 5, etc., sur les distances  $AB$ ,  $AC$ ,  $CD$ , etc., qui mesurent les côtés de ces triangles; appliquez successivement les distances 1, 2, 3, etc., comme cordes à autant d'arcs consécutifs du cercle  $V$ , savoir:  $AB$  de  $V$  en 1,  $AC$  de 1 en 2,  $BC$  de 2 en 3, et ainsi de suite jusqu'à la fin; ce que l'on fera en prenant la distance  $AB$  pour rayon, et en décrivant du point  $V$  pris pour centre un arc qui coupe cette même circonférence au point 1, etc.



D'un rayon égal à  $V\upsilon$ , et en prenant successivement pour centres les points 1, 2, 3, 4, etc., décrivez des arcs qui coupent successivement la plus petite circonférence aux points 1, 2, 3, 4, etc., jusqu'à la fin.

Les cordes du cercle intérieur, ou les distances de  $\upsilon$  à 1, de 1 à 2, de 2 à 3, de 3 à 4, etc., seront les côtés  $ab$ ,  $ac$ ,  $bc$ ,  $cd$ , etc., de la nouvelle figure que l'on construira triangle par triangle; avec la distance du point  $\upsilon$  au point 1, on déterminera les deux points  $a$  et  $b$ ; des centres  $a$  et  $b$ , et avec la seconde et la troisième distance, prise dans le cercle intérieur (la seconde du point 1 au point 2, et la troisième du point 2 au point 3), décrivez deux arcs qui se coupent en  $c$ ; des centres  $c$  et  $a$ , et avec les distances quatrième et cinquième, prises dans le cercle intérieur (la quatrième de 3 à 4, et la cinquième de 4 à 5), décrivez deux arcs qui se coupent en  $d$ ; on déterminera de la même manière les points  $e$  et  $f$ , et la figure sera construite.

*Démonstration.* Les cordes du cercle intérieur sont aux cordes homologues du cercle extérieur, comme le rayon  $O\upsilon$  est au rayon  $OV$  (93), ou comme  $\sqrt{2}$  est à  $\sqrt{5}$ : donc tous les côtés des triangles de la figure  $abc\epsilon fd$ , et les

côtés homologues des triangles de la figure  $ABCEFD$  sont dans le même rapport; donc les triangles des deux figures sont équiangles entre eux, et par conséquent semblables (5, liv. 6, *déf.* 1); donc les deux mêmes figures polygones sont semblables (20, liv. 6), et les surfaces étant entre elles comme les carrés des côtés homologues, la surface du polygone  $abcefd$  sera à celle du polygone  $ABCEFD$ , comme 2 est à 5; donc la surface de la plus petite des deux figures sera à celle de la plus grande, comme 2 est à 5.

D'après cet exemple, il est facile de voir la méthode à suivre pour résoudre le problème, quel que soit le rapport qu'on propose d'établir entre la surface de la figure à construire et celle de la figure donnée.

On décrira deux circonférences  $v$  et  $V$  avec des rayons qui soient entre eux comme les racines des nombres qui expriment le rapport des surfaces; sur celle des deux circonférences qui correspond à la figure donnée, on portera successivement comme cordes les côtés des triangles dans lesquels cette figure est supposée divisée. On déterminera, par la méthode ci-dessus exposée, dans l'autre circonférence, des cordes proportionnelles qui seront les côtés

respectifs des triangles de la nouvelle figure.

Le rapport des moitiés des racines étant le même que celui des racines entières, la figure 45 servira dans plusieurs cas (104). Pour les autres cas, voyez les numéros 101, 102, et 103.

On prend ensuite un rayon  $AB$  (*fig. 44 et 45*), le plus grand que l'on peut employer commodément, pour que les cercles puissent mieux recevoir les longueurs des cordes à appliquer, et pour que les intersections qui en résultent se fassent à angles plus approchans de l'angle droit.

127. Si l'on avait donné le rapport des côtés  $AB$  et  $ab$  entre eux, ou de deux autres droites quelconques entre elles, on choisirait dans ce rapport les deux rayons  $OV$ ,  $Ov$ , les plus grands possibles.

PROBLÈME.

128. *Inscrire à un cercle donné un quelconque des polygones réguliers que l'on peut y inscrire en se servant de la règle et du compas.*

*Solution.* Divisez la circonférence en autant

de parties égales que le polygone qu'on veut inscrire a de côtés (27, 29, 30, 31, 32, 38, 40, 41, 42, 53, 57, 60, 63), les points de division seront les sommets des angles du polygone régulier cherché, et les cordes des arcs en seront les côtés.

*Démonstration.* Tous les côtés étant égaux comme cordes d'arcs égaux, les angles qu'ils forment seront égaux, puisque ayant leur sommet à la circonférence, ils sont tous appuyés sur des arcs égaux (21, liv. 3). On a donc inscrit au cercle un polygone régulier d'autant de côtés que l'on voulait (*déf.* 1, liv. 3).

129. Puisque avec trois points seulement pris hors de la circonférence et six ouvertures de compas au plus (59), on peut la diviser en 240 parties égales (57), on pourra inscrire au cercle avec ces trois points et ces six ouvertures, autant de polygones réguliers qu'il y a de nombres exactement diviseurs de 240 : or ces nombres sont : 2, 3, 4, 5, 6, 8, 10, 12, 15, 16, 20, 24, 30, 40, 48, 60, 80, 120, 240 ; on pourra donc, en omettant le diviseur 2, inscrire au cercle un polygone régulier de 3, de 4, de 5, de 6, de 8, de 10, etc., et enfin de 240 côtés.

130. Si le nombre des côtés du polygone

que l'on veut inscrire se trouve être un de ceux dans lesquels on a divisé la circonférence, par les méthodes enseignées (27, 30, etc.), par exemple, le nombre 12, on divisera la circonférence en douze parties égales (31); les deux extrémités de chacune de ces divisions seront les sommets des angles du polygone qu'il était question d'inscrire, ou, ce qui est la même chose, les cordes de ces arcs seront les côtés du polygone.

Si le nombre des côtés du polygone à inscrire ne se trouve point précisément dans les problèmes du liv. II; par exemple, si l'on veut inscrire un polygone de 60 côtés, on doublera, triplera, quadruplera, etc., ce nombre jusqu'à ce qu'on parvienne à avoir un de ceux exprimés dans les problèmes précédens : c'est ainsi qu'en doublant 60, nombre des côtés du polygone indiqué, on a 120. Or, on a donné (42) le moyen de diviser la circonférence en 120 parties égales; ces parties prises deux à deux fourniront 60 arcs égaux, dont les cordes sont les côtés du polygone en question.

S'il avait fallu tripler le nombre, par exemple, si l'on eût voulu inscrire un polygone de 16 côtés, on aurait alors, comme au problème (38), divisé la circonférence en 48 parties, nom-

bre triple de 16; on aurait pris ensuite trois de ces arcs pour en avoir un qui fût la seizième partie de la circonférence, et chacun de ces arcs égaux aurait eu pour corde un côté du polygone de 16 côtés.

## PROBLÈME.

131. *Circonscrire un triangle équilatéral (124) à un cercle donné BCDd (fig. 59).*

*Solution.* Soit fait au rayon AB de ce cercle  $= BC = CD$ , et à BD  $= BL = DL = Dd = DN = dN = dM = BM$ .

Les trois points L, M, N seront les sommets des angles du triangle équilatéral circonscrit au cercle.

*Démonstration.* Le triangle BCD, inscrit au cercle (29, 130), étant équilatéral, les triangles DLB, NDd, dBM auront leurs côtés égaux à ceux de ce triangle; donc leurs angles seront égaux (8, liv. 1); les trois angles NDd, dDB, BDL seront donc égaux aux trois angles du triangle inscrit, c'est-à-dire à deux droits (32, liv. 1): donc la ligne NDL sera droite (14, liv. 1). On démontrerait la même chose pour les deux lignes LBM, NdM; et comme

chacune d'elles est double du côté  $BD$ , elles seront par conséquent égales entre elles. Donc le triangle  $LMN$  est équilatéral; ensuite les angles  $NDd$ ,  $DLB$  étant égaux, la droite  $Dd$  sera parallèle à  $LB$  (29, liv. 1), ou à  $LM$ . Or les points  $N$ ,  $A$ ,  $B$  sont dans une même droite perpendiculaire à  $Dd$  (13, 14); donc  $AB$  est aussi perpendiculaire à  $LM$  (27, liv. 1); donc  $LM$  est tangente au cercle (16, liv. 3). On démontrerait la même chose pour les deux lignes  $NL$ ,  $NM$ ; donc le triangle  $NLM$  est équilatéral et circonscrit au cercle (déf. 2, liv. 4).

## PROBLÈME.

132. *Circonscrire un carré à un cercle donné* (fig. 60).

*Solution.* Divisez la circonférence de ce cercle en quatre parties égales aux points  $B$ ,  $F$ ,  $E$ ,  $f$  (27); de ces points comme centres et du rayon  $AB$ , décrivez des arcs qui se coupent en  $R$ ,  $S$ ,  $T$ ,  $V$ ; ces quatre derniers points seront les sommets des angles du carré circonscrit au cercle.

*Démonstration.* Les angles  $TBA$ ,  $SBA$  étant droits (100), la ligne  $TSB$  est une droite

(14, liv. 1) perpendiculaire au diamètre BE, et par conséquent tangente au cercle (16, liv. 3) : on démontrerait la même chose pour les autres lignes TFV, VER, R/S. De plus, les triangles BFT, BFA ayant les côtés respectivement égaux, on aura l'angle  $BTF = BAF$  (8, liv. 1), et par conséquent droit (27) : la même chose se démontrerait pour les autres angles V, R, S; donc, etc.

## PROBLÈME.

**133.** *Circonscrire à un cercle donné un pentagone régulier.*

*Solution.* Soit le cercle BDE (fig. 61) décrit avec le rayon AB; divisez sa circonférence en cinq parties égales (40) aux points B, C, D, E, F; d'un de ces points C comme centre et du rayon CB décrivez la demi-circonférence BDP (64); prenant pour centre le point E opposé à l'arc CB et avec le rayon EC coupez l'arc BDP en  $p$ ; des centres B, C, D, E, F et avec le rayon Pp décrivez des arcs qui se coupent aux points  $b, c, d, e, f$ ; ces points d'intersection seront les sommets des angles du pentagone circonscrit au cercle.



La démonstration est la même que celle du problème suivant.

## PROBLÈME.

134. *Étant donnés les sommets des angles d'un polygone régulier quelconque inscrit au cercle, trouver les sommets des angles d'un polygone semblable circonscrit.*

*Solution.* Soient les points B, C, D, E (*fig. 62*) les sommets des angles du polygone inscrit : de l'un de ces points C pris pour centre et d'un rayon égal à la distance CB, de deux d'entre eux, décrivez la demi-circonférence BDP (*64*); des centres B et C et avec le rayon BD, décrivez deux arcs qui se coupent au point V (dans le cas du problème précédent (*fig. 61*), le point V coïncide avec le point E) : de ce même rayon BD et du point V comme centre coupez la circonférence BDP en *p*; avec *Pp* pour rayon et des centres B, C, D, E, etc., qui sont les sommets des angles du polygone inscrit, décrivez les arcs qui se coupent aux points *b, c, d, e, etc.*; ces points seront les sommets des angles du polygone régulier circonscrit.

*Démonstration.* On a  $pP.VC = (CD)^2$  (22),  
c'est-à-dire  $cC.BD = (BC)^2$ ; d'où (17, liv. 6)

$$BD : BC :: BC : Cc.$$

Mais  $BC = CD$ , et  $Bc = cC$  : donc les deux triangles isoscèles  $BCD$ ,  $BcC$  auront leurs côtés proportionnels; donc (5, liv. 6) l'angle  $cCB$  sera égal à l'angle  $CBD$ ; d'où il suit que les deux lignes  $cC$ ,  $BD$  seront parallèles (28, liv. 1). On prouverait de même que  $Cd$  est aussi parallèle à  $BD$ . Les points  $c$ ,  $C$ ,  $d$  seront donc dans la même ligne droite : mais de ce que  $BC = ED$ , il suit que le rayon  $AC$  est perpendiculaire à  $BD$  (14); il le sera donc aussi à la droite  $cd$  (29, liv. 1) : donc  $cd$  est tangente à sa moitié en  $C$  (16, liv. 3). On démontrerait de même que  $de = cd$  est tangente à sa moitié en  $D$ ; ainsi des autres. Le nombre de ces lignes sera égal à celui des points  $B$ ,  $C$ ,  $D$ ,  $E$ , etc. Donc, etc. (*déf.* 2, liv. 4).

PROBLÈME.

135. *Sur un côté donné*  $AE$  (fig. 1), *construire un triangle équilatéral.*

*Solution.* On trouvera le point  $D$  suivant la

méthode indiquée (4); le triangle ADE sera le triangle cherché.

## PROBLÈME.

**136.** *Sur un côté donné AB (fig. 43), construire un carré.*

*Solution.* Les deux points F, T étant trouvés, d'après la méthode prescrite (100), le carré ABTF sera le carré cherché.

*Démonstration.* BT étant égale et parallèle à FA, et par conséquent perpendiculaire à AB (100), la ligne FT sera aussi parallèle à BA (33, liv. 1); d'où aussi les angles BTF, AFT sera droits (27, liv. 1), et ABTF sera un carré (déf. 32, liv. 1).

## PROBLÈME.

**137.** *Sur un côté donné AB (fig. 63), construire un pentagone régulier.*

*Solution I.* Avec le rayon AB et du centre A, décrivez la circonférence BCDEd, et faites à  $AB = BC = CD = DE = Ed$ ; faites encore à  $BD = Ba = Ea$ , et ensuite à  $Aa = Db$

$= db$ ; du centre B et avec le rayon BA décrivez l'arc indéfini ACL, dans lequel vous ferez à  $Ab = AH = HK = KL$  : | pareillement, dans la circonférence BCD, faites à  $Ab = BQ = QP = PN$ . Des points L et N pris pour centres et du rayon AB décrivez deux arcs qui se coupent en M; les points A, B, L, M, N seront les sommets des angles du pentagone régulier cherché.

*Démonstration.* L'angle CBF (*fig. 61*) du pentagone régulier BCDEF a pour mesure la moitié de l'arc CDEF (20, *liv. 3*); cet angle étant donc égal à trois cinquièmes de la circonférence, l'angle CBF du pentagone a pour mesure les trois dixièmes. Or les arcs AHKL, BQPN, qui mesurent les angles ABL, BAN, valent chacun les trois dixièmes de la circonférence (41) : donc ces angles ABL, BAN sont ceux du pentagone régulier à construire sur AB; ensuite les trois côtés AB, BL, AN, côtés du pentagone, sont égaux entre eux; donc, en comparant les points L, B, A, N de la *figure 63*, avec les points C, B, F, E de la *figure 61*, le triangle LMN de la première figure, ayant les côtés respectivement égaux aux côtés du triangle CDE de la seconde, ils auront aussi les angles égaux (8, *liv. 1*),

et tout coïncidera parfaitement ; donc , etc.

*Solution II.* Décrivez , comme ci-dessus , du rayon  $AB$  et du centre  $A$  , la circonférence  $BDd$  (*fig. 64*) ; faites-y à  $AB = BC = CD = DE = Ed$  ; à  $BD = Ba = Ea$  ; et enfin , à  $Aa = Db = db$  ; ensuite , avec le rayon  $bE$  et du centre  $A$  décrivez un arc qui passe par les points  $L$  et  $M$  ; du centre  $B$  et avec le même rayon  $bE$  , coupez cet arc au point  $M$  et la circonférence en  $N$  ; enfin , avec le même rayon et du centre  $N$  , coupez l'arc  $LM$  en  $L$  ; les points  $A$  ,  $B$  ,  $L$  ,  $M$  ,  $N$  seront les sommets des angles du pentagone régulier.

*Démonstration.* On a (*4, liv. 2*)

$$(BE)^2 = (bE)^2 + (Bb)^2 + 2Bb \cdot bE;$$

l'angle  $BNE$  étant inscrit et appuyé sur le diamètre , on a (*31, liv. 3, 47, liv. 1*) ,

$$(BE)^2 = (BN)^2 + (NE)^2.$$

En comparant les deux valeurs de  $(BE)^2$  dans lesquelles  $(bE)^2 = (BN)^2$  , il résulte que

$$(Bb)^2 + 2Bb \cdot bE = (NE)^2;$$

puis  $bE$  étant égal à  $bA + AE = Ab + AB$  , on aura

$$(Bb)^2 + 2Bb \cdot Ab + 2Bb \cdot AB = (NE)^2.$$

Mais  $2Bb \cdot AB = 2(Ab)^2$  (46); donc

$$(Bb)^2 + 2Bb \cdot Ab + (Ab)^2 + (Ab)^2 = (NE)^2.$$

Or

$$(Bb)^2 + 2Bb \cdot Ab + (Ab)^2 = (AB)^2;$$

donc

$$(AB)^2 + (Ab)^2 = (NE)^2.$$

NE sera donc le côté du pentagone inscrit au cercle  $BDd$  (50) (10, liv. 13). L'arc NE étant égal à deux dixièmes de la circonférence, l'arc BCN sera égal à trois dixièmes, et l'angle BAN sera l'angle du pentagone régulier. Substituant ensuite la droite BN aux deux côtés BA, AN du pentagone régulier, elle deviendra le côté du triangle isocèle qui a pour base AB, et chacun des angles à la base sera double de l'angle au sommet (11, liv. 4); les points L et M seront donc aussi les sommets du pentagone régulier que l'on avait à construire.

#### PROBLÈME.

**138.** *Construire un hexagone régulier sur un côté donné AB (fig. 65).*

*Solution.* Du rayon AB et des points A et B

comme centres soient décrits deux arcs qui se coupent au point  $O$  ; avec le même rayon et du centre  $O$  soit décrit un cercle dans la circonférence duquel on fera à  $AB = BC = CD = DE = EF$  ; l'hexagone  $ABCDEF$  sera l'hexagone demandé.

Voyez, pour la démonstration, la quinzième du liv. 4.

## PROBLÈME.

139. Sur un côté donné  $AB$  (fig. 66), construire un octogone régulier.

*Solution I.* Des points  $A$  et  $B$  pris pour centres et avec le rayon  $AB$  décrivez les deux demi-circonférences  $BCDE$ ,  $ACde$  (64) ; faites à  $CE = Ea = Ba = Aa = ea$  ; avec le rayon  $AB$  et du centre  $a$  coupez l'arc  $DE$  au point  $H$  ; avec le même rayon et du centre  $a$  coupez l'arc  $de$  au point  $h$  ; encore avec le même rayon, et des points  $H$ ,  $h$  comme centres, décrivez deux arcs qui passent par les points  $G$ ,  $g$  ; avec le rayon  $Ba$ , et des points  $a$ ,  $a$  pris pour centres, coupez ces deux arcs en  $g$ ,  $G$  ; avec le rayon  $AB$  et des centres  $G$  et  $g$  soient décrits deux arcs qui passent par les points  $F$  et  $f$  ; coupez ces deux arcs en  $f$ ,  $F$  avec le

rayon  $Aa$  et des centres  $a, \alpha$ , les points  $A, B, h, g, f, F, G, H$  seront les sommets de l'octogone régulier construit sur le côté  $AB$ .

*Démonstration.* Les côtés  $AB, Bh, hg, gf, AH, HG, GF$  sont tous égaux par construction. Maintenant, si l'on considère un octogone régulier inscrit au cercle, on trouvera que chacun de ses angles à la circonférence a pour base un arc égal aux  $\frac{6}{8}$  de la circonférence, et par conséquent  $\frac{3}{8}$  pour mesure (20, liv. 3); on a ensuite l'arc  $BCH$  égal à  $\frac{3}{8}$  (30) : donc l'angle  $BAH$  est un angle de l'octogone, ainsi que l'angle  $ABh$ . Ensuite  $aA, \alpha B$  étant perpendiculaires à  $AB$  (27), elles seront parallèles entre elles (29, liv. 1) : donc la droite  $Ha$  qui fait un angle de  $45^\circ$  avec  $aA$  (27), en fera encore un semblable avec la ligne  $\alpha B$  (27, liv. 1). Mais  $hB\alpha$  est aussi de  $45^\circ$  : donc  $aH$  est parallèle à  $hB$  (28; liv. 1) : donc aussi  $ah$  est égale et parallèle à  $HB$  (33, liv. 1); d'où l'angle  $haH = hBH$  (34, liv. 1). Or l'angle  $hBH = hBE - HBE = hBE - \frac{1}{2} HAE$  (20, liv. 3); il aura donc pour mesure  $\frac{3}{8} - \frac{1}{16}$ , c'est-à-dire



$\frac{5}{16}$  de la circonférence : donc l'angle  $Bha$ , qui avec l'angle  $haH$  équivaut à deux droits (27, *liv. 1*), aura pour mesure  $\frac{3}{16}$  de la circonférence. Ensuite les deux triangles  $ahB$ ,  $ahg$  ayant tous leurs côtés égaux entre eux, l'angle  $ahg = ahB$  (8, *liv. 1*); d'où l'angle total  $ghB$  aura pour mesure  $\frac{3}{8}$  de la circonférence, et sera angle de l'octogone, ainsi que l'angle  $AHG$ . L'angle  $hga$  sera encore égal à l'angle  $hBa$ , et les deux triangles  $gfa$ ,  $BaA$  ayant aussi les côtés égaux entre eux, l'angle  $fga$  sera égal à  $ABa$  (8, *liv. 1*). L'angle  $hgf$  sera donc composé de deux angles respectivement égaux aux deux qui composent l'angle  $hBA$  : ces deux angles seront donc égaux, et chacun d'eux sera par conséquent angle de l'octogone : il en sera de même pour l'angle  $HGF$ ; les points  $f$  et  $F$  seront donc aussi sommets d'angles de l'octogone comme tous les autres.

*Solution II.* Avec le rayon  $AB$  et des points  $A$  et  $B$  pris pour centres décrivez comme ci-dessus les deux demi-circonférences  $BCDE$ ,  $ACde$ ; et ayant fait à  $CE = Ea = Ba = Aa = ea$ , du rayon  $AB$  et du centre  $a$  décrivez un arc qui coupe l'arc  $DE$  en  $H$  et passe par

le point  $F$  ; avec le même rayon et du centre  $a$ , décrivez encore un arc qui coupe l'arc  $de$  en  $h$  et passe par le point  $f$  ; du rayon  $aA$  et du centre  $a$  décrivez un arc qui passe par le point  $f$  ; avec le même rayon et du centre  $a$  décrivez un arc qui passe par le point  $F$  ; enfin, avec le rayon  $AB$  et des centres  $H$  et  $F$ ,  $h$  et  $f$  décrivez des arcs qui se coupent aux points  $G$  et  $g$ .

*Démonstration.* D'après la démonstration de la première solution, les droites  $AB$ ,  $aa$  étant parallèles et égales entre elles, ainsi que les droites  $aA$ ,  $aB$  avec lesquelles elles forment des angles droits, si l'on fait, pour abrégé,  $AB = 1$ , on aura aussi  $aa = af = aF = 1$ . On a ensuite  $(Aa)^2 = 2 = (af)^2 = (aF)^2$  : donc les angles  $f\alpha a$ ,  $F\alpha a$  seront droits (48, liv. 1), et les points  $f$ ,  $\alpha$ ,  $B$  dans la même droite (14, liv. 1), comme aussi les points  $F$ ,  $\alpha$ ,  $A$  dans la même parallèle. Ensuite de l'égalité de  $f\alpha$ ,  $F\alpha$ , il résulte que  $fF$  sera aussi égale et parallèle à  $aa = 1$ , et  $F\alpha af$  sera un carré. De plus, les triangles  $FGa$ ,  $HGa$  ayant les côtés égaux entre eux, ont aussi les angles égaux (8, liv. 1), et l'angle  $FGa$  est égal à  $G\alpha H$  ; les deux droites  $GH$ ,  $Fa$  seront donc parallèles, comme aussi  $FG$ ,

$aH$  (33, liv. 1) : mais l'angle  $FaH$  extérieur au triangle  $aHA$  est égal aux deux angles intérieurs opposés  $aHA$ ,  $aAH$  (32, liv. 1), c'est-à-dire, à trois angles demi-droits : donc on a l'angle  $FaH = BAH$  ; donc aussi les angles opposés dans les parallélogrammes étant égaux (34, liv. 1),  $FGH = BAH$ . On a ensuite l'angle  $AaH = aHG$  : de plus, l'angle  $AHa$  est droit ; donc aussi l'angle  $AHG$  vaut trois demi-droits. De même l'angle  $fFa$  étant droit, et l'angle  $aFG$  étant égal à  $aHG$  qui est demi-droit, l'angle  $fFG$  sera aussi égal à trois demi-droits. On démontre la même chose pour les angles en  $f$ ,  $g$  et  $h$  : donc tous les côtés et tous les angles étant égaux, la figure sera un octogone régulier.

Si l'on quadruple les deux membres de l'équation (15)

$$(QM)^2 = (AQ)^2 - (AM)^2,$$

qui appartient à la figure 3, on aura

$$4(QM)^2 = 4(AQ)^2 - 4(AM)^2;$$

c'est-à-dire

$$(Qq)^2 = 4(AQ)^2 - (AB)^2;$$

d'où résulte le théorème suivant pour tout

rhombe quelconque : le carré d'une des diagonales du rhombe vaut quatre fois le carré d'un de ses côtés, moins le carré de l'autre diagonale; d'où, dans le rhombe  $Fa$ ,  $HG$ , on aura

$$(aG)^2 = 4(Fa)^2 - (FH)^2.$$

Mais comme l'angle  $FGH = HAB$ , et que les côtés qui comprennent ces deux angles égaux sont aussi égaux, on a aussi

$$FH = BH \text{ (4, liv. 1).}$$

On aura donc

$$(aG)^2 = 4(AB)^2 - (BH)^2 = (BE)^2 - (BH)^2.$$

Mais (31, liv. 3, et 47, liv. 1)

$$(BE)^2 = (BH)^2 + (HE)^2;$$

donc

$$(aG)^2 = (HE)^2;$$

d'où

$$aG = HE.$$

*Solution III.* Après avoir du centre  $A$  et du rayon  $AB$  (*fig. 67*) décrit la demi-circonférence  $BCDE$  (64), et avoir fait à  $BD = Ba = Ea$ ; du centre  $a$  et du rayon  $AB$  soit décrit un arc qui coupe l'arc  $DE$  en  $H$ , et passe par  $F$ ; du centre  $a$  et du rayon  $aA$  soit

décrit un arc qui passe par  $f$ ; du centre  $a$  et du rayon  $aB$  soit décrit un arc qui passe par  $g$ ; du centre  $a$  et du rayon  $BH$  soit décrit un arc qui passe par  $h$ ; du centre  $a$  et du rayon  $HE$  soit décrit un arc qui passe par  $G$ ; soit fait à  $AB = Bh = hg = gf = fF = FG$ ; on aura aussi  $FG = GH$ , etc.

*Démonstration.* Les triangles  $aAB$ ,  $aBh$ ,  $ahg$ ,  $agf$ , etc., qui ont leur sommet en  $a$  et leurs bases sur les côtés de la figure, ont tous leurs côtés respectivement égaux à ceux des triangles affectés des mêmes lettres dans la figure 66 (*voyez* les deux démonstrations précédentes) : donc ils auront aussi leurs angles égaux (8, liv. 1); et comme ils sont semblablement ordonnés, les angles de la figure 67, qui sont composés des angles de ces triangles pris deux à deux, seront aussi égaux aux angles de l'autre figure; donc, etc.

*Solution IV.* Après avoir, du centre  $A$  et du rayon  $AB$ , décrit la demi-circonférence  $BCDE$ , en y faisant à  $AB = BC = CD = DE$ , et avoir fait à  $BD = Ba = Ea$ ; ayant du centre  $a$  et du rayon  $AB$  coupé la demi-circonférence en  $H$ , soient des centres  $E$  et  $A$ , avec le rayon  $EH$ , décrits deux arcs qui se coupent en  $P$ ; du centre  $P$  avec le même

rayon PA soit coupée la demi-circonférence en Q; des centres B et H avec le rayon BQ soient décrits deux arcs qui se coupent en O : maintenant soit décrit du centre O et du même rayon OH un cercle qui passera par A; soit fait dans sa circonférence à  $AB = Bh = hg = gf = fF = FG$ ; les points A, B, h, g, f, etc., seront les sommets des angles de l'octogone.

*Démonstration.* Comme on a  $QP = AP = EP$ , ainsi que  $QA = AE = AB$ , et que AB est sur le prolongement de AE (15, liv. 6), on aura (22)

$$BQ \cdot AP = (AQ)^2;$$

d'où (17, liv. 6)

$$AP : AQ :: AQ : BQ :$$

ou bien

$$HE : AE :: AB : BO.$$

Mais HE est un côté de l'octogone inscrit au cercle qui a pour rayon AE : donc aussi AB sera le côté de l'octogone inscrit au cercle qui a pour rayon BO.

## PROBLÈME.

140. *Sur un côté donné AB (fig. 69), construire un décagone régulier.*

*Solution.* Du centre A et du rayon AB soit décrit le cercle  $BDd$ ; soit fait dans sa circonférence à  $AB = BC = CD = DE = Ed$ ; soit fait à  $BD = Ba = Ea$ ; soit fait ensuite à  $Aa = Db = db$ . Maintenant des centres A et B avec le rayon  $bE$  soient décrits deux arcs qui se coupent en V; du centre V et du même rayon  $bE$  soit décrit le cercle  $BLMNOPQRSA$ , et soit fait à  $AB = BL = LM = MN = NO = OP = PQ = QR = RS$ ; le point S sera dans la section des deux circonférences, et les points A, B, L, M, etc., seront les sommets des dix angles du décagone régulier cherché.

*Démonstration.* La ligne  $bE$  est un côté du triangle isocèle qui, ayant pour base AB, a chacun des angles à la base double de l'angle au sommet (137). Donc, dans le triangle VAB, l'angle BVA sera égal à un cinquième de deux angles droits (32, liv. 1); l'arc BA qui le mesure sera donc égal à un

dixième de la circonférence, ainsi que les autres arcs  $BL$ ,  $LM$ ,  $MN$  : donc le polygone  $ABLMNOPQRS$  sera un décagone régulier inscrit au cercle qui a le point  $V$  pour centre, et construit sur le côté  $AB$ .

PROBLÈME.

141. *Sur un côté donné  $AB$  (fig. 69), construire un polygone régulier quelconque, de ceux qu'on peut inscrire au cercle (128).*

*Solution.* Du rayon  $AB$  soit décrit un cercle  $BDd$ ; soit inscrit à ce cercle un polygone régulier semblable à celui qu'on veut construire sur le côté  $AB$ , c'est-à-dire d'un égal nombre de côtés (128), et soit  $Bl$  un côté de ce polygone inscrit; soit ensuite cherchée une troisième proportionnelle à ce côté  $Bl$  et au rayon  $AB$  (87, 89, 90, 91, 92); avec cette ligne prise pour rayon, et des centres  $A$  et  $B$  soient décrits deux arcs qui se coupent en  $V$ ; du point  $V$  comme centre et du même rayon  $VA$  soit décrit un cercle  $ABLMN$ , etc., et soit fait à  $AB = BL = LM = MN$ , etc.; les points  $A$ ,  $B$ ,



L, M, N, etc., seront les sommets des angles du polygone cherché.

*Démonstration.* Les côtés du triangle  $BAl$  étant proportionnels à ceux du triangle  $BVA$ , on aura l'angle  $BAl = BVA$  (5, liv. 6) : donc les arcs  $Bl$ ,  $BA$  qui le mesurent, seront des portions égales de leurs circonférences ; donc, etc.

## PROBLÈME.

142. Construire un carré sur une diagonale  $AB$  donnée (fig. 70).

*Solution.* Du centre  $A$  et du rayon  $AB$  soit décrit l'arc  $BCDE$  ; du centre  $B$  avec le même rayon soit décrit l'arc indéfini  $CP$ , et soit fait à  $BC = CD = DE$  ; soit fait ensuite à  $BD = Ba = Ea$ . Maintenant, du centre  $E$  et du rayon  $Aa$  soit coupé l'arc  $CP$  en  $P$  ; des centres  $A$  et  $B$  et du rayon  $AP$  soient décrits deux arcs qui se coupent en  $L$  et  $M$  ;  $ALBM$  sera le carré cherché.

*Démonstration.* Si l'on suppose pour abrégé  $AB = 1$ , on aura

$$AP = \frac{1}{2} \sqrt{2} \text{ (104) } = AL = BL ;$$

d'où

$$(AL)^2 = (BL)^2 = \frac{1}{2},$$

et

$$(AL)^2 + (BL)^2 = 1 = (AB)^2.$$

Donc l'angle BLA est droit (48, liv. 1), et les deux angles LBA, LAB égaux entre eux, valent chacun la moitié d'un angle droit (5, et 32, liv. 1). On démontrera de même que l'angle BMA est droit, et que les angles MBA, MAB valent chacun la moitié d'un angle droit : donc les angles MBL, MAL seront droits, et et ALBM sera le carré cherché.

# LIVRE DIXIÈME.

---

## DES CENTRES.

### PROBLÈME.

143. *Trouver le centre d'un cercle donné*  
MAB (fig. 71).

*Solution.* Ayant pris pour centre un point quelconque A de sa circonférence, d'un rayon arbitraire AB, plus petit que le diamètre du cercle donné, et plus grand que le quart de ce diamètre, soit décrite la demi-circonférence BCDE, en faisant à  $AB = BC = CD = DE$ ; soit M le point où elle coupe la circonférence du cercle donné; des centres E et A avec le rayon EM soient décrits deux arcs qui se coupent en L; du centre L et du même rayon LA soit coupé le cercle BME en Q; des centres B et A et du rayon BQ soient décrits deux arcs qui se coupent en O; le point O sera le point cherché.

*Démonstration.* La ligne BAE étant droite (15, liv. 4), l'angle extérieur LAB est égal

aux deux angles intérieurs opposés  $ALE$ ,  $AEL$  pris ensemble dans le triangle  $ALE$  (32, *liv. 1*). Or les triangles  $LAE$ ,  $LAQ$  ont tous les côtés égaux entre eux, et par conséquent les angles opposés aux côtés égaux sont aussi égaux (8, *liv. 1*). Donc l'angle  $AEL = QAL$ , et l'angle  $ALE = ALQ$ ; donc l'angle  $LAB$  est égal aux deux angles  $QAL$  et  $QLA$  pris ensemble; et retranchant de part et d'autre l'angle  $QAL$ , on a l'angle restant  $QAB = QLA$ : donc la somme des deux angles  $LAQ$ ,  $LQA$  dans le triangle  $LAQ$ , est égale à la somme des deux angles  $AQB$ ,  $ABQ$  dans le triangle  $ABQ$  (32, *liv. 1*). Mais ces deux triangles  $LAQ$ ,  $ABQ$  sont isocèles par construction; donc les angles à leurs bases seront égaux chacun à la demi-somme (5, *liv. 1*), et par conséquent égaux entre eux dans l'un et l'autre triangle; donc les triangles  $LAQ$ ,  $ABQ$  seront semblables (4, *liv. 6*), et l'on aura

$$LA : AQ :: AQ : QB;$$

et substituant les valeurs égales,

$$ME : EA :: AB : OB;$$

donc les triangles isocèles  $MAE$ ,  $AOB$  ayant les côtés proportionnels, sont équiangles entre

eux (5, *liv.* 6), et on a l'angle  $OAB = AEM = AEM$ . Mais l'angle extérieur  $MAB$  est égal à la somme des deux angles intérieurs  $AME, AEM$  égaux entre eux, dans le triangle  $AEM$  (32, *liv.* 1); donc il sera égal à l'angle  $OAB$  pris deux fois, ou bien on aura  $OAB = OAM$ . Mais les deux triangles  $OAB, OAM$  ont encore les côtés  $AB, AM$  égaux entre eux, et de plus le côté  $OA$  commun, c'est-à-dire ces deux triangles ont un angle égal compris entre deux côtés égaux : donc (4, *liv.* 1) le troisième côté  $OB$  de l'un de ces triangles sera aussi égal au troisième côté  $OM$  de l'autre ; donc les trois lignes  $OB, OA, OM$  sont égales, et par conséquent le point  $O$  est le centre que l'on cherchait du cercle  $MAB$  (9, *liv.* 3).

144. Quand on a trouvé la valeur de  $QB$ , troisième proportionnelle aux deux lignes  $LA, AQ$ , ou aux deux lignes  $EM, EA$ , valeur qui est celle du rayon du cercle dont on cherche le centre, il suffit de prendre deux points à volonté dans la circonférence du cercle, et de ces points comme centres avec le même rayon, décrire deux arcs qui se coupent; le point de leur intersection sera le centre du cercle.

145. Pour obtenir des sections à angles moins aigus, il sera utile, dans la pratique, de choisir

à vue d'œil un rayon  $AB$  qui approche de la valeur du rayon du cercle que l'on cherche.

## PROBLÈME.

**146.** *Circonscrire et inscrire un cercle à un triangle équilatéral donné (fig. 72).*

*Solution.* Soient  $A$ ,  $B$  et  $M$  les sommets des angles du triangle donné; du centre  $A$  et du rayon  $AM$  soit tracé l'arc  $MDE$ , et soit fait à  $AM = MD = DE$ ; des centres  $B$  et  $A$  avec le rayon  $BD$ , soient tracés deux arcs qui se coupent en  $L$ ; du centre  $L$  avec le même rayon  $LA$  soit décrit un arc qui coupe l'arc  $DE$  en  $Q$ ; des sommets de deux angles du triangle, des points  $A$  et  $B$ , par exemple, pris pour centres et avec le rayon  $QE$ , soient décrits deux arcs qui se coupent en  $O$ ; du centre  $O$  et du même rayon  $OA$  soit décrit un cercle, il sera circonscrit au triangle.

Soit divisée la ligne  $QE$  en deux parties égales au point  $m$  (66); du même centre  $O$  et du rayon  $Qm$  soit décrit un autre cercle; il sera inscrit au triangle.

*Démonstration.* De la démonstration du n° 142, il résulte que la ligne  $BAE$  étant droite,

QE est troisième proportionnelle aux deux lignes EM, EA. Donc QE sera le rayon d'un cercle qui passe par les trois points M, A, B, et le point O en sera le centre (143).

Dans la figure 59, où le cercle DB*d* est inscrit au triangle NLM, AD est perpendiculaire à LD, et NAB à LB (131) : donc les triangles rectangles NDA, NBL, qui ont un angle commun en N, ont aussi le troisième angle égal (32, liv. 1); d'où on a la proportion (4, liv. 6)

$$NL : LB :: NA : DA.$$

Mais NL est double de LB ; donc aussi NA est double de DA, c'est-à-dire, le rayon du cercle circonscrit au triangle équilatéral est double du rayon du cercle inscrit ; donc, etc.

## PROBLÈME.

147. *Circonscrire et inscrire un cercle à un carré donné (fig. 73).*

*Solution.* Soient A, B, T, F les sommets des angles du carré donné ; soit fait à AB = AE ; à FB = FE ; du centre B avec le même rayon BF soit décrit un arc qui passe par Q et q ; du centre E et du rayon EA soit coupé cet arc en Q et q ;

des centres  $Q$  et  $q$  et du même rayon  $AE$  soient décrits deux arcs qui se coupent en  $M$ ; des centres  $A$  et  $B$  et du rayon  $AQ$  soient décrits deux arcs qui se coupent en  $O$ ; du centre  $O$  et du même rayon  $OB$  soit décrit un cercle, il sera circonscrit au carré; du même centre  $O$  et du rayon  $OM$  soit décrit un autre cercle, il sera inscrit au carré.

*Démonstration.* Si l'on fait, pour abrégér,  $AB = 1$ , on aura

$$AQ = \frac{1}{2} \sqrt{2} (104) = AO = BO;$$

on aura donc

$$(AO)^2 + (BO)^2 = 1 = (AB)^2;$$

d'où l'angle  $BOA$  sera droit (48, liv. 1), et les angles  $OAB$ ,  $OBA$  seront égaux chacun à la moitié d'un angle droit (5 et 32, liv. 1). De plus, l'angle  $BAF$  du carré étant droit, l'angle  $OAF$  en vaudra la moitié; donc dans les deux triangles  $BAO$ ,  $FAO$  on aura un angle égal compris entre côtés égaux: d'où l'on aura aussi  $OB = OF$  (4, liv. 1). On démontre de la même manière que l'on a aussi  $OB = OT$ : donc le cercle  $ABTF$  est circonscrit au carré.

La ligne  $OM$  est perpendiculaire à  $MA$  (83):



donc  $BMA$  est tangente au cercle décrit avec le rayon  $OM$ . On démontre la même chose pour les autres côtés  $AF$ ,  $FT$ ,  $TB$  : donc le cercle décrit du centre  $O$  et du rayon  $OM$  est inscrit au carré.

## PROBLÈME.

148. *Circonscrire et inscrire un cercle à un polygone régulier quelconque (fig. 74).*

*Solution.* Soient  $B$ ,  $A$ ,  $M$  les sommets de trois angles de ce polygone régulier, dont celui du milieu  $A$  soit également éloigné des deux autres  $B$  et  $M$ ; du point  $A$  comme centre et du rayon  $AB$  soit décrite la demi-circonférence  $BCDE$  (64); des centres  $A$  et  $E$ , et du rayon  $ME$  soient décrits deux arcs qui se coupent en  $L$ ; du centre  $L$  et du même rayon  $LA$  soit coupée la demi-circonférence  $BCDE$  en  $Q$  : la ligne  $BQ$  sera le rayon du cercle circonscrit; puis des sommets  $B$  et  $A$ , par exemple, de deux des angles du polygone comme centres et du rayon  $BQ$  soient décrits deux arcs qui se coupent en  $O$ ; le point  $O$  sera le centre de ce cercle.

Si  $AB$  est un côté du polygone, on le divi-

sera en deux parties égales au point  $T$  (66);  $OT$  sera le rayon du cercle inscrit que l'on décrira du même centre  $O$ ; si une autre ligne quelconque  $Ab$  est un des côtés du polygone, on la divisera en deux parties égales au point  $t$ , et  $Ot$  sera le rayon du cercle à inscrire avec le même centre  $O$ .

*Démonstration.* Il résulte de la démonstration du n° 14, que  $O$  est le centre du cercle qui passe par les trois points  $B, A, M$ ; donc il est le centre du cercle circonscrit, puisque par les trois points  $B, A, M$ , on ne peut faire passer qu'un seul cercle (25, liv. 3). On a ensuite  $OT$  perpendiculaire à  $TA$  (83); d'où  $TA$  sera tangente au cercle décrit du centre  $O$  avec le rayon  $OT$  (16, liv. 1). La même démonstration s'applique à tous les autres côtés égaux à  $AB$ ; donc ce cercle est inscrit au polygone qui a pour côté  $AB$ . On démontre de même que le cercle décrit du centre  $O$  et du rayon  $Ot$ , est inscrit au polygone qui a pour côté  $Ab$ .

149. Si  $AB$  est un côté du polygone dans lequel on veut inscrire le cercle, il y aura plusieurs manières de le diviser en deux parties égales (66); nous avons donné la plus simple pour le carré (147): pour le triangle

seul (146), le rayon du cercle inscrit est la moitié du rayon du cercle circonscrit ; dans le carré seul, il est égal à la moitié du côté.

## PROBLÈME.

(150). *Trouver le centre S (fig. 75) d'un cercle qui passe par trois points donnés P, Q, R.*

*Solut.* Des points P et Q comme centres et d'un rayon arbitraire soient décrits deux arcs qui se coupent en A et B ; des centres Q et R et d'un rayon arbitraire soient décrits deux arcs qui se coupent en C et D ; le point S où les lignes AB, CD se coupent (142) sera le centre cherché.

*Démonstration.* Voyez (25, liv. 3).

Dans le double problème présenté (146), Mascheroni n'a traité qu'un cas particulier de chaque question ; et s'il a généralisé (150) la première, sa solution, qui est celle d'Euclide, n'est pas fondée sur l'usage seul du compas. Cette condition est remplie dans les solutions suivantes, qui embrassent les deux problèmes avec plus de généralité.

1<sup>er</sup> PROBLÈME. *Circonscrire un cercle à un triangle donné (fig. 75 bis).*

Soient A, B, C, les trois angles du triangle : supposons le cercle décrit ; soient OB, OC, deux rayons. Si par le point C on mène une tangente, les angles formés par cette tangente avec BC et avec CO seront égaux, l'un à A, l'autre à  $100^\circ$ . Donc  $\angle OCB = 100^\circ - A$ . Or il est facile de déterminer cet angle sans le secours de la règle.

Pour avoir l'angle OCB, de deux points  $m$  et  $m'$  situés à égale distance du point A, je décris avec des rayons égaux, mais plus grands que Am, des arcs qui se cou-

pent en P. Du point A et du rayon AP, je décris un arc qui coupe le côté AC en Q : PAQ est l'angle cherché : car  $PAQ = PAB - A = 100^\circ - A$ . Pour le porter en C, je décris de ce point et du même rayon AP un arc  $qo = PQ$ ; le point o appartiendra au rayon CO. Si donc du point o et du rayon  $Co = AP$  on décrit une circonfer., elle touchera le cercle cherché. Or on sait qu'en menant par le point de contact de deux cercles une droite quelconque, les cordes interceptées par les deux circonfer. sont entr'elles comme les rayons. On a donc  $CO : Co :: CB : C\delta$ . Donc CO est une 4<sup>ième</sup> proportionnelle aux lignes connues CB, C $\delta$  et Co. L'ayant construite (93), on décrira des points A et B, et avec cette ligne pour rayon, deux arcs : leur point d'intersection O sera le centre cherché.

2<sup>e</sup> PROBLÈME. *Inscrire un cercle dans un triangle donné.*

On sait que les tangentes menées d'un même point à un cercle sont égales. Si donc on connaissait un seul des points de contact, ou la distance de ce point aux deux sommets adjacens, en décrivant des arcs de ce point et avec des rayons respectivement égaux aux distances trouvées, les rencontres de ces arcs avec chacun des deux autres côtés du triangle, détermineraient les deux autres points de contact. On connaîtrait ainsi trois points du cercle, qui serait dès lors déterminé. (*V. le problème précédent.*) Cherchons donc les distances d'un de ces points de contact aux deux sommets adjacens, c.-à-d. les longueurs des tangentes menées de ces sommets. Or, 1<sup>o</sup>. la somme de ces tangentes est égale au côté sur lequel on les compte; 2<sup>o</sup>. la double somme des trois tangentes étant égale au périmètre du triangle, leur somme est égale au demi-périmètre. Si de la somme des trois tangentes ou du demi-périmètre on retranche la somme de deux d'entr'elles ou un des côtés, on aura la troisième, celle qui part du sommet opposé à ce côté. Chaque tangente est donc égale au demi-périmètre, moins le côté opposé à son point de départ. (*Note du Traducteur.*)

# LIVRE ONZIÈME.

## PROBLÈMES DIVERS.

### PROBLÈME.

151. *Étant donnée une échelle SL, trouver la surface du triangle ABD et du quadrilatère AOCD (fig. 76).*

*Solution.* Faites à  $BA = Ba$ , et à  $DA = Da$  (11); portez sur l'échelle SL les distances  $Aa$  et  $BD$  prises avec le compas. Supposons, par exemple, que l'on trouve  $Aa = 7$ ,  $BD = 8$ ; multipliez ces deux nombres entre eux, prenez le quart du produit  $= 14$ ; ce nombre exprimera la surface du triangle ABD.

Pour trouver la surface du quadrilatère ABCD, après avoir déterminé le point  $a$  comme ci-dessus, on fera à  $BC = Bc$  et à  $DC = Dc$ ; on trouvera sur l'échelle les deux distances  $Aa$ ,  $Cc$ ; soit, par exemple,  $Aa = 7$ ,  $Cc = 5$ ; prenez la somme de ces deux quantités  $= 12$ : multipliez par cette somme

$= 12$  la valeur de  $BD$  trouvée sur l'échelle  
 $= 8$ , prenez le quart du produit  $= 24$ , ce  
 nombre exprimera la surface du quadrilatère  
 $ABCD$ .

*Démonstration.* La ligne  $Aa$  est double de  
 la perpendiculaire qui tombe du point  $A$  sur  
 la ligne  $BD$  (14); mais la surface du triangle  
 $ABD$  est égale à la moitié de la surface d'un  
 parallélogramme qui aurait pour base la ligne  
 $BD$ , et pour hauteur cette perpendiculaire  
 (41, liv. 1) : donc elle est égale au quart du  
 produit de  $Aa$  par  $BD$ . De même la surface  
 du triangle  $BCD$  est égale au quart du produit  
 de  $Cc$  par  $BD$  : donc la surface du quadrila-  
 tère  $ABCD$  est égale au quart du produit de  
 la somme des deux parallèles  $Aa$ ,  $Cc$  par leur  
 perpendiculaire  $BD$ .

152. Le problème précédent peut servir à  
 mesurer la surface d'un espace renfermé par  
 un polygone quelconque, en imaginant des  
 droites qui le partagent en autant de trian-  
 gles ou de quadrilatères que l'on jugera con-  
 venable. On pourrait proposer encore d'autres  
 manières de la réduire en trapèzes; mais on  
 peut facilement les déduire de la méthode avec  
 laquelle on a résolu ce problème.

## PROBLÈME.

453. *Étant donnés (fig. 77) les plans triangulaires qui comprennent une pyramide tétraèdre, trouver sur sa base le point où tombe la perpendiculaire abaissée du sommet, et trouver sa hauteur.*

*Solution.* Soit le triangle ABC la base de cette pyramide tétraèdre, et soient AEC, BDC AFB les plans triangulaires qui vont se réunir à son sommet; du centre C et du rayon CD = CE soit décrit un arc qui passe par les points *e* et *d*; du centre B et du rayon BD soit décrit un arc qui coupe le premier en *d*; du centre A et du rayon AE soit décrit un arc qui coupe le rayon en *e*; soit trouvé le point P où se coupent les deux droites D*d*, E*e* (112); ce point sera celui où tombe la perpendiculaire abaissée du sommet de la pyramide.

Soit divisée par moitié la droite CE au point *m* (66); du centre *m* et du rayon *m*C soit décrite la demi-circonférence CpE; soit fait à CP = Cp; la ligne Ep sera la hauteur de la pyramide.

*Démonstration.* Si dans la pyramide  $SABC$  qui a pour base le triangle  $ABC$  et pour sommet le point  $S$ , on mène dans le triangle  $SCB$  la droite  $S\delta$  perpendiculaire à  $CB$ , et si l'on élève du point  $\delta$  pris dans le plan de la base  $ACB$  la perpendiculaire  $\delta d$ , elle contiendra le point  $P$ , où tombe du sommet la perpendiculaire  $SP$  (111, liv. 11); de même, si du point  $S$  dans le plan  $SAC$ , on mène à  $AC$  la perpendiculaire  $S\epsilon$ , et si du point  $\epsilon$  dans le plan de la base  $ACB$ , on mène à la même droite  $AC$  la perpendiculaire  $\epsilon e$ , elle contiendra le point  $P$ : donc ce point sera l'intersection des deux droites  $\delta d$ ,  $\epsilon e$ . Mais dans la fig. 77, où les points  $D$  et  $E$  représentent le point  $S$  de la fig. 78,  $Dd$  est perpendiculaire à  $BC$  en un point  $\delta$  (14); de même aussi  $Ee$  est perpendiculaire à  $AC$  en un point  $\epsilon$ : donc le point  $P$  est le point cherché.

De plus, les deux triangles  $CPS$  (fig. 78),  $CpE$  (fig. 77), étant rectangles en  $P$  et  $p$ , le premier par supposition et le second par la 31<sup>e</sup> prop. du liv. 3, et  $CS$  étant la même ligne que  $CE$ , on a  $CP = Cp$ . On aura encore  $PS = pE$ ; car (fig. 78) (47, liv. 1),

$$(CS)^2 - (CP)^2 = (PS)^2;$$

de même on a (fig. 77)



$$(CE)^2 - (Cp)^2 = (pE)^2.$$

Mais

$$(CS)^2 - (CP)^2 = (CE)^2 - (Cp)^2;$$

donc

$$(PS)^2 = (pE)^2;$$

d'où

$$PS = pE :$$

donc  $pE$  est la hauteur de la pyramide.

154. Jusqu'ici toutes les démonstrations que nous avons données étaient fondées sur les élémens d'*Euclide*. Mais comme nous ne pourrions pas toujours suivre la même marche sans être trop prolixes, nous emploierons quelques équations qui sont démontrées dans tous les traités de Trigonométrie plane.

155. Si, dans un cercle décrit avec un rayon égal à l'unité, on appelle  $x$  et  $y$  deux arcs quelconques, on aura

$$\sin(x + y) = \sin x \cos y + \sin y \cos x,$$

$$\sin(x - y) = \sin x \cos y - \sin y \cos x,$$

$$\cos(x + y) = \cos x \cos y - \sin x \sin y,$$

$$\cos(x - y) = \cos x \cos y + \sin x \sin y.$$

156. Si dans la troisième équation l'on fait  $x = y$ , on aura

$$\cos 2x = (\cos x)^2 - (\sin x)^2;$$

et comme  $(\cos x)^2 + (\sin x)^2 = 1$ , d'où l'on tire  $(\cos x)^2 = 1 - (\sin x)^2$ , on aura

$$\cos 2x = 1 - 2(\sin x)^2;$$

d'où

$$(\sin x)^2 = \frac{1 - \cos 2x}{2},$$

et

$$\sin x = \sqrt{\left(\frac{1 - \cos 2x}{2}\right)}.$$

157. Si l'on ajoute les deux premières équations (155), on aura

$$\sin(x + y) + \sin(x - y) = 2 \sin x \cos y;$$

d'où

$$\sin x \cos y = \frac{\sin(x + y) + \sin(x - y)}{2}.$$

Si l'on fait  $(x + y) = p$ ,  $(x - y) = q$ , on aura

$$2x = p + q, \quad 2y = p - q;$$

d'où

$$\sin p + \sin q = 2 \sin\left(\frac{p + q}{2}\right) \cdot \cos\left(\frac{p - q}{2}\right).$$

158. Si l'on ajoute les deux dernières équations (155), on aura

$$\cos x \cos y = \frac{\cos(x + y) + \cos(x - y)}{2}.$$

d'où

$$\cos p + \cos q = 2 \cos \left( \frac{p+q}{2} \right) \cdot \cos \left( \frac{p-q}{2} \right).$$

159. Si l'on retranche la 3<sup>e</sup> des mêmes équations de la 4<sup>e</sup>, on aura

$$\sin x \sin y = \frac{\cos (x-y) - \cos (x+y)}{2};$$

d'où

$$\cos q - \cos p = 2 \sin \left( \frac{p+q}{2} \right) \cdot \sin \left( \frac{p-q}{2} \right).$$

160. A cause de l'équation  $2 \sin x = \text{corde } 2x$ , on aura (156)

$$\text{corde } 2x = 2 \sqrt{\frac{1 - \cos 2x}{2}};$$

et si l'on suppose  $2x = x$ , on aura

$$\text{corde } x = 2 \sqrt{\frac{1 - \cos x}{2}} = \sqrt{(2 - 2 \cos x)}.$$

Si l'on appelle  $k$  la corde d'un arc,  $c$  le cosinus,  $s$  le sinus,  $h$  la corde du complément, on aura

$$k^2 = 2 - 2c \text{ et } h^2 = 2 - 2s.$$

La première de ces deux équations donne

$$c = 1 - \frac{1}{2} k^2; \text{ et comme on a}$$

$$s = \sqrt{(1 - c^2)} = \sqrt{\left(k^2 - \frac{1}{4} k^4\right)} = k \sqrt{\left(1 - \frac{1}{4} k^2\right)},$$

on aura

$$h^2 = 2 - 2k \sqrt{\left(1 - \frac{1}{4}k^2\right)}.$$

PROBLÈME.

**161.** Dans un triangle équilatéral ABC (fig. 79), inscrire un carré ebcd (fig. 124).

*I<sup>re</sup> Solution.* Si l'on veut se servir des côtés donnés du triangle, soit décrit du centre A et avec le rayon AB, le demi-cercle BCDE (64).

Du centre E et avec le rayon EC soit décrit un arc qui coupe le côté donné AB en *b*; du centre A et avec le rayon B*b* soit décrit un arc qui coupe le même côté en *e*; des centres *e* et *b* et avec le rayon *eb* soient décrits deux arcs qui coupent les côtés AC en *d*, et CB en *c*; *ebcd* sera le carré cherché.

*Démonstration.* Faisant pour abrégér  $AB = 1$ , on aura

$$Eb = EC = BD = \sqrt{3} \quad (2);$$

d'où

$$Bb = BE - Eb = 2 - \sqrt{3} = Ae;$$

d'où l'on tire

$$\begin{aligned} be &= AB - 2Ae = 2\sqrt{3} - 3 \\ &= (2 - \sqrt{3}) \cdot \sqrt{3} = bc; \end{aligned}$$

donc on aura

$$Bb : bc :: (2 - \sqrt{3}) : (2 - \sqrt{3}) \cdot \sqrt{3} :: 1 : \sqrt{3}.$$

Mais si l'on suppose que  $AB$  soit coupée au milieu en  $T$  par la perpendiculaire  $CT$ , on aura aussi

$$BT : TC :: \frac{1}{2} : \frac{1}{2} \sqrt{3} \quad (104);$$

c'est-à-dire

$$BT : TC :: 1 : \sqrt{3} :$$

donc  $bc$  est parallèle à  $TC$  (2, liv. 6), et par conséquent perpendiculaire à  $AB$  (27, liv. 1). On démontrerait la même chose pour la droite  $de$  : donc  $ebcd$  est le carré inscrit.

*II<sup>e</sup> Solution.* Si l'on ne voulait pas se servir de l'intersection des côtés donnés du triangle  $ABC$ , mais qu'étant donnés seulement les trois points  $A$ ,  $B$  et  $C$ , sommets des angles du triangle, on dût trouver les quatre points  $b$ ,  $c$ ,  $d$ ,  $e$  du carré à inscrire; du centre  $E$ , comme dans la solution précédente, et avec le rayon  $EC$ , soit décrit un arc qui passe par  $b$ ,  $C$  et  $a$ ; du centre  $B$  et avec le même rayon soit décrit un arc qui coupe en  $a$  celui qu'on vient de tracer; du centre  $a$  et avec le rayon  $AB$  soit

coupée la demi-circonférence BCDE en H, et soit fait dans cette circonférence à  $Ha = HI = IK$ ; du centre D et avec le rayon  $aK$  soit décrit un arc qui passe par  $b$ , le point  $b$  sera déterminé; du centre A et du rayon  $Bb$  soit décrit un arc qui passe par le point  $e$ ; du centre C et du rayon  $Cb$  soit décrit un autre arc qui coupe le dernier en  $e$ ; des centres  $e$  et C et du rayon  $be$  soient décrits deux arcs qui se coupent en  $d$ ; des centres  $b$  et C avec le même rayon  $be$  soient décrits deux arcs qui se coupent en  $c$ ;  $bcde$  sera le carré cherché.

Ou bien en employant le cercle BCDE $\delta$ , et faisant à  $AB = E\delta$ ; des centres D et  $\delta$  et avec le rayon  $aK$  déterminé plus haut soient décrits deux arcs qui se coupent en  $b$ ; le reste se fait comme ci-dessus.

*Démonstration.* Le point K sera ici déterminé, comme dans la fig. 9 (32), par le moyen du même point  $a$ ; ainsi l'arc BK sera un vingt-quatrième de la circonférence. On a ensuite, dans la fig. 9,  $BK = Bk = EM$ ; si l'on compare les points  $a, K, B, k, A, M$  avec les points Q, A, R, S,  $p, B$  de la fig. 4, on tirera pour la fig. 9 de l'équation

$$(AQ)^2 = (RQ)^2 - AS.pQ \quad (20),$$

celle-ci,

$$(aK)^2 = (Ba)^2 - Kk.Aa.$$

Or  $Kk$  est la corde d'un douzième de la circonférence. Pour trouver sa valeur, en supposant pour abrégér  $AB = 1$ , on a le sinus de  $BN = Kk = AX$  (*fig. 12*)  $= \frac{1}{2}$ , et le double de son cosinus, c'est-à-dire  $2NX = NO = BD = \sqrt{3}$ : d'où substituant  $Kk$  pour  $x$  et  $\sqrt{3}$  pour  $2 \cos x$ , dans l'équation (159),

$$\text{corde } x = \sqrt{(2 - 2 \cos x)},$$

on aura la droite

$$Kk = \sqrt{(2 - \sqrt{3})} = \sqrt{\frac{3}{2}} - \sqrt{\frac{1}{2}};$$

d'où

$$\begin{aligned} (aK)^2 &= 3 - \left(\sqrt{\frac{3}{2}} - \sqrt{\frac{1}{2}}\right) \cdot \sqrt{2} \quad (27) \\ &= 3 - (\sqrt{3} - 1) = 4 - \sqrt{3}. \end{aligned}$$

Maintenant, si des centres  $D$  et  $\delta$  et avec le rayon  $aK$  on décrit deux arcs qui se coupent en  $b$ , le point  $b$  sera sur la droite  $BE$  (13), qui divisera en deux parties égales à angles droits la ligne  $D\delta$  au point  $R$  (14), en faisant  $RD = \frac{1}{2} \sqrt{3}$  (104): donc, puisque (47, liv. 1)

$$(Db)^2 = (DR)^2 + (bR)^2,$$

on aura

$$(bR)^2 = (Db)^2 - (DR)^2 = 4 - \sqrt{3} - \frac{3}{4} = \frac{13 - 4\sqrt{3}}{4};$$

et de là

$$bR = \sqrt{3} - \frac{1}{2}, \text{ et } bE = \sqrt{3}.$$

Donc par la démonstration de la solution, le point  $b$  est une des extrémités du carré : on le trouvera de même avec les centres  $D$  et  $E$ , et avec les deux rayons  $aK$  et  $BD$ , comme dans la première partie de la II<sup>e</sup> solution ; puis les deux triangles  $CAe$ ,  $CBb$  ayant tous leurs côtés respectivement égaux, on aura l'angle  $CBb = CAe$  (8, liv. 1)  $= CBA$  ; d'où le point  $e$  sera sur la ligne  $BA$ , et sera une autre extrémité du carré. Enfin, comme, dans cette seconde solution, les droites  $Cb$ ,  $Ce$  sont les mêmes de grandeur et de position que dans la première solution, et qu'on a aussi dans la première solution  $Cd = ed$ ,  $Cc = bc$  à cause du triangle équilatéral  $Ccd$  et de la ligne  $cd$  parallèle à  $AB$  (2, liv. 6), les points  $d$  et  $c$  seront déterminés dans cette seconde solution comme dans la première.



## PROBLÈME.

**162.** *Inscrire dans le carré ABLF (fig. 80) un triangle équilatéral, qui a un angle B à l'un des angles du carré.*

*1<sup>re</sup> Solution.* Du centre A et du rayon AB soit décrite la demi-circonférence BFE, en faisant à  $FB = FE$ ; soit fait aussi à  $BE = BQ = EQ$  : si l'on veut se servir des sections des côtés donnés du carré; du centre F et du rayon FQ soit décrit un arc qui coupe deux côtés du carré aux points M et N, les points B, M, N seront les sommets des angles du triangle cherché.

*Démonstration.* L'angle QAB étant droit (83), on aura

$$(BQ)^2 = (AB)^2 + (AQ)^2 \quad (47, \text{liv. 1});$$

et faisant pour abrégér  $AB = 1$ , on aura

$$4 = 1 + (AQ)^2;$$

d'où

$$\begin{aligned} AQ &= \sqrt{3}; \quad FQ = AQ - AF \\ &= \sqrt{3} - 1 = FM = FN; \end{aligned}$$

d'où

$$(FM)^2 = (FN)^2 = 4 - 2\sqrt{3};$$

et par conséquent,

$$(MN)^2 = (FM)^2 + (FN)^2 = 8 - 4\sqrt{3};$$

ensuite, comme on a

$$LM = LF - FM = 1 - (\sqrt{3} - 1) = 2 - \sqrt{3},$$

on aura

$$(LM)^2 = 7 - 4\sqrt{3};$$

d'où

$$(BM)^2 = (BL)^2 + (LM)^2 = 8 - 4\sqrt{3} = (MN)^2.$$

On démontre de même que  $(BN)^2 = (MN)^2$  : donc

$$BM = MN = BN.$$

*II<sup>e</sup> Solution.* Si l'on ne suppose données que les quatre extrémités A, B, L, F du carré, après avoir trouvé comme dans la première solution le point Q, soit décrite du centre F et avec le rayon FQ la circonférence QRSNM; puis faisant à FQ = QR = RS = SN, du centre B et avec le rayon BN soit coupée cette circonférence au point M; les points B, N, M seront les sommets des angles du triangle cherché.

*Démonstration.* L'arc QRSN est la moitié de la circonférence (15, liv. 4) : donc le point N est sur la droite QFA, et est aussi éloigné de F que dans la première solution; donc il est

le même. Le point  $M$  se trouve aussi dans la première solution, comme dans la seconde, à l'intersection des deux arcs décrits des centres  $F$  et  $M$  et avec des rayons égaux à  $FQ$  et à  $BN$  : donc il est le même, donc, etc.

## PROBLÈME.

**163.** Dans un triangle équilatéral dont les sommets  $p$ ,  $q$ ,  $R$  sont donnés, inscrire un hexagone régulier.

*Solution.* Divisez la distance  $QR$  (fig. 81) en trois parties égales aux points  $c$  et  $d$  (68); des centres  $c$  et  $d$  et du rayon  $cd$  décrivez deux arcs qui se coupent en  $A$ ; du même rayon et du point  $A$  pris pour centre décrivez un cercle; faites sur la circonférence à  $dc = cB = BC = CD = DE$ ; les points  $B, C, D, E, d, e$  seront les sommets de l'hexagone inscrit.

*Démonstration.* Le triangle  $BcQ$  a ses côtés  $Bc$  et  $Qc$  égaux aux côtés  $Ad$  et  $cd$  du triangle  $Adc$ ; de plus, l'angle compris entre ces côtés est égal dans chaque triangle à cause du parallélisme des lignes  $Bc$  et  $Ad$  (27, liv. 1) : donc ces deux triangles sont égaux (4, liv. 1), et l'angle  $cQB = dcA = cQP$ ; donc le point  $B$


est sur la droite PQ. On démontre de la même manière que les autres points C, D, E sont sur les côtés du triangle proposé : donc, etc.

PROBLÈME.

**164.** Dans un carré donné ABLF, inscrire un octogone régulier.

*I<sup>e</sup> Solution.* Si l'on veut se servir des intersections des côtés du carré donné, du point A pris pour centre (*fig. 82*) et du rayon AB décrivez la demi-circonférence BCDE, en faisant à  $AB = BC = CD = DE$ ; faites à  $BF = BQ$ ; à  $EA = EQ$ ; du rayon AQ et du centre A déterminez les points *b* et *g*; puis du même rayon et des centres B, L et F, coupez les côtés aux points *a*, *d*, *c*, *f*, *e*, *h*; ces points seront les sommets de l'octogone *abcdefgh*.

*II<sup>e</sup> Solution.* Ayant déterminé le point Q comme dans la première solution, du rayon AQ et des points A et B pris pour centre décrivez deux arcs qui se coupent en O; avec le même rayon et du centre A déterminez le point *b* sur le côté AB; du point O pris pour centre et du rayon Ob décrivez un cercle qui coupe les côtés du carré dans les



autres points  $c, d, e, f, g, h, a$ ; ces points seront les sommets de l'octogone.

*III<sup>e</sup> Solution.* En supposant que les côtés du carré ne soient pas donnés, mais que l'on connût seulement les quatre sommets A, B, L, F, on déterminera le point Q comme dans la première solution; on fera à  $EC = EM$ , à  $BF = BM$ : du rayon AM et du centre A décrivez un arc qui passe par les points  $c$  et  $d$ ; du même rayon et du centre B décrivez un arc qui passe par les points  $f$  et  $g$ ; du même rayon et du centre L décrivez un arc qui passe par les points  $h$  et  $a$ ; du même rayon et du centre F décrivez un arc qui passe par les points  $b$  et  $c$ ; du rayon AQ et des centres A, B, L, F, coupez ces arcs aux points  $b, g, d, a, c, f, e, h$ ; ces points seront les sommets de l'octogone.

*Démonstration.* Supposons, pour plus de simplicité,  $AB = 1$ : on aura

$$AM = \frac{1}{2} \sqrt{6} \quad (104), \quad AQ = \frac{1}{2} \sqrt{2};$$

et au moyen de l'équation  $(Bd)^2 = (AQ)^2 = \frac{1}{2}$ , on aura

$$(Ad)^2 = (AM)^2 = \frac{6}{4} = 1 + \frac{1}{2} = (AB)^2 + (Bd)^2:$$

donc l'angle  $ABd$  sera droit (48, liv. 1), et par

conséquent le point  $d$  sera sur la droite BL. On démontrera de la même manière que tous les autres points sont sur les côtés du carré proposé; on aura de plus

$$Ld = BL - Bd = 1 - \frac{1}{2}\sqrt{2} = Le,$$

et

$$(de)^2 = (Ld)^2 + (Le)^2 \text{ (47, liv. 1)} = 2(Ld)^2;$$

d'où l'on tire

$$de = Ld \cdot \sqrt{2} = \sqrt{2} - 1.$$

Mais on a

$$\begin{aligned} cd &= BL - Ld - Bc = BL - 2Ld \\ &= 1 - 2 + \sqrt{2} = \sqrt{2} - 1; \end{aligned}$$

donc

$$cd = de.$$

On démontrera de la même manière que tous les côtés de l'octogone sont égaux entre eux. De plus, les triangles  $Lde$ ,  $Bbc$ ,  $Aah$ ,  $Ffg$  étant égaux en tout, leurs angles aux points  $a$ ,  $b$ ,  $c$ ,  $d$ ,  $e$ ,  $f$ ,  $g$ ,  $h$  seront égaux : donc leurs supplémens, c'est-à-dire les angles de l'octogone, seront aussi égaux (13, liv. 1).

## PROBLÈME.

**165.** *Étant donné un octogone régulier ABhgffFGH, trouver facilement (fig. 66),*  
 1°. *le côté d'un octogone régulier dont la surface soit double; 2°. le côté d'un octogone dont la surface soit triple.*

*Solution.* Avec le côté AB de l'octogone donné, pris pour rayon, des points F et H comme centres soient décrits deux arcs qui se coupent en *a*.

1°. *af* ou *aA* sera le côté de l'octogone double.

2°. AB ou *ag* sera le côté de l'octogone triple.

*Démonstration.* Si l'on suppose  $AB = 1$ , on aura

$$aA = af = \sqrt{2} \text{ (139)}; \quad aB = ag = \sqrt{3} \text{ (2)};$$

mais les surfaces des figures semblables sont entre elles comme les carrés des côtés homologues (20, liv. 6) : donc *aA* sera le côté d'un octogone double et AB celui d'un triple.

## PROBLÈME.

**166.** *Dans un cercle d'un rayon AB (fig. 83), inscrire trois cercles qui le touchent et se touchent entre eux.*

*Solution.* Dans la circonférence du cercle donné soit fait à  $AB = BC = CD = DE = Ed = dc$ ; du centre B et du rayon BD soit décrit un arc qui passe par les points  $a, p$  et  $\alpha$ ; du centre E et du même rayon BD soit coupé cet arc en  $a$  et  $\alpha$ ; avec le même rayon, des centres C et  $c$ , soient décrits deux arcs qui se coupent en V, et des centres D et  $d$  deux autres arcs qui se coupent en  $\nu$ ; des centres V et  $\nu$  et avec le même rayon soient décrits deux arcs qui passent par  $m$  et  $n$ ; des centres  $a$  et  $\alpha$  et du rayon AB soit coupée la circonférence du cercle donné en G, H, et en  $g, h$ ; soit fait dans cette circonférence au même rayon  $AB = GL = HI = gl = hi$ ; soit fait à  $Aa = BF$ ; à  $IL = LY = IY = ly = iy$ ; à  $Yy = Fm = Fn$ ; à  $Dn = Dp$ : du centre A et du rayon  $mn$  soit décrit le cercle PSRXQT, sur la circonférence duquel, prenant un point arbitraire P, on fasse à PA



$= PS = SR = RX = XQ = QT$ , enfin, des centres P, Q, R et du rayon  $pn$  soient décrits trois cercles; ils seront tangens au cercle donné, et tangens entre eux.

*Démonstration.* La droite IL étant corde d'un douzième de la circonférence (32), on aura

$$IL = \sqrt{2 - \sqrt{3}} \quad (160);$$

et comme on a (47, liv. 1; 31, liv. 3)

$$\text{le carré du diamètre } (Li)^2 = (IL)^2 + (Ii)^2,$$

on aura

$$4 = 2 - \sqrt{3} + (Ii)^2;$$

d'où

$$(Ii)^2 = 2 + \sqrt{3}, \text{ et } Ii = \sqrt{2 + \sqrt{3}}.$$

On aura ensuite (20)

$$\begin{aligned} (aI)^2 &= (aB)^2 - Ii.Aa = 3 - \sqrt{4 + 2\sqrt{3}} \\ &= 3 - (1 + \sqrt{3}) = 2 - \sqrt{3}; \end{aligned}$$

d'où

$$aI = IL = \sqrt{2 - \sqrt{3}}.$$

On aura par les mêmes raisons

$$aL = LI;$$

d'où  $aIYL$  sera un rhombe, et l'on aura (139)

$$(aY)^2 = 4(aI)^2 - (IL)^2 = 3(IL)^2;$$

d'où

$$aY = IL \cdot \sqrt{3} :$$

mais les points I et L étant également éloignés du point A, les trois points  $a$ , Y, A seront dans la même droite (13); d'où

$$\begin{aligned} AY &= Aa - aY = \sqrt{2} - \sqrt{(6 - 3\sqrt{3})} \\ &= \sqrt{2} - \left(3\sqrt{\frac{1}{2}} - \sqrt{\frac{3}{2}}\right) = \sqrt{\frac{3}{2}} - \sqrt{\frac{1}{2}} \\ &= IL. \end{aligned}$$

La même démonstration s'applique à la ligne Ay; ensuite le point  $y$  étant sur la ligne  $aa$ , c'est-à-dire sur  $aA$  (13), on aura  $Yy = 2AY$ : or les points V, B, A, E,  $v$  sont dans la même droite (13). Si l'on suppose pour un moment que les points  $m$ ,  $n$  soient dans la même droite, on aura

$$Am = AV - Vm = 2 - \sqrt{3}.$$

En effet, si l'on compare les points C,  $c$ , V, B, A, E avec les points A, B, Q, P,  $p$ ,  $q$  de la fig. 3, on aura dans cette fig. 83

$$VB = AE \quad (14);$$

d'où

$$AV = 2 \text{ et } Vm = \sqrt{3}.$$

On démontrera de même qu'on a  $An = 2 - \sqrt{3}$ ;

d'où l'on aura

$$\begin{aligned} (Fm)^2 &= (Am)^2 + (AF)^2 \quad (47, \text{liv. 1}) \\ &= 7 - 4\sqrt{3} + 1 = 4(2 - \sqrt{3}); \end{aligned}$$

d'où

$$Fm = 2\sqrt{(2 - \sqrt{3})} = 2AY :$$

de plus on a , par la construction de la figure ,

$$Fn = 2\sqrt{(2 - \sqrt{3})};$$

donc le point  $m$  sera dans la droite  $VA$ . On démontrera la même chose pour le point  $n$  : donc , puisque  $Am = 2 - \sqrt{3}$  , on aura

$$mn = 4 - 2\sqrt{3};$$

puis les triangles  $BpD$  ,  $\nu nD$  ayant les côtés égaux entre eux , on aura l'angle  $D\nu n = DBp$  (8, *liv. 1*). Mais l'angle  $D\nu n$  , qui est le même que l'angle  $D\nu B$  , étant égal à l'angle  $DBV$  (5, *liv. 1*) , on aura l'angle  $DBp = DB\nu$  : donc le point  $p$  est dans la droite  $AE$  ; on a ensuite  $Dn = Dp$ . On démontre de même que  $dn = dp$  : donc comparant les points  $D, d, A, n, p, E$  de la fig. 83, avec les points  $A, B, Q, P, p, q$  de la fig. 3, on trouvera (*fig. 83*)

$$pE = An = 2 - \sqrt{3};$$

d'où

$$pn = AE - 2An = 1 - 4 + 2\sqrt{3} = 2\sqrt{3} - 3.$$

De plus, le triangle équilatéral PQR étant semblable au triangle équilatéral BDd, et par conséquent aussi le triangle ABD semblable au triangle APR (20, liv. 6), on aura

$$AB : BD :: AP : PR ;$$

c'est-à-dire

$$1 : \sqrt{3} :: 4 - 2\sqrt{3} : PR ;$$

d'où l'on tire

$$PR = 4\sqrt{3} - 6 = 2pn.$$

Donc la ligne PR étant coupée par moitié au point  $p$ , le point  $p$  se trouvera également sur les deux circonférences des cercles décrits des centres P et R, et sera le point de contact (12, liv. 3); qu'on ajoute ensuite à la droite  $AR = mn = 4 - 2\sqrt{3}$ , le rayon du cercle décrit du centre R, ou bien la droite  $Rr = np = 2\sqrt{3} - 3$ , on aura

$$Ar = 4 - 3 = 1 = AB.$$

Donc le point  $r$  sera également sur les deux circonférences, et le cercle décrit du centre R touchera intérieurement le cercle donné (11, liv. 3). On démontrera la même chose pour les autres cercles; donc, etc.

Ce problème se trouve élégamment résolu avec la règle et le compas par Thomas Simpson, dans son ouvrage *Select Exercises, etc., Geometrical Problems*, problème 13. On voit qu'on peut, par notre construction, résoudre ce problème par la règle et le compas plus brièvement encore que ne le fait Simpson, en menant la droite  $Vav$ , et après y avoir pris à  $AB = BV = Ev$ , en faisant à  $BD = Vm = Bp = vm$ ; puis en décrivant du centre A et du rayon  $mn$  le cercle PQR, et faisant tout le reste de la construction comme dans la solution précédente.

## PROBLÈME.

**167.** Du centre A (fig. 83), décrire un cercle qui touche extérieurement les trois cercles inscrits par le problème précédent (166) à un cercle donné.

*Solution.* Cherchez une troisième proportionnelle aux deux droites AB, Am (86); avec cette ligne prise pour rayon et du centre A soit décrit un cercle; ce sera le cercle cherché.

*Démonstration.* AB étant  $= 1$ , et Am  $= 2 - \sqrt{3}$ , on aura la troisième propor-

tionnelle  $= 7 - 4\sqrt{3}$ . Si maintenant du rayon  $Ar = 1$ , on soustrait le diamètre  $qr$  du cercle décrit du centre  $R$ , c'est-à-dire si l'on soustrait  $2np = 4\sqrt{3} - 6$ , on aura précisément  $7 - 4\sqrt{3}$  : donc un cercle décrit du centre  $A$  et avec cette troisième proportionnelle pour rayon, sera tangent au point  $q$  à ce cercle inscrit (12, liv. 3), et aux deux autres cercles.

## PROBLÈME.

**168.** *Inscrire dans un cercle d'un rayon donné  $AB$  (fig. 84), quatre cercles qui lui soient tangens et qui soient tangens entre eux.*

*Solution.* Soit fait dans la circonférence du cercle donné, à  $AB = BC = CD = DE$ , à  $BD = Ba = Ea$ , à  $Aa = BF = Bf$ , à  $AB = FN = FO$ , et à  $BD = NP = OP$ ; du centre  $A$  et du rayon  $aP$  soit décrit le cercle  $QRST$ ; puis, prenant un point arbitraire  $Q$  sur la circonférence, soit fait à  $BQ = FR = ES = fT$ ; enfin des centres  $Q, R, S, T$  et du rayon  $aF$  soient décrits quatre cercles : ils seront les cercles demandés.

*Démonstration.* Comme on a (27)

$$BF = FE = Ef = fB,$$

on aura aussi (93)

$$QR = RS = ST = TQ :$$

donc l'angle TAQ sera droit; donc

$$(TQ)^2 = (AT)^2 + (AQ)^2 = 2(AT)^2.$$

Puis ayant fait  $AB = 1$ , on aura aussi (165)  
 $FP = 1$ ; d'où  $AP = 2$ . On aura encore (27)  
 $Aa = \sqrt{2}$ ; d'où  $aP = 2 - \sqrt{2}$ ;  $aF = \sqrt{2} - 1$ ;  
 d'où l'on tire

$$2(AT)^2 = 2(aP)^2 = (TQ)^2 = 2(2 - \sqrt{2})^2$$

et

$$TQ = (2 - \sqrt{2})\sqrt{2} = 2\sqrt{2} - 2 = 2(\sqrt{2} - 1) \\ = 2aF;$$

donc la distance des deux centres T et Q est égale à la somme des rayons des deux cercles décrits de ces points comme centres, donc ils sont tangens en  $p$  au milieu de TQ. On prouverait la même chose pour deux autres quelconques. Soit ensuite  $r$  le point où la ligne  $Ar$  prolongée coupe le cercle décrit du centre R; on aura

$$Ar = AR + Rr = aP + aF = PF = 1 = AB:$$

donc le point  $r$  sera sur la circonférence du

cercle donné ; d'où l'on voit que la ligne  $Ar$  passant par les deux centres  $A$  et  $R$ , sera perpendiculaire à la tangente qui les touche tous deux au point  $r$  : donc ils seront tangens entre eux (13 et 16, liv. 3); la même démonstration s'applique aux autres cercles.

PROBLÈME.

**169.** Du centre  $A$  (fig. 84), décrire un cercle qui touche les quatre que l'on vient d'inscrire (168) dans un cercle donné.

*Solution.* Cherchez une troisième proportionnelle aux deux droites  $FP$ ,  $Fa$  (86); avec cette ligne prise pour rayon et du centre  $A$  soit décrit un cercle, il sera le cercle cherché.

*Démonstration.*  $PF$  étant égal à 1, et  $Fa = \sqrt{2} - 1$ , on aura la troisième proportionnelle  $= 3 - 2\sqrt{2}$  : or soit  $q$  le point où le rayon  $Ar$  coupe le cercle décrit du centre  $R$ ;  $qr$  en sera le diamètre  $= 2aF = 2\sqrt{2} - 2$ ; soustrayant de 1  $= Ar$  cette valeur, on aura  $Aq = 3 - 2\sqrt{2} =$  cette troisième proportionnelle : donc le point  $q$  sera dans les deux circonférences; mais il se trouve dans la droite  $AR$ ; donc la perpendiculaire à cette droite



sera tangente en  $q$  aux deux cercles, lesquels se toucheront au point  $q$  (13 et 16, liv. 3). On démontrera la même chose pour les autres cercles.

## PROBLÈME.

170. Trouver (fig. 85) un arc de cercle dont le cosinus égale la corde.

*Solution.* D'un rayon  $AB$  qu'on fait  $= 1$  soit décrit l'arc  $BCDE$ , et soit fait à  $AB = BC = CD = DE = DP = CP$ ; soit fait ensuite à  $BD = Ba = Ea$ , et à  $Aa = BF$ ; du centre  $B$  et du rayon  $PF$  soit décrit un arc qui coupe l'arc  $BC$  en  $Q$ ; l'arc  $BQ$  sera celui que l'on cherche.

*Démonstration.* Les points  $A, F, a, P$  sont dans la même droite (13); puis les points  $B, A, D, P$  étant tous éloignés du point  $C$  de la distance  $CB$ , sont dans la circonférence d'un cercle qu'on décrirait du centre  $C$  et du rayon  $CB$ : comme on a de plus à  $CB = BA = AD = DP$ ,  $BCP$  sera le diamètre de ce cercle (15, liv. 6), et l'on aura  $PA = \sqrt{3}$  (2); d'où

$$PF = \sqrt{3} - 1 = BQ.$$

Si maintenant l'on abaisse sur  $AB$  la perpen-

diculaire QR, on aura (13, liv. 2)

$$(BQ)^2 = (AO)^2 + (AQ)^2 - 2AB \cdot AR;$$

c'est-à-dire

$$(\sqrt{3} - 1)^2 = 4 - 2\sqrt{3} = 2 - 2AR;$$

d'où

$$AR = \sqrt{3} - 1 = BQ,$$

ainsi qu'on s'était proposé de le faire. Ces derniers problèmes sont d'Ozanam, qui les a résolus avec la règle et le compas.

#### PROBLÈME.

171. *Étant donnés les axes BE, MN (fig. 86) d'une hélice, décrire autour d'eux un ovale composé de cercles qui soient tangens entre eux.*

*Solution.* Du centre A où les axes se coupent et du rayon AB qui est la moitié du plus grand axe, soit décrite la demi-circonférence BDE, et soit fait à EA = ED; du centre B et du rayon BD soit coupé l'axe BE en *d*; du centre A et du rayon AM soit coupé le demi-axe AE en *m*; du même centre A et du rayon Ad soit décrit l'arc *de*, et soit fait à

$Em = de$ ; des centres  $d$  et  $e$  et d'un rayon pris arbitrairement, soit coupé l'arc BDE en  $\delta$  et  $\epsilon$ ; du centre A et du rayon  $\delta\epsilon$  soit coupé l'axe BE en P et Q; des centres P et Q et du rayon  $PB = QE$  soient décrits les arcs FBf, GEg, et soit fait à  $PB = BF = Bf = EG = Eg$ ; soit fait ensuite à  $PQ = PR = Pr = QR = Qr$ ; puis du centre R et du rayon RF soit décrit l'arc FG qui passera par M; enfin du centre  $r$  et du rayon  $RF = rf$  soit décrit l'arc  $fg$  qui passera par N, et toute la construction sera faite.

*Démonstration.* Les triangles BFP, PQR étant équilatéraux, les angles BPF, QPR seront égaux (8, liv. 1); et les deux lignes FP, PR formeront une seule droite, parce que les deux angles FPA + APR sont égaux aux deux angles FPA + APN (13 et 14, liv. 1): donc les deux arcs BF, FG seront tangens l'un à l'autre en F (13, liv. 3). La même démonstration s'applique aux points de contact  $f, G, g$ .

Soit fait ensuite pour abrégier  $AB = 1$ , on aura

$$BD = \sqrt{3}(2) = Bd;$$

d'où

$$Ad = \sqrt{3} - 1;$$

et comme on a (93)

$$Ad : de :: A\delta : \delta\epsilon,$$

on aura encore en multipliant les deux termes du premier rapport par  $\sqrt{3}+1$  (4, liv. 5),

$$Ad(\sqrt{3}+1) : de(\sqrt{3}+1) :: A\delta : \delta\epsilon;$$

puis substituant les valeurs numériques de  $Ad$  et  $A\delta$ , et exécutant la multiplication dans le premier terme, on aura

$$2 : de(\sqrt{3}+1) :: 1 : \delta\epsilon;$$

d'où

$$2\delta\epsilon = 2AP = de(\sqrt{3}+1) = PQ = PR.$$

De plus,  $PRQr$  étant un rhombe, on aura (139)

$$(Rr)^2 = 4(PR)^2 - (PQ)^2 = 3(PR)^2;$$

d'où

$$Rr = PR \cdot \sqrt{3} = de(3 + \sqrt{3});$$

et

$$RA = \frac{1}{2} de(3 + \sqrt{3}).$$

On a ensuite

$$AM = Am = AE - Em = AE - de = 1 - de;$$

d'où

$$RA + AM = 1 + \frac{1}{2} de(1 + \sqrt{3});$$

ou bien

$$RM = 1 + \frac{1}{2} PR;$$

et comme on a

$$PF = PB = 1 - AP = 1 - \frac{1}{2} PR,$$

on aura

$$PF + PR = 1 + \frac{1}{2} PR, \text{ c'est-à-dire, } FR = RM.$$

Donc l'arc FG passera par M : on ferait voir de même que l'arc *f*g passe par *n*; donc, etc.

#### PROBLÈME.

172. *Décrire (figure 87) une spirale BLEMFNGPH, composée de plusieurs arcs de cercle.*

*Solution.* Soit  $BE = BF$  la distance qu'on veut donner aux révolutions de cette spirale; après avoir divisé  $BE$  en deux parties égales au point  $A$  (66), de ce point comme centre et d'un rayon  $AB$  soit décrite la demi-circonférence  $BLE$  (64); du centre  $B$  et du rayon  $BE$  soit décrite la demi-circonférence  $EMF$ ; soit encore décrite du centre  $A$  et avec le rayon  $AF$  la demi-circonférence  $FNG$ ; soit encore décrite du centre  $B$  et avec le rayon

BG la demi-circonférence GPH; on pourrait ainsi continuer cette spirale à l'infini.

On pourra de la même manière doubler cette spirale; en décrivant des centres A et B alternativement les demi-circonférences *ble*, *emf*, *fng*, *gph*, etc., après avoir pris le point *b* à une distance arbitraire de B sur la ligne AB (73).

Ce problème n'a pas besoin de démonstration.

PROBLÈME.

173. Trouver  $\sqrt{\sqrt{2}}$  et  $\sqrt{\sqrt{3}}$ .

*Solution.* Avec le rayon  $AB = 1$  et du centre A décrivez (*fig.* 88) la demi-circonférence BCDE, en faisant à  $AB = BC = CD = DE$ ; puis faites à  $BD = Ba = Ea$ , à  $Aa = BP$ , à  $AB = EP$ ; marquez sur la demi-circonférence les points H, I, K, en faisant à la même ligne  $AB = aH = HI = IK$ .

Des centres E et H et du rayon AP soient décrits deux arcs qui se coupent en L et M; on aura  $LM = \sqrt{\sqrt{2}}$ .

Des centres *a* et K avec le rayon AB soient décrits deux arcs qui se coupent en Q et R; on aura  $QR = \sqrt{\sqrt{3}}$ .

*Démonstration.* ELHM étant un rhombe, on aura (139)

$$(LM)^2 = 4(LH)^2 - (HE)^2 = 4(AP)^2 - (AE)^2.$$

Mais,

$$(AP)^2 = \frac{1}{2}(104), (HE)^2 = 2 - \sqrt{2} \text{ (30 et 36)} :$$

donc

$$(LM)^2 = \sqrt{2};$$

d'où l'on tire

$$LM = \sqrt{\sqrt{2}}.$$

aQKR étant aussi un rhombe, on aura également

$$(QR)^2 = 4(aQ)^2 - (aK)^2.$$

Mais

$$(aQ)^2 = (AB)^2 = 1; (aK)^2 = 4 - \sqrt{3} \text{ (160)} :$$

donc

$$(QR)^2 = \sqrt{3};$$

d'où l'on tire

$$QR = \sqrt{\sqrt{3}}.$$

174. On pourrait, par de semblables artifices, obtenir les racines quatrièmes des autres nombres entiers, sans employer la méthode de trouver les moyennes proportionnelles (99). Pour avoir  $\sqrt{\sqrt{2}}$  par cette méthode, on aurait eu à trouver une moyenne proportionnelle entre 1 et  $\sqrt{2}$ , ou entre  $\frac{1}{2}$  et  $2\sqrt{2}$ , ou entre

deux autres quantités qui, multipliées l'une par l'autre, fussent égales à  $\sqrt{2}$ . Mais cette marche serait beaucoup plus compliquée.

En cultivant cette Géométrie du compas, on en retirera de très grands avantages. J'ai sur cette matière d'autres recherches toutes prêtes qui pourront trouver place dans un ouvrage plus étendu que celui-ci. Voici une application du problème précédent, relative à la pyramide tétraèdre régulière.

PROBLÈME.

**175.** *Étant donné le côté AB d'une pyramide tétraèdre régulière SABC (fig. 89), trouver, 1°. sa hauteur; 2°. le côté d'un carré qui lui soit égal en surface; 3°. le côté du carré sur lequel il faudrait construire une pyramide qui eût pour hauteur le côté de celle proposée, pour qu'elle lui fût égale en solidité; 4°. le côté du carré sur lequel il faudrait construire une pyramide de hauteur égale à celle de la pyramide proposée, pour qu'elle lui fût aussi égale en solidité; 5°. le rayon d'une sphère circonscrite.*

*Solution.* La figure 88 étant construite avec



le rayon  $AB$ , comme dans le problème 173, du centre  $B$  et du rayon  $Ba$  soit décrit l'arc  $aN$ , et soit fait à  $Aa = EN$ ; des centres  $A$  et  $E$  avec le rayon  $AN$  soient décrits deux arcs qui se coupent en  $n$ ; du même rayon  $nA$  coupez la demi-circonférence  $BCDE$  au point  $S$ . Enfin divisez en deux parties égales  $LM$  au point  $m$  (66), ainsi que  $QR$  en  $q$ . 1°.  $BS$  sera la hauteur de la pyramide; 2°.  $QR$  sera le côté du carré qui lui est égal en surface; 3°.  $Mm$  sera le côté du carré qui forme la base d'une pyramide de hauteur égale au côté de celle proposée, et qui lui est égale en solidité; 4°.  $Qq$  sera le côté du carré qui sert de base à une pyramide égale en hauteur et en solidité à celle proposée; 5°.  $AN$  est le diamètre d'une sphère circonscrite.

*Démonstration.* Si du sommet  $S$  de la pyramide on abaisse une perpendiculaire  $Sm$  sur le côté  $AB$ , à cause du triangle équilatéral  $SAB$ , elle coupera par moitié au point  $m$  la droite  $AB$  (12, liv. 1). Donc si, sur la base  $ABC$ , on élève au point  $m$  de la droite  $AB$  la perpendiculaire  $mT$ , elle passera par  $C$  (11, liv. 1), et contiendra le point  $T$  où tombe la perpendiculaire abaissée du sommet  $S$  sur la base (11, liv. 11). On démontre de même que le

point T est dans la droite Bn, qui divise en deux parties égales le côté AC. Soit menée la droite mn, elle sera parallèle à BC (2, liv. 6), et le triangle Amn sera équiangle au triangle ABC (27, liv. 1), et BC sera double de mn (4, liv. 6); puis les triangles BCT, mnT auront les angles égaux chacun à chacun, et l'on aura (4, liv. 6)

$$BC : mn :: CT : mT.$$

Donc CT est double de mT; d'où mT  $= \frac{1}{3} Cm$ ; puis faisant AB = 1, on a

$$Cm = Sm = \frac{1}{2} \sqrt{3} \quad (104) :$$

donc

$$Tm = \frac{1}{6} \sqrt{3}.$$

De plus, comme on a

$$(Sm)^2 = (mT)^2 + (ST)^2 \quad (47, \text{liv. 1}),$$

c'est-à-dire

$$\frac{1}{4} = \frac{1}{12} + (ST)^2,$$

on aura

$$(ST)^2 = \frac{8}{12} = \frac{2}{3};$$

d'où

$$ST = \sqrt{\frac{2}{3}}.$$

On a ensuite (*fig. 88*)

$$AN = \frac{1}{2} \sqrt{6(104)} = \sqrt{\frac{6}{4}} = \sqrt{\frac{3}{2}} = An :$$

on a aussi (*fig. 89*)

$$An : AS :: AS : SB \quad (86);$$

c'est-à-dire

$$\sqrt{\frac{3}{2}} : 1 :: 1 : SB;$$

d'où l'on a

$$SB = \sqrt{\frac{2}{3}} = ST;$$

ce qu'il fallait 1°. démontrer.

Ensuite la surface de la pyramide tétraèdre est égale au quadruple de la surface de la base ABC (*fig. 89*); laquelle étant égale à  $\frac{1}{2} AB \cdot Cm = \frac{1}{4} \sqrt{3} (41, \text{liv. } 1)$ , sera la surface de la pyramide  $= \sqrt{3}$ ; d'où le côté du carré qui lui est égal  $= \sqrt{\sqrt{3}}$ . Mais on a (*fig. 88*)  $QR = \sqrt{\sqrt{3}} (175)$ : donc QR est le côté du carré cherché. C. Q. F. 2°. D.

Dans les pyramides égales, les bases étant en raison inverse des hauteurs (9, *liv. 12*), on aura

$1 : \sqrt{\frac{2}{3}} :: \frac{1}{4} \sqrt{3} : \text{la base de la pyramide qui a pour hauteur } AB = 1;$

d'où la surface de cette base  $= \frac{1}{4} \sqrt{2}$ , et le côté du carré de cette surface  $= \frac{1}{2} \sqrt{\sqrt{2}} = Mm$  (173). C. Q. F. 3°. D.

Les pyramides de hauteur égale étant entre elles comme leurs bases, le carré qui est égal au triangle ABC  $= \frac{1}{4} \sqrt{3}$  aura pour côté  $\frac{1}{2} \sqrt{\sqrt{3}} = Qq$  (173). C. Q. F. 4°. D.

Enfin le carré du diamètre de la sphère circonscrite à la pyramide tétraèdre vaut une fois et demie le carré du côté de la pyramide (13, liv. 13), c'est-à-dire le diamètre  $= \sqrt{\frac{3}{2}}$  : il est donc égal à AN. C. Q. F. 5°. D.

#### PROBLÈME.

176. *Étant donnée la hauteur ST (fig. 89 et 88) d'une pyramide tétraèdre régulière, trouver son côté AB.*

*Solution.* Avec un rayon AB (fig. 88) égal à ST (fig. 89), soit décrit le demi-cercle BCDE en faisant à  $AB = BC = CD = DE$ ; du centre B et du rayon BD soit décrit l'arc DN*a*; du centre E et avec le même rayon

soit coupé cet arc au point  $a$ ; du même centre et avec le même rayon  $Aa$  soit coupé le même arc en  $N$ ;  $AN$  sera le côté cherché égal au côté  $AB$  de la figure 89.

*Démonstration.* On a, dans la figure 88,

$$AB : AN :: 1 : \sqrt{\frac{3}{2}} \quad (175);$$

et comme on a

$$1 : \sqrt{\frac{3}{2}} :: \sqrt{\frac{3}{2}} : 1,$$

ainsi que cela se démontre en égalant le produit des extrêmes au produit des moyens, on aura

$$AB : AN :: \sqrt{\frac{2}{3}} : 1;$$

c'est-à-dire que  $AB$  est à  $AN$  dans le rapport de la hauteur de la pyramide tétraèdre à son côté (175). Donc, etc.

#### PROBLÈME.

177. *Diviser (fig. 90) la ligne  $AB = 1$  en cinq parties égales, lors même qu'on ne peut pas avoir une ligne quintuple de  $AB$ , comme au n° 69.*

*Solution.* Après avoir, du centre  $A$  et du

rayon  $AB$ , décrit le cercle  $BDp$ , et avoir fait dans sa circonférence à  $AB = BC = CD = DE$ , et à  $BD = Ba = B\alpha = Ea = E\alpha$ , soit du centre  $\alpha$  et du rayon  $AB$ , coupée la circonférence en  $g$ ; de ce point  $g$  comme centre et du même rayon soit décrit l'arc  $An\alpha$ ; maintenant du centre  $\alpha$  et du rayon  $BE$  soit coupé cet arc en  $n$ ; du centre  $B$  et du rayon  $\alpha n$  soit coupée la circonférence en  $P$  et  $p$ ; des centres  $p$  et  $P$  et du même rayon  $pB$  soient décrits deux arcs qui se coupent en  $Q$ ;  $AQ$  sera un cinquième de  $AB$ , et sera placée sur sa direction.

*Démonstration.* Si l'on prend un point  $u$  sur la direction de  $AE$ , et qu'on ait  $Au = A\alpha$ , on aura, à cause des angles droits  $\alpha Au$ ,  $\alpha Au$ ,

$$(au)^2 = 2(A\alpha)^2 = 2(\alpha A)^2 = (\alpha u)^2 = 4 = (BE)^2;$$

d'où

$$au = \alpha u = BE = \alpha n;$$

puis les angles égaux  $gAB$ ,  $gA\alpha$  valant chacun la moitié d'un angle droit (30), les angles  $gA\alpha$ ,  $gAu$  égaux entre eux vaudront chacun trois fois la moitié d'un angle droit. D'où les deux triangles  $gA\alpha$ ,  $gAu$  ayant un angle égal compris entre côtés égaux, le troisième côté  $ga$  sera aussi égal au troisième côté  $gu$  (4, liv. 1) :

donc un cercle décrit du centre  $g$  et du rayon  $ga$  passera par le point  $u$ , et sera concentrique au cercle  $Ana$ .

On a ensuite  $ga = \sqrt{5}$  (185); et comme  $an = ua$ , on a (93)

$$ga : gA :: au : na;$$

c'est-à-dire

$$\sqrt{5} : 1 :: 2 : na.$$

donc on aura

$$na = \frac{2}{\sqrt{5}};$$

d'où aussi chaque côté du rhombe  $PBpQ = na = \frac{2}{\sqrt{5}}$ ; donc si l'on compare les points  $P, B, p, Q, A$  de la fig. 90 avec les points  $A, p, B, P, Q$  de la fig. 3, on aura pour la fig. 90

$$BQ \cdot BA = (BP)^2 \quad (19),$$

c'est-à-dire

$$BQ = \frac{4}{5};$$

d'où  $AQ$  qui est dans la même droite (13)  $= \frac{1}{5}$ .

178. Ce problème, qui a une solution assez simple, devait trouver place ici à cause de la division décimale qu'on exécute en divisant en

deux, puis en cinq ou réciproquement. Le problème suivant est aussi de quelque utilité.

## PROBLÈME.

179. Former (fig. 90) un triangle rectangle dont les côtés soient en proportion arithmétique.

*Solution.* Après avoir fait la construction de la solution précédente (177), du centre E et du rayon EQ soit coupée la circonférence en N; le triangle BNE sera le triangle cherché.

*Démonstration.* Ce triangle sera rectangle (31, liv. 3); puis faisant  $AB = 1$ , on aura

$$EQ = EA + AQ = \frac{6}{5} = EN;$$

de plus on a (47, liv. 1)

$$(BE)^2 = (EN)^2 + (BN)^2,$$

c'est-à-dire

$$4 = \frac{36}{25} + (BN)^2;$$

on aura donc

$$(BN)^2 = \frac{64}{25};$$

d'où

$$BN = \frac{8}{5};$$



d'où l'on voit que les côtés  $EN = \frac{6}{5}$ ,  $BN = \frac{8}{5}$ ,  
 $BE = \frac{10}{5}$  seront en proportion arithmétique.

## PROBLÈME.

180. Former (fig. 91) un triangle rectangle dont les côtés soient en proportion géométrique.

*Solution.* Du centre A avec un rayon AB soit décrit un cercle  $BDd$ , et soit fait dans sa circonférence à  $AB = BC = CD = DE = Ed = dc$ ; soit fait ensuite à  $BD = Ba = Ea$  et à  $Aa = Db = db = C\beta = c\beta$ ; maintenant du centre E et du rayon  $b\beta$  soit coupée la circonférence du cercle en N; le triangle BNE sera le triangle cherché.

*Démonstration.* La ligne AB est divisée en  $b$  en moyenne et extrême raison (46) : donc si l'on fait  $AB = 1$ ,  $Ab = x$ , on aura

$$Bb = 1 - x, \quad \text{et } x^2 = 1 - x;$$

et résolvant cette dernière équation,

$$x = Ab = \frac{1}{2}(\sqrt{5} - 1);$$

d'où résulte

$$b\beta = 2Ab = \sqrt{5} - 1 = EN;$$

on a ensuite (31, liv. 3) (47, liv. 1)

$$(BE)^2 = (EN)^2 + (BN)^2;$$

c'est-à-dire

$$4 = 6 - 2\sqrt{5} + (BN)^2;$$

d'où l'on tire

$$(BN)^2 = 2(\sqrt{5} - 1) = BE \cdot NE;$$

donc on a (17, liv. 6)

$$BE : BN :: BN : NE;$$

donc, etc.

**181. Lemme.** Si l'on fait les côtés des cinq polyèdres réguliers = 1, on aura le rayon d'une sphère

circonscrite	{	au tétraèdre	$= \frac{1}{2} \sqrt{\frac{3}{2}},$
		au cube	$= \frac{1}{2} \sqrt{3},$
		à l'octaèdre	$= \frac{1}{2} \sqrt{2},$
		au dodécaèdre	$= \frac{1}{4} \sqrt{3} \cdot (\sqrt{5} + 1),$
		à l'icosaèdre	$= \frac{1}{2} \sqrt{\left(\frac{5 + \sqrt{5}}{2}\right)}.$

*Démonstration.* Le carré du diamètre de la sphère circonscrite à la pyramide comprise entre quatre triangles équilatéraux, vaut (13, liv. 13) une fois et demi le carré du côté de la pyramide, c'est-à-dire en faisant le côté = 1, le diamètre est égal à  $\sqrt{\frac{3}{2}}$ ; d'où le rayon =  $\frac{1}{2}\sqrt{\frac{3}{2}}$ .

Le carré du diamètre de la sphère circonscrite au cube vaut (15, liv. 13) trois fois le carré du côté de la pyramide, c'est-à-dire le diamètre =  $\sqrt{3}$ ; d'où le rayon =  $\frac{1}{2}\sqrt{3}$ .

Le carré du diamètre de la sphère circonscrite à l'octaèdre (corps régulier terminé par huit faces qui sont toutes des triangles équilatéraux), est (14, liv. 13) double du carré du côté d'un de ces triangles, c'est-à-dire le diamètre =  $\sqrt{2}$ ; d'où le rayon =  $\frac{1}{2}\sqrt{2}$ .

La sphère circonscrite au dodécaèdre (corps régulier, terminé par douze faces qui sont toutes des pentagones réguliers), est aussi circonscrite (17, liv. 13) à un cube qui a pour côté une diagonale de ces pentagones. Mais si l'on fait (fig. 64) le côté  $AB = 1$ , la diagonale  $BN$  du pentagone  $ABLMN = \frac{1}{2}(\sqrt{5} + 1)$ ; en effet, on a (137)

$$\begin{aligned} \text{BN} = b\text{E} = \text{Ab} + \text{AE} &= \frac{1}{2}(\sqrt{5} - 1) + 1 \quad (180) \\ &= \frac{1}{2}(\sqrt{5} + 1); \end{aligned}$$

donc BN ou la diagonale d'un pentagone qui a le côté = 1, est égale à  $\frac{1}{2}(\sqrt{5} + 1)$ . Si sur cette ligne on forme un cube, on aura le carré du diamètre de la sphère qui lui sera circonscrite =  $3(\text{BN})^2$ , et le diamètre =  $\frac{1}{2}(\sqrt{5} + 1) \cdot \sqrt{3}$ : donc le rayon de la sphère qui comprend le dodécaèdre =  $\frac{1}{4} \sqrt{3} \cdot (\sqrt{5} + 1)$ .

Si AB est le diamètre de la sphère qui comprend l'icosaèdre (*fig. 92*), et qu'après avoir pris sur ce diamètre  $\text{AC} = 4\text{CB}$ , et élevé la perpendiculaire CD qui rencontre en D la demi-circonférence ADB, on décrive avec le rayon DB un cercle, et dans ce cercle un pentagone régulier, le côté de ce pentagone sera (16, *liv. 13*) le côté de l'icosaèdre (corps régulier terminé par vingt faces, qui toutes sont des triangles équilatéraux); or le côté du pentagone est au rayon du cercle circonscrit comme Bb est à BA (*fig. 12*) (40): mais faisant  $\text{AB} = 1$ , on a

$$\text{Ab} = \frac{1}{2}(\sqrt{5} - 1);$$

$$(Ab)^2 = \frac{1}{4}(6 - 2\sqrt{5}) = \frac{1}{2}(3 - \sqrt{5});$$

$$(Bb)^2 = (AB)^2 + (Ab)^2 \quad (47, \text{liv. } 1) = \frac{5 - \sqrt{5}}{2};$$

d'où l'on aura

$$Bb : AB :: \sqrt{\left(\frac{5 - \sqrt{5}}{2}\right)} : 1;$$

mais on a

$$\sqrt{\left(\frac{5 - \sqrt{5}}{2}\right)} : 1 :: 1 : \sqrt{\left(\frac{5 + \sqrt{5}}{10}\right)};$$

donc supposant le côté de l'icosaèdre = 1 ,  
on aura

$$BD \text{ (fig. 92)} = \sqrt{\left(\frac{5 + \sqrt{5}}{10}\right)}.$$

On a ensuite

$$(AB)^2 = 5(BD)^2 \quad (16, \text{liv. } 13) = \frac{5 + \sqrt{5}}{2};$$

donc

$$AB = \sqrt{\left(\frac{5 + \sqrt{5}}{2}\right)}, \text{ et le rayon} = \frac{1}{2}\sqrt{\left(\frac{5 - \sqrt{5}}{2}\right)}.$$

## PROBLÈME.

182. *Étant donné le côté AB des cinq corps réguliers (fig. 93), trouver le rayon des différentes sphères qu'ils comprennent.*

*Solution.* Du centre A avec le rayon AB soit décrit le cercle B D d, et soit fait dans sa circonférence à  $AB = BC = CD = DE = Ed$ ; soit fait ensuite à  $BD = Ba = B\alpha = E\alpha = Ea$ ; du centre  $\alpha$  et avec le rayon  $\alpha a$  soit décrit l'arc  $aP$ ; du même centre  $\alpha$  et avec le rayon  $\alpha B$  soit décrit l'arc  $Bpqs$ ; du même centre  $\alpha$  et avec le rayon AB soit décrit l'arc  $grt$ ; du même centre  $\alpha$  et avec le rayon BE soit décrit l'arc MQRST; des centres D et  $d$  avec le rayon  $Aa$  soient décrits deux arcs qui se coupent en  $b$ ; du centre E et avec le rayon  $Ab$  soit coupée la circonférence en L; soit fait à  $AB = aP = MQ$ ; à  $Aa = MR$ ; à  $Eb = MS$ ; et à  $BL = MT$ ; soit fait ensuite à  $aB = Pp$ ; à  $MB = Qq = Ss$ ; et à  $Mg = Rr = Tt$ ;

$\left. \begin{array}{l} Bp \\ Bq \\ gr \\ Bs \\ gt \end{array} \right\}$	sera le rayon de la sphère qui comprend	$\left\{ \begin{array}{l} \text{le tétraèdre,} \\ \text{le cube,} \\ \text{l'octaèdre,} \\ \text{le dodécaèdre,} \\ \text{l'icosaèdre.} \end{array} \right.$
---	---	--

*Démonstration.* En faisant  $AB = 1$ , on a

$$aa = 2\sqrt{2} \text{ (100)}, \quad aB = \sqrt{3};$$

on a ensuite

$$aa : aB :: aP : Bp \text{ (93)};$$

c'est-à-dire

$$2\sqrt{2} : \sqrt{3} :: 1 : Bp;$$

on aura donc

$$Bp = \frac{1}{2} \sqrt{\frac{3}{2}};$$

d'où, etc. (181).

On a aussi (93)

$$aM : aB :: MQ : Bq;$$

c'est-à-dire

$$2 : \sqrt{3} :: 1 : Bq; \text{ d'où } Bq = \frac{1}{2} \sqrt{3}.$$

On a de même

$$aM : ag :: MR : gr;$$

c'est-à-dire

$$2 : 1 :: \sqrt{2} : gr; \text{ d'où } gr = \frac{1}{2} \sqrt{2};$$

on a également

$$aM : aB :: MS : Bs.$$

Mais

$$MS = bE = \frac{1}{2}(\sqrt{5} + 1) \quad (181);$$

donc

$$2 : \sqrt{3} :: \frac{1}{2}(\sqrt{5} + 1) : Bs;$$

d'où

$$Bs = \frac{1}{4}\sqrt{3}(\sqrt{5} + 1).$$

On a enfin

$$aM : ag :: MT : gt;$$

mais  $MT = BL$ .

De plus,  $(BL)^2 = (BE)^2 - (EL)^2$  (31, l. 3; 47, l. 1);  
c'est-à-dire

$$\begin{aligned} (BL)^2 &= (BE)^2 - (Ab)^2 = 4 - \frac{1}{2}(3 - \sqrt{5}) \quad (181) \\ &= \frac{5 + \sqrt{5}}{2}; \end{aligned}$$

d'où

$$BL = MT = \sqrt{\left(\frac{5 + \sqrt{5}}{2}\right)};$$

et par conséquent

$$2 : 1 :: \sqrt{\left(\frac{5 + \sqrt{5}}{2}\right)} : gt;$$

d'où

$$gt = \frac{1}{2}\sqrt{\left(\frac{5 + \sqrt{5}}{2}\right)}.$$

Donc les distances  $Bp$ ,  $Bq$ ,  $gr$ ,  $Bs$ ,  $gt$  seront respectivement les rayons des sphères qui



comprennent les cinq corps réguliers, savoir : la pyramide, le cube, l'octaèdre, le dodécaèdre et l'icosaèdre.

## PROBLÈME.

183. *Étant donné (fig. 94) le rayon AB de la sphère qui comprend les cinq corps réguliers, trouver leurs côtés.*

*Solution.* Du centre A avec le rayon AB soit décrit le plus grand cercle de la sphère  $Bd$ , et soit fait dans sa circonférence à  $AB = BC = CD = DE = Ed$ ; puis à  $BD = Ba = Ea$ , et à  $Aa = Db = db$ ; soit fait ensuite dans la circonférence à  $AB = aH$ , et à  $Aa = EF = Hh$ ; du centre  $a$  et avec le rayon  $aE$  soit décrit l'arc  $ESQP$ ; du même centre  $a$  et avec le rayon  $ah$  soit décrit l'arc  $hT$ ; soit fait à  $Aa = EP$ ; à  $AB = EQ$ ; à  $Ab = ES$ ; à  $bF = hT$ . Puis, soit fait à  $EL = Pp = Qq = Ss$ , et à  $hL = Tt$ :

$Lp$  sera le côté du tétraèdre,  
 $Lq$ ..... du cube,  
 $Aa$ ..... de l'octaèdre,  
 $Ls$ ..... du dodécaèdre,  
 $Lt$ ..... de l'icosaèdre.

*Démonstration.* On a l'arc  $Eh$  égal à un huitième de la circonférence (30); d'où  $ah = \sqrt{5}$  (185); et comme l'angle droit  $bAF$  est le même que  $BAF$ , parce que le point  $b$  est sur la ligne  $AE$  (13, 27),  $bF$  sera le côté du pentagone (40), et  $Ab$  le côté du décagone inscrit au cercle  $BDd$  (41); faisant donc  $AB = 1$ , on aura

$$Ab = \frac{1}{2}(\sqrt{5} - 1) \quad (180)$$

et

$$\begin{aligned} (bB)^2 &= (AF)^2 + (Ab)^2 = 1 + \frac{1}{4}(6 - 2\sqrt{5}) \\ &= \frac{5 - \sqrt{5}}{2}; \end{aligned}$$

d'où

$$bF = hT = \sqrt{\left(\frac{5 - \sqrt{5}}{2}\right)}.$$

On aura ensuite

$$aE : aL :: EP : Lp \quad (93),$$

c'est-à-dire

$$\sqrt{3} : 2 :: \sqrt{2} : Lp;$$

donc on aura

$$Lp = 2 \sqrt{\frac{2}{3}}.$$

Or le rayon de la sphère est au côté du té-

traèdre qu'elle contient comme  $\frac{1}{2}\sqrt{\frac{3}{2}} : 1$  (181)

$:: 1 : 2\sqrt{\frac{2}{3}}$  : donc faisant le rayon AB de la sphère = 1, Lp sera le côté du tétraèdre qui y est contenu.

On aura aussi (93)

$$aE : aL :: EQ : Lq,$$

c'est-à-dire

$$\sqrt{3} : 2 :: 1 : Lq; \text{ d'où } Lq = 2\sqrt{\frac{1}{3}}.$$

Or le rapport du rayon de la sphère au côté du cube qui y est contenu, est

$$\frac{1}{2}\sqrt{3} : 1 \text{ (181)} :: 1 : 2\sqrt{\frac{1}{3}};$$

donc, etc.

On aura de même  $Aa = \sqrt{2}$  pour côté de l'octaèdre; car le rapport du rayon de la sphère au côté de l'octaèdre qui y est contenu, est

$$\frac{1}{2}\sqrt{2} : 1 \text{ (181)} :: 1 : \sqrt{2} :$$

donc, etc.

On aura également

$$aE : aL :: ES : Ls,$$

c'est-à-dire

$$\sqrt{3} : 2 :: \frac{1}{2}(\sqrt{5} - 1) : Ls;$$

d'où

$$Ls = \frac{\sqrt{5-1}}{\sqrt{3}}.$$

Or le rapport du rayon de la sphère au côté du dodécaèdre qui y est contenu, est

$$\frac{1}{4} \sqrt{3} \cdot (\sqrt{5} + 1) : 1 (181) :: 1 : \frac{\sqrt{5-1}}{\sqrt{3}};$$

donc, etc. Enfin, on aura

$$ah : aL :: hT : Lt (93),$$

c'est-à-dire

$$\sqrt{5} : 2 :: \sqrt{\left(\frac{5-\sqrt{5}}{2}\right)} : Lt :$$

d'où

$$Lt = 2\sqrt{\left(\frac{5-\sqrt{5}}{10}\right)}.$$

Or le rapport du rayon de la sphère au côté de l'icosaèdre qui y est contenu, est

$$\frac{1}{2} \sqrt{\left(\frac{5+\sqrt{5}}{2}\right)} : 1 (181) :: 1 : 2\sqrt{\left(\frac{5-\sqrt{5}}{10}\right)}.$$

donc, etc.

## PROBLÈME.

184. *Étant donné un point B sur la circonférence d'un cercle donné (fig. 95), trouver deux autres points L et M, tels que le triangle BLM soit équilatéral et touche le cercle par le côté LM au point E qui en est le milieu.*

*Solution.* Soit fait dans la circonférence du cercle donné à son rayon  $AB = BC = CD = DE = Ed$ ; puis, soit fait à  $BD = Ba = Ea$ : du centre  $a$  et avec le rayon  $aA$  soit décrit un arc qui passe par  $\alpha$ ; du centre  $E$  et avec le rayon  $EA$  soit décrit un arc qui coupe le précédent en  $\alpha$ ; du centre  $\alpha$  avec le même rayon  $\alpha E$  soit coupée la circonférence en  $P$ . Puis, du centre  $E$  et du rayon  $EP$  soit décrit un arc qui passe par  $L$  et  $M$ ; des centres  $D$  et  $d$  avec le rayon  $aP$  soient décrits deux arcs qui coupent le précédent en  $L$  et  $M$ ; les points  $L$  et  $M$  seront les deux points cherchés.

*Démonstration.* Si l'on compare les points  $a, A, E, \alpha, P$  de la fig. 95 avec les points  $Q, A, p, B, P$  de la fig. 3, de l'équation

$$(AQ)^2 = (Ap)^2 + (pQ)^2 - pP \cdot pQ$$

qui appartient à la fig. 3, on tirera pour la fig. 95 celle-ci

$$(Aa)^2 = (AE)^2 + (Ea)^2 - EP \cdot Ea;$$

et substituant les valeurs numériques (27)

$$2 = 1 + 3 - EP \cdot \sqrt{3},$$

d'où

$$2 = EP \cdot \sqrt{3} \text{ et } EP = \frac{2}{3} \sqrt{3};$$

et comme les trois points E, P, a sont dans la même droite (13), on aura

$$Pa = Ea - EP = \frac{1}{3} \sqrt{3}.$$

Si l'on suppose menée la ligne BE qui coupe en R la ligne Dd, on aura (104)

$$BR = \frac{2}{3}, \quad RD = \frac{1}{2} \sqrt{3}, \quad BE = 2;$$

d'où la quatrième proportionnelle aux trois lignes BR, RD, BE sera égale à  $\frac{2}{3} \sqrt{3} = EM$ .

On aura aussi (104)  $RE = \frac{1}{2}$ ,  $BD = \sqrt{3}$  (2);

d'où la quatrième proportionnelle aux trois lignes BR, BD, RE sera égale à  $\frac{1}{3} \sqrt{3} = DM$ : donc les lignes EM, DM seront de la longueur nécessaire pour que le triangle BEM

soit semblable au triangle BRD (2, liv. 6); donc ils seront semblables, car le point M ne peut être placé dans un autre endroit (8, liv. 1). On prouvera de la même manière que le triangle BR*d* est semblable au triangle BEL; d'où l'on voit que le triangle B*Dd* est semblable au triangle BML (20, liv. 6): donc aussi ce dernier est équilatéral. De plus, les angles BEM, BEL égaux aux angles BRD, BR*d*, sont droits, et les lignes EN, EL sont égales; donc BLM est le triangle cherché.

## PROBLÈME.

**185.** *Dans un cercle dont le rayon AB soit donné (fig. 96), inscrire cinq carrés égaux, dont l'un soit concentrique au cercle et les autres le touchent, chacun ayant un côté commun avec le carré du milieu.*

*Solution.* Soient faites égales au rayon AB les cordes BC, CD, DE; soit fait à BD = Ba = Ea; faites encore égales à Aa les cordes BF, B*f*: du centre *a* avec le rayon AB coupez le cercle en G, et faites la corde Gg = Aa; du centre *g* avec le rayon *ga* décrivez un arc aP, et faites sa corde aP = aA; du même centre *g*

et avec le rayon  $gA$  décrivez un arc  $Ap$  sur la direction de l'arc  $aP$ ; faites à  $aA = Pp$ ; faites maintenant égales à  $Ap$  les cordes  $Bq, fn, Em, Fl$ ; avec le même rayon  $Ap$  et des centres  $B, q, f, n, E, m, F, l$ , décrivez des arcs qui se coupent dans le cercle en  $L, Q, N, M$ ;  $LMNQ$  sera le carré central, et  $BLQq, fQNn, ENMm, FMLl$  seront les autres carrés cherchés.

*Démonstration.* Si l'on compare les points  $a, A, G, B, g$  de cette figure avec les points  $Q, p, A, R, S$  de la fig. 4, on aura (21) pour la fig. 87 l'équation

$$(ag)^2 = (aB)^2 + Gg.Aa,$$

c'est-à-dire en faisant le rayon  $AB = 1$ ,

$$(ag)^2 = 3 + 2 = 5 \quad (27); \text{ d'où } ag = \sqrt{5}.$$

De plus, on a  $aP = aA = \sqrt{2}$ ;

or

$$ga : aP :: gA : Ap \quad (93),$$

c'est-à-dire

$$\sqrt{5} : \sqrt{2} :: 1 : Ap;$$

d'où

$$Ap = \frac{\sqrt{2}}{\sqrt{5}} = EM;$$



et comme BCDE est une demi-circonférence (64), BmE sera un angle droit (31, liv. 3); d'où

$$(BE)^2 = (Bm)^2 + (mE)^2; \text{ c.-à-d. } 4 = (Bm)^2 + \frac{2}{5};$$

d'où

$$(Bm)^2 = 9 \cdot \frac{2}{5}, \text{ et } Bm = 3 \sqrt{\frac{2}{5}} = 3mE.$$

On trouvera la même valeur pour qE, et l'on démontrera que tous les autres angles du quadrilatère BmEq qui sont inscrits et appuyés sur un diamètre sont droits : donc ce quadrilatère est un parallélogramme rectangle. On démontre de même que Flfn est un parallélogramme rectangle.

Si l'on fait la corde Em = k, mF sera la corde du complément de l'angle droit = h (159), et l'on aura

$$h^2 = 2 - 2k \sqrt{\left(1 - \frac{1}{4}k^2\right)};$$

d'où, à cause de  $k^2 = \frac{2}{5}$ , on aura

$$\begin{aligned} h^2 &= 2 = 2k \sqrt{\frac{9}{10}} = 2 - 2 \sqrt{\frac{9}{25}} = 2 - \frac{6}{5} = \frac{4}{5} \\ &= 2k^2, \end{aligned}$$

c'est-à-dire

$$(Fm)^2 = (FM)^2 + (Mm)^2;$$

d'où l'angle  $FMm$  sera droit (48, *liv. 1*), ainsi que les autres angles  $BLl$ ,  $fQq$ ,  $ENn$ . Puis, si l'on appelle  $x$  la distance du point  $m$  à celui où tombe du point  $F$  la perpendiculaire sur  $Bm$ , on aura (13, *liv. 2*)

$$(BF)^2 = (Fm)^2 + (Bm)^2 - 2Bm \cdot x,$$

c'est-à-dire

$$2 = \frac{4}{5} + \frac{18}{5} - 6x\sqrt{\frac{2}{5}};$$

d'où  $x\sqrt{\frac{2}{5}} = \frac{2}{5}$ , et divisant par  $\sqrt{\frac{2}{5}}$ ,

$$x = \sqrt{\frac{2}{5}} = m M.$$

Ensuite, si l'on nomme  $y$  la perpendiculaire qui tombe du point  $F$  sur  $Bm$ , on aura

$$y^2 = (Fm)^2 - x^2 = \frac{4}{5} - \frac{2}{5} = \frac{2}{5};$$

d'où l'on tire

$$y = \sqrt{\frac{2}{5}} = FM.$$

On démontre par là que les points  $M$  et  $L$  sont sur la ligne  $Bm$ ; et comme on a

$$Bm = 3.Em = Mm + BL + Em,$$

on aura donc aussi

$$LM = Em.$$

De plus, on démontre que les autres côtés  $MN$ ,  $NQ$ ,  $LQ$  ont la même valeur. De tout ce qui précède, il résulte que les angles extérieurs au quadrilatère  $LMNQ$  qui ont leurs sommets aux points  $L$ ,  $M$ ,  $N$ ,  $Q$  sont droits : donc les angles intérieurs le seront aussi ; donc on aura les cinq carrés demandés.

PROBLÈME.

186. *Étant donnés les cinq points  $A$ ,  $B$ ,  $C$ ,  $D$ ,  $E$  sommets des angles d'un pentagone régulier (fig. 97), trouver les cinq points  $a$ ,  $b$ ,  $c$ ,  $d$ ,  $e$  où se coupent les diagonales de ce pentagone.*

*Solution.* Des centres  $A$ ,  $B$ ,  $C$ ,  $D$ ,  $E$  avec le côté  $AB$  du pentagone pris pour rayon, soient décrits des arcs qui se coupent en  $a$ ,  $b$ ,  $c$ ,  $d$ ,  $e$  ; ces points seront ceux d'intersection des diagonales.

*Démonstration.* Si l'on suppose les diagonales menées et les côtés du pentagone  $ABCDE$

tracés, on aura l'angle  $BAC = BDA$  (29, liv. 3)  $= CAD$ ; d'où  $Ab = bD$  (6, liv. 1). On aura ensuite  $BbA = bDA + bAD$  (32, liv. 1)  $= BA b + bAD = BAD = ABD$  (5, liv. 1); d'où le triangle  $ABb$  sera isoscèle (6, liv. 1), c'est-à-dire on aura  $AB = Ab = bD$ : donc, etc.

## PROBLÈME.

187. Dans un cercle d'un rayon  $AB$  donné (fig. 98), inscrire six pentagones réguliers.

*Solution.* Soit fait dans la circonférence du cercle donné, à  $AB = BC = CD = DE = Ed$ , à  $BD = Ba = Ea$ , et à  $Aa = BF = Db = db$ ; soit aussi fait dans la même circonférence à  $bF = BP = PQ = QR = RS$ ; avec le même rayon  $bF$  et des centres  $B, P, Q, R, S$  soient décrits des arcs qui se coupent en  $\beta, p, q, r, s$ . Maintenant des centres  $\beta, P$  avec le rayon  $\beta p$  soient décrits deux arcs qui se coupent en  $c$ ; avec le même rayon et des centres  $P, p$  soient décrits deux arcs qui se coupent en  $d$ ; on aura deux des pentagones cherchés, savoir:  $\beta p q r s$  qui a son centre en  $A$ , et  $\beta p d P c$  qui touche le cercle donné en  $P$ . On trouvera de la même manière les sommes des angles des

quatre autres pentagones  $p q f Q e$ ,  $q r h R g$ ,  
 $r s k S i$ ,  $s \beta m B l$ .

*Démonstration.* Les points B, P, Q, R, S seront les sommets des angles d'un pentagone régulier inscrit au cercle donné (40, 128); d'où les points  $\beta$ ,  $p$  seront dans la diagonale BQ, et les points  $p$ ,  $q$  dans la diagonale PR (186); et comme  $Bp = \beta Q$ , on aura  $B\beta = pQ$ . On prouvera de même que  $Pp = qR$ , et à cause de  $BQ = PR$  (27, liv. 3) on aura aussi  $B\beta = Pp$ , et  $\beta p = pq$ . On prouvera aussi de la même manière que tous les côtés du pentagone  $\beta p q r s$  sont égaux entre eux. De plus, on a l'angle  $\beta p q$ , c'est-à-dire  $BpR = BPR + PBp$  (32, liv. 1); mais  $PBp$ , c'est-à-dire  $PBQ = QPR$ : donc  $\beta p q = BPQ$ . On démontre de même que les autres angles du pentagone  $\beta p q r s$  sont égaux aux angles du pentagone BPQRS: donc ils sont tous deux réguliers. En outre, l'angle QBR formé par deux diagonales du pentagone BPQRS, qui est l'angle  $\beta Bs$ , sera égal à l'angle  $\beta qs$ , formé par deux diagonales du pentagone  $\beta p q r s$  (20, liv. 6). Or comme les triangles  $\beta Bs$ ,  $\beta qs$  sont isoscèles, ils auront aussi les angles à la base commune  $\beta s$  égaux entre eux (5, 32, liv. 1); d'où aussi les triangles seront en tout égaux (26, liv. 1); d'où les triangles

$Bm\beta$ ,  $\beta pq$  ayant tous les côtés égaux entre eux, auront aussi les angles égaux (8, liv. 1), ainsi que les triangles  $Bls$ ,  $srq$  : donc tous les côtés et tous les angles du pentagone  $Bm\beta sl$  seront égaux aux côtés et aux angles du pentagone  $\beta pqrs$ ; ils seront donc tous deux réguliers. On démontre la même chose pour les autres pentagones  $\beta cPdp$ ,  $peQfq$ ,  $qgRhr$ ,  $riSks$  : donc, etc.

188. Le point  $b$  sera le centre du pentagone  $\beta mBls$ , et la distance  $bB$  le rayon du cercle circonscrit à ce pentagone et aux autres qui lui sont égaux, ainsi que nous le démontrons bientôt : ce qui ajoute encore une belle propriété au point  $b$  que nous avons déjà remarqué tant de fois dans cette Géométrie. Car, outre les divisions en moyenne et extrême raison qu'il nous a fait obtenir dans le diamètre  $BAE$  (45, 46), outre qu'il a servi à déterminer le côté  $bF$  du pentagone inscrit au cercle du rayon  $AB$  (40), le côté  $bA$  du décagone inscrit au même cercle (41); on a encore le rayon  $Bb$  du cercle circonscrit aux six pentagones qu'on peut inscrire au plus grand cercle du rayon  $AB$ , comme dans le présent problème; car si l'on suppose le rayon  $AB = 1$ , on a

$$Ab = \frac{1}{2}(\sqrt{5} - 1) \quad (180);$$

et comme (31, liv. 3)

$$(BE)^2 = (BQ)^2 + (QE)^2 = (BQ)^2 + (Ab)^2,$$

on aura

$$BQ = \sqrt{\left(\frac{5 + \sqrt{5}}{2}\right)}.$$

On a ensuite

$$\beta Q = BP = bF = \sqrt{\left(\frac{5 - \sqrt{5}}{2}\right)} \quad (181);$$

d'où

$$\begin{aligned} BQ : \beta Q &:: BQ \cdot \beta Q : (\beta Q)^2 :: \sqrt{5} : \frac{5 - \sqrt{5}}{2} \\ &:: 1 : \frac{1}{2}(\sqrt{5} - 1) :: BA : bA; \end{aligned}$$

d'où

$$BQ : BQ - \beta Q :: BA : BA - bA,$$

c'est-à-dire

$$BQ : B\beta :: BA : Bb.$$

Donc les deux diagonales des pentagones BPQRS, Bm $\beta$ sl seront entre elles comme BA : bA : donc BA étant le rayon du premier pentagone, Bb sera le rayon du second (20, liv. 6).

## PROBLÈME.

189. *Étant donnés les sommets des angles d'un hexagone régulier BCDEdc (fig. 99), trouver les points l, m, n, g, p, q où se coupent celles de ses diagonales qui ne passent pas par le centre.*

*Solution.* Soit fait à  $BD = Ba = Ea$ ; puis à  $BC = BA = CA = B\alpha$ ; à  $aA = a\alpha$ ; à  $\alpha B = \alpha P = AP$ . Maintenant, des centres B, C avec le rayon  $\alpha P$  soient décrits deux arcs qui se coupent en  $l$ ; des centres C, D soient décrits deux autres arcs qui se coupent en  $m$ , et ainsi de suite; ces points  $l, m$ , etc., seront les points cherchés.

*Démonstration.* Supposons que les diagonales indiquées se coupent en  $l, m, n, g, p, q$ ; comme on a l'angle  $BDc = DcE$  (29, liv. 3), BD sera parallèle à  $cE$  (28, liv. 3): donc le triangle  $Clm$  sera semblable au triangle  $CcE$  (2, 5, liv. 6), et par conséquent équilatéral. De même on aura le triangle  $Blq$  semblable au triangle  $BdD$ ; puis les triangles  $CcE$  et  $BdD$  ayant les côtés égaux, seront égaux (2) (8, 4, liv. 1); et le côté BD, et par conséquent



$lm$  étant à égale distance du côté  $cE$  que le côté,  $Cc$  ainsi que  $ql$  du côté  $dD$  (14, liv. 3), si l'on applique le triangle  $BdD$  sur le triangle  $CcE$ , la droite  $ql$  tombera sur la droite  $lm$ , et elles seront égales; mais  $Bl = lq$ : donc  $Bl = lm$ . De même on démontre que  $Dm = ml$ : donc, en faisant le rayon du cercle  $BC = AB = 1$  (2), on a

$$Bl = \frac{1}{3} BD = \frac{1}{3} \sqrt{3};$$

de même  $Cl = \frac{1}{3} \sqrt{3}$ ; mais on a fait précisément

$$Bl = Cl = aP = \frac{1}{3} \sqrt{3} \text{ (184):}$$

donc  $l$  est un des points cherchés. On démontre la même chose pour les autres points  $m, n, g, p, q$ ; donc, etc.

## PROBLÈME.

190. Dans le cercle du rayon donné  $AB$  (fig. 100), inscrire sept hexagones réguliers, dont un soit concentrique au cercle, et les autres soient disposés autour du premier.

*Solution.* Soit fait dans la circonférence du

cercle donné à  $AB = BC = CD = DE = Ed$  ; puis à  $DB = DV = dV$ . Des centres C et A avec le rayon CV soient décrits deux arcs qui se coupent en P ; du centre P avec le même rayon PC soit coupée la circonférence du cercle en  $\delta$  ;  $d\delta$  sera le côté des hexagones à inscrire , et que l'on inscrira facilement l'un près de l'autre. Ensuite , des centres  $d$  et  $\delta$  avec le même côté  $d\delta$  pris pour rayon soient décrits deux arcs qui se coupent en  $a$  ; du centre  $a$  et avec le même rayon soit décrit un cercle dans lequel on inscrit (15, liv. 4) un hexagone régulier  $d\delta mnpq$ . Du centre A avec le même rayon soit décrit un cercle qui passera par  $np$  ; soit décrit dans ce cercle l'hexagone qui a pour un des côtés la ligne  $pn$  ; sur les côtés de cet hexagone soient décrits les autres hexagones , comme on a fait d'abord sur le côté  $d\delta$  , et l'on aura les sept hexagones demandés.

*Démonstration.* En faisant pour abrégér  $AB = 1$  , on aura  $CP = CV = \sqrt{7} (100) = AP$  ; puis on aura

$$AP : A\delta :: A\delta : \delta d \quad (86),$$

c'est-à-dire

$$\sqrt{7} : 1 :: 1 : \delta d ; \text{ d'où } \delta d = \sqrt{\frac{1}{7}}.$$

Supposons pour un moment inscrits les hexagones cherchés, et soit leur côté  $d\delta$  qui est la quantité inconnue  $= x$ ; on divisera cette ligne en deux parties égales au point  $\nu$ , et l'on mènera la droite  $A\nu$  qui lui sera perpendiculaire (83), et passera par  $\alpha$ , centre de l'hexagone, dont  $d\delta$  est le côté, en coupant aussi par moitié au point  $\mu$  le côté  $pn$  de l'hexagone central; et comme on a dans le triangle équilatéral  $Apn$

$$pn : A\mu :: 1 : \frac{1}{2} \sqrt{3} \quad (104),$$

on aura

$$x : A\mu :: 1 : \frac{1}{2} \sqrt{3}; \text{ d'où } A\mu = \frac{1}{2} x \sqrt{3},$$

et

$$A\nu = 3A\mu = \frac{3}{2} x \sqrt{3},$$

et encore

$$d\nu = \frac{1}{2} x;$$

puis, comme  $1 = (Ad)^2 = (A\nu)^2 + (d\nu)^2$ ,  
on aura

$$1 = \frac{27}{4} x^2 + \frac{1}{4} x^2 = 7x^2; \text{ d'où } x^2 = \frac{1}{7} \text{ et } x = \sqrt{\frac{1}{7}};$$

valeur qui est précisément celle déterminée pour la ligne  $d\delta$  dans la solution du problème, ainsi qu'on vient de le démontrer : donc, etc.

On trouve dans Pappus, *liv. 8, probl. 15, prop. 19*, ce problème résolu avec la règle et le compas, d'une manière qui n'est pas plus simple que la précédente. Il y a aussi ajouté une construction mécanique.

191. Nous croyons avoir jusqu'ici rempli les promesses que nous avons faites (6 et 7). Quant au premier point, nous avons déjà donné tous les élémens de la *Géométrie du compas*, c'est-à-dire la totalité des problèmes qui suffisent pour trouver avec le compas seul et sans la règle tous les points qu'on peut trouver avec ces deux instrumens réunis. Pour démontrer ceci (71), on observe d'abord que la Géométrie élémentaire fournit le moyen de trouver les points d'un problème, ou par la section des arcs entre eux (et ce moyen est tout-à-fait propre à la Géométrie du compas), ou par la section des arcs et des lignes droites, ou par celle des lignes droites entre elles (et tout cela se trouve compris dans le livre 7) (110 et suivans). Ensuite une droite quelconque nécessaire à la solution d'un problème se

trouve déterminée de grandeur et de position. Par rapport à la grandeur, nous avons enseigné dans le liv. 3 (64 et suivans) et dans le liv. 4 (72, 73, 74), à agrandir, diminuer, diviser une grandeur quelconque finie en un nombre quelconque de parties; puis, dans le liv. 5 (86 et suiv.), à trouver les troisièmes, les quatrièmes, les moyennes proportionnelles, ainsi qu'à diviser une droite dans un rapport quelconque donné. Quant à la position des droites, elle se détermine par la position de deux points pour chacune d'elles; or le liv. 4 (76 et suiv.) enseigne à trouver les points pour tous les cas des perpendiculaires et des parallèles. Le liv. 8 (113 et suiv.) donne tout ce qui est nécessaire pour déterminer la position des lignes droites entre elles sous un angle quelconque, donné par le moyen de deux points. On a épuisé dans le liv. 2 (27 et suiv.) les divisions de la circonférence du cercle et de tous les arcs qui sont du ressort de la Géométrie élémentaire. Je ne vois plus, d'après tout cela, quels autres élémens on pourrait désirer. A l'égard du choix des problèmes que nous avons recueillis ici, nous laisserons aux mathématiciens le soin de juger si, dans un grand nombre de cas utiles ou récréatifs, il

n'est pas préférable, non-seulement pour la précision du résultat, mais encore pour la promptitude de la construction, d'abandonner la règle et de se servir du compas seulement, jusqu'à ce qu'ayant trouvé les points nécessaires au problème, on mène, s'il le faut, d'un point à l'autre une ou plusieurs droites que l'on ne peut pas à la vérité tracer avec le compas seul, et qui exigent l'usage de la règle.

# LIVRE DOUZIÈME.

---

## PROBLÈMES RÉSOLUS PAR APPROXIMATION.

192. Tous les problèmes supérieurs au second degré ne peuvent être résolus géométriquement seulement avec la règle et le compas; mais ils exigent des intersections de courbes coniques ou de degré supérieur, et par conséquent on ne peut les résoudre exactement avec la seule Géométrie du compas. Les instrumens faits pour décrire la cycloïde, la conchoïde, la cissoïde, la trajectoire et d'autres courbes semblables qui servent à la résolution de ces problèmes, sont assurément d'une invention très ingénieuse et d'un prompt et élégant usage dans la pratique. Pourtant, lorsqu'on n'a pas besoin d'avoir toute la trace de la courbe à laquelle ils sont destinés, et qu'il suffit d'obtenir un point par l'intersection de cette courbe avec d'autres lignes, comme ils laissent toujours quelques soupçons de petites erreurs qu'on ne peut pas quelquefois bien calculer, il vaudra mieux, dans beaucoup de cas, préférer à l'exactitude théorique

de ces méthodes, l'approximation pratique suffisante d'une construction faite avec la règle et le compas. Alors je dis que le plus souvent une solution obtenue avec le seul compas sera encore préférable. On pourra s'en convaincre par des exemples, en comparant nos solutions avec celles déjà connues.

193. Comme il n'y a encore aucune méthode générale pour obtenir par la Géométrie élémentaire ces approximations, on ne doit pas attendre que j'en propose aucune par ma Géométrie du compas. Je n'appelle point méthode géométrique d'approximation celle par laquelle on obtient une valeur approchée à l'aide d'une de ces échelles qu'on nomme géométriques, puisque avant de s'en servir il faut faire un calcul arithmétique : une telle méthode doit être plutôt appelée arithmétique. Supposons, par exemple, qu'on veuille la racine cubique du nombre 2, l'extraction qu'on veut faire arithmétiquement de cette racine, pour pouvoir ensuite prendre les portions décimales ou une fraction quelconque sur une échelle géométrique avec le compas afin de doubler un cube, se fait par un moyen qui est plutôt du ressort de l'Arithmétique que de celui de la Géométrie.



194. Je n'ai pu encore jusqu'ici apercevoir d'autre moyen d'obtenir d'une manière très approchée la solution de plusieurs problèmes utiles supérieurs au second degré, que celui de trouver des genres, et pour ainsi dire des classes différentes de construction de figures élémentaires; puis de soumettre au calcul le plus grand nombre possible de cas particuliers presque innombrables qui en résultent, et de choisir parmi ceux qui tendent le mieux au but qu'on se propose, et les employer à résoudre le problème.

195. J'ai déjà examiné plusieurs de ces genres, et pour ainsi dire de ces classes de constructions, et j'ai entre les mains des recherches sur cette matière. La classe la plus simple est celle dont nous ferons presque uniquement usage dans ce dernier livre de notre Géométrie. Elle est fondée sur les trois points remarquables  $a$ ,  $b$  et  $e$  (*fig.* 9, 11 et 12) (59), qui nous ont déjà tant servi dans les livres précédens, et sur lesquels nous avons à donner les douze équations que nous avons promises (59).

196. Soit le point  $Z$  un point quelconque pris sur le quart de la circonférence  $BF$  dans la *fig.* 12 construite comme dans le livre se-

cond, et soit pris dans l'autre quart  $Bf$  le point  $z$ , de manière qu'on ait  $Bz = BZ$ , on aura (20 et 21)

$$(A) \dots (aZ)^2 = (aB)^2 - Zz.Aa,$$

$$(B) \dots (bZ)^2 = (bB)^2 + Zz.Ab,$$

$$(E) \dots (eZ)^2 = (eB)^2 - Zz.Ae.$$

197. Si l'on veut avoir les équations pour les distances des trois points  $a$ ,  $b$  et  $e$  du point  $z$ , on n'aura qu'à changer les signes du second membre des équations précédentes, et l'on aura (20 et 21)

$$(A') \dots (az)^2 = (aB)^2 + zZ.Aa,$$

$$(B') \dots (bz)^2 = (bB)^2 - zZ.Ab,$$

$$(E') \dots (ez)^2 = (eB)^2 + zZ.Ae.$$

198. La droite  $Zz$  étant la corde de l'arc double de  $BZ = 2 \sin BZ$ , et supposant  $AB = 1$ , ce que nous supposerons toujours, on aura

$$(aB)^2 = (BD)^2 = 3 \quad (2);$$

$$(Aa)^2 = 2 \quad (27);$$

$$(Bb)^2 = \frac{5 - \sqrt{5}}{2} \quad (181);$$

$$(Ae)^2 = 2 - \sqrt{2} \quad (38);$$

d'où

$$(eB)^2 = (AB)^2 + (Ae)^2 = 3 - \sqrt{2};$$

et

$$Ab = \frac{1}{2}(\sqrt{5} - 1) \quad (180) :$$

si l'on fait  $aZ = a$ , on aura

$$(A') \dots a^2 = 3 - 2 \sin A \cdot \sqrt{2}.$$

Cette équation comprend aussi le cas où l'arc  $A$  est négatif comme  $Bz$ , dans lequel le signe — placé devant  $2 \sin A \sqrt{2}$  se change en +.

199. La valeur de  $a$  peut toujours être celle d'une corde quelconque du cercle  $BDd$ , excepté dans le cas où la valeur de la distance  $az$  exprimée par  $a$  est plus grande que 2. Pour calculer alors plus facilement la valeur de  $a$ , comme on a

$$\sqrt{2} = BF = 2 \sin 45^\circ,$$

et

$$\begin{aligned} 2 \sin A \cdot \sin 45^\circ &= \cos(A - 45^\circ) - \cos A + (45^\circ) \\ &= \cos(45^\circ - A) - \sin(45^\circ - A) \quad (158), \end{aligned}$$

on aura

$$(*) a^2 = 3 - 2 \cos(45^\circ - A) + 2 \sin(45^\circ - A).$$

200. Dans les autres cas où  $a$  est plus petit que 2, en appelant  $A'$  l'arc dont  $a$  est la corde, on aura

$$\begin{aligned} \frac{a^2}{4} &= \sin^2 \frac{1}{2} A' = \frac{1 - \cos A'}{2} \quad (155) \\ &= \frac{3}{4} - \sin A \sqrt{\frac{1}{2}} = \frac{3}{4} - \sin A \cdot \cos 45^\circ ; \end{aligned}$$

d'où réduisant ,

$$\cos A' = 2 \sin A \cdot \cos 45^\circ - \frac{1}{2} ;$$

d'où encore (159),

$$\cos A' = \sin (A + 45^\circ) + \sin (A - 45^\circ) - \sin 30^\circ ,$$

ou bien ,

$$(1) \cos A' = \cos (45^\circ - A) - \sin (45^\circ - A) - \sin 30^\circ .$$

201. Si l'on veut se servir de cette équation pour obtenir une des divisions de la circonférence que l'on ne peut pas avoir exactement, on y introduira, au lieu de  $A$ , un arc précis, par exemple, la vingtième partie de la circonférence  $= 18^\circ$ , en faisant  $BZ = 18^\circ$  (*fig. 12*), et l'on aura

$$\cos A' = \cos 27^\circ - \sin 27^\circ - \sin 30^\circ .$$

Or

$$\sin 27^\circ = 0,4539905$$

$$\sin 30^\circ = 0,5000000$$

---


$$0,9539905$$

$$\cos 27^\circ = 0,8910065$$

$$\text{d'où} \quad \cos A' = - 0,0629840.$$

On trouve ensuite dans les tables

$$0,0629840 = \sin 3^\circ 36' \frac{1935}{2903}.$$

Or comme la valeur de  $\frac{1935}{2903}$  approche tellement de  $\frac{2}{3}$  qu'il n'y a pas seulement erreur d'une unité entière dans le dernier chiffre du nombre 1935, on pourra prendre 0,0629840 pour le sinus de  $3^\circ 36' 40''$ , sans qu'on puisse reconnaître avec les tables ordinaires s'il y a erreur d'une tierce. Donc l'arc  $A'$ , qui a son cosinus négatif, sera  $= 93^\circ 36' 40''$ , et  $BZ$  étant supposé  $= 18^\circ$ , la distance  $aZ$  sera la corde de cet arc; donc en appliquant pour corde sur la circonférence la distance  $aZ$  prise avec le compas, on déterminera un arc  $= 93^\circ 36' 40''$  avec une approximation suffisante.

202. Pour rechercher l'erreur qui se trouve dans les nombres des tables ordinaires, on observe que le sinus de  $18^\circ$  étant égal à la

moitié de la corde de la dixième partie de la circonférence, c.-à-d.  $= \frac{1}{2} Ab = \frac{1}{4} (\sqrt{5} - 1)$ ,

et le cosinus de  $45^\circ$  étant égal à  $\frac{1}{2} \sqrt{2}$ , l'équation  $\cos A' = 2 \sin A \cdot \cos 45^\circ - \frac{1}{2}$  (200) donne

$$\begin{aligned} \cos A' &= \frac{1}{4} \sqrt{2} (\sqrt{5} - 1) - \frac{1}{2} \\ &= \frac{1}{4} (\sqrt{10} - \sqrt{2}) - \frac{1}{2} = 0,0629839824. \end{aligned}$$

Puis, calculant aussi avec plus de chiffres le sinus de  $3^\circ 36' 40''$ , on trouve

$$0,062984061154,$$

et en se tenant à huit décimales, on trouve

$$\sin 3^\circ 36' 39'' = 0,06297921 :$$

la différence pour  $1''$  ou  $60'''$  est de 485 : donc si 485 donne  $60'''$ , 8 donnera  $\frac{96''}{97}$ , et par conséquent ne donnera pas une tierce entière ; donc l'arc qui a pour corde la distance  $aZ$ , n'excède pas d'une tierce entière  $93^\circ 36' 40''$ .

203. D'après cela, voici l'usage qu'on pourrait faire de cette valeur pour l'ancienne division du cercle. Il est clair qu'elle pourrait servir à diviser une minute en trois parties,

dans des cercles où l'on aurait marqué les minutes ; car on trouverait les  $40''$ , c'est-à-dire  $\frac{2'}{3}$  entre une minute et la suivante , et cela sans erreur d'une tierce. On peut encore l'employer pour trouver la troisième partie d'un degré. En effet, comme l'arc  $cBN = 90^\circ$ , et  $Np = 3^\circ$  (31, 43), si l'on prend  $BZ = Kp$ , alors on aura l'arc  $BZ = 18^\circ$  (32); du point  $c$  pris pour centre avec le rayon  $aZ$  soit décrit un arc, il coupera la circonférence entre  $p$  et  $P$  en un point distant de  $p$  de  $36'40''$  à très peu de chose près. Nommons  $\gamma$  ce point, et triplons, par exemple, l'arc  $N\gamma = 3^\circ 36'40''$ , nous aurons un arc  $= 10^\circ 50'$ , sans qu'il y ait une erreur de trois tierces, et si c'est de  $N$  vers  $G$  qu'on triple cet arc, la dernière division tombera entre  $\pi$  et  $\phi$ ; nommons  $\eta$  le point où elle tombe, de manière qu'on ait  $N\eta = 10^\circ 50'$ ; nommons ensuite  $\mu$  le point qui est à la moitié de l'arc  $\pi\phi$  obtenu par le n° 58, on aura l'arc  $\mu\eta = 20'$  sans qu'il y ait erreur de trois tierces, c'est-à-dire qu'on aura obtenu un tiers de degré de l'ancienne division avec une telle précision, que je ne crois pas qu'on en puisse désirer une plus grande dans la pratique.

204. Nous avons pris cet exemple parmi

toutes les valeurs de  $\cos A'$  calculées en introduisant successivement dans l'équation (1) au lieu de  $A$ , les arcs  $90^\circ$ ,  $88^\circ 30'$ ,  $87^\circ$ , et ainsi de suite jusqu'à  $0^\circ$ , puis  $-1^\circ 30'$ ,  $-3^\circ$ , etc., jusqu'à  $-19^\circ 30'$  inclusivement; au-delà de cet arc, l'équation (1) n'a plus lieu, parce que ses valeurs deviennent plus grandes que l'unité.

205. Nous allons maintenant continuer la recherche des autres équations.

Toute distance du point  $b$  des points de la circonférence qui sera plus petite que le diamètre 2, pourra être corde d'un arc. Nommons  $B'$  l'arc qui a pour corde la distance  $bZ$ ; on aura  $\frac{bZ}{2} = \sin \frac{1}{2} B'$ ; et nommant  $B$  l'arc  $BZ$ , on aura  $Zz = 2 \sin B$ , puis divisant par 4 l'équation (B) du n° 196, on aura

$$\sin \frac{1}{2} B' = \frac{1 - \cos B'}{2} (155) = \frac{5 - \sqrt{5}}{8} - \sin B \cdot \frac{\sqrt{5} - 1}{4};$$

d'où

$$\begin{aligned} \cos B' &= 1 - \left( \frac{5 - \sqrt{5}}{4} \right) - \sin B \cdot \frac{\sqrt{5} - 1}{2} \\ &= 1 - 2 \sin^2 36^\circ - 2 \sin B \cdot \sin 18^\circ \\ &= \cos 72^\circ - \cos(B - 18^\circ) + \cos(B + 18^\circ) (155, 158): \end{aligned}$$

donc on aura

$$(2) \cos B' = \sin 18^\circ + \cos(B + 18^\circ) - \cos(B - 18^\circ),$$



206. Pareillement, si l'on nomme  $E'$  l'arc qui a pour corde la distance  $eZ$ , et  $E$  l'arc  $BZ$ , l'équation (E) du n° 196 donnera

$$\sin^2 \frac{1}{2} E' = \frac{1 - \cos E'}{2} = \frac{3 - \sqrt{2}}{4} - \sin E \cdot \frac{\sqrt{(2 - \sqrt{2})}}{2};$$

d'où l'on tire

$$\begin{aligned} \cos E' &= \sqrt{\frac{1}{2} - \frac{1}{2} + 2 \sin E \cdot \frac{\sqrt{(2 - \sqrt{2})}}{2}} \\ &= \sin 45^\circ - \sin 30^\circ + 2 \sin E \sin 22^\circ 30'; \end{aligned}$$

et enfin,

$$\begin{aligned} (3) \quad \cos E' &= \sin 45^\circ - \sin 30^\circ \\ &+ \cos(E - 22^\circ 30') - \cos(E + 22^\circ 30'). \end{aligned}$$

207. Au moyen de ces trois équations, un arc  $A$ ,  $B$  ou  $E$  étant donné, on aura, avec les tables des sinus et cosinus naturels, et par de simples additions ou soustractions, les cosinus et les arcs  $A'$ ,  $B'$  et  $E'$ , qui ont pour cordes les distances  $aZ$ ,  $bZ$ ,  $eZ$ , que l'on trouvera être les mêmes, en doublant le sinus de la moitié des arcs  $A'$ ,  $B'$  et  $E'$ .

208. Réciproquement si la distance  $aZ$  est égale à une corde d'un arc connu  $A'$ , et si l'on cherche de quel arc  $Zz$  deviendra la corde, ou de combien de degrés deviendra l'arc  $BZ$  qui

en est la moitié, et est  $= A$  ; de l'équation (198)  
 $a^2 = 3 - 2 \sin A \sqrt{2}$ , on tirera

$$\sin A = \frac{3 - a^2}{2 \sqrt{2}} ;$$

et substituant la valeur de  $a^2 = 4 \sin^2 \frac{1}{2} A'$   
 $= 2 - 2 \cos A'$  (155), on aura

$$\begin{aligned} \sin A &= \frac{1}{2} \cdot \frac{1}{\sqrt{2}} + \cos A' \sqrt{\frac{1}{2}} \\ &= \sin 30^\circ \cdot \sin 45^\circ + \cos A' \sin 45^\circ ; \end{aligned}$$

et (156, 158) comme  $\sin(45^\circ + A') = \cos(45^\circ - A')$ ,  
on aura cette équation

$$(4) \sin A = \frac{1}{2} [\sin 45^\circ + \sin (45^\circ - A') \\ + \cos (45^\circ - A')].$$

209. De même, si l'on connaît l'arc  $B'$ , qui  
a pour corde la distance  $bZ$ , et si l'on cherche  
l'arc  $B = BZ$  par le moyen de  $Zz$ , qui est la  
corde de  $2B$ , en multipliant l'équation (B)  
du n° 196 par  $\sqrt{5} + 1$ , et à cause de  
 $(bB)^2 = \frac{5 - \sqrt{5}}{2}$ , et de  $Ab = \frac{1}{2}(\sqrt{5} - 1)$ , on  
aura

$$(bZ)^2 \cdot (\sqrt{5} + 1) = 2\sqrt{5} + 4 \sin B ;$$

et substituant pour  $(bZ)^2$  sa valeur

$$4 \sin^2 \frac{1}{2} B' = 2 - 2 \cos B' \quad (155),$$

on aura , après avoir fait les réductions ,

$$\sin B = \frac{1}{2} - 2 \cos B' \cdot \left( \frac{\sqrt{5} + 1}{4} \right).$$

Or  $Bb$  étant le côté du pentagone  $= \sqrt{\left( \frac{5 - \sqrt{5}}{2} \right)}$   
corde de  $72^\circ$ , sera

$$\frac{1}{2} \sqrt{\left( \frac{5 - \sqrt{5}}{2} \right)} = \sin 36^\circ ;$$

d'où

$$\frac{1}{4} \left( \frac{5 - \sqrt{5}}{2} \right) = \sin^2 36^\circ ;$$

or

$$\begin{aligned} 1 - \sin^2 36^\circ &= \cos^2 36^\circ = \sin^2 54^\circ \\ &= \frac{6 + 2\sqrt{5}}{16} = \left( \frac{\sqrt{5} + 1}{4} \right)^2 ; \end{aligned}$$

d'où l'on tirera

$$\sin B = \frac{1}{2} - 2 \cos B' \sin 54^\circ ;$$

et enfin (156)

$$(5) \sin B = \sin 30^\circ - \sin(54^\circ + B') - \sin(54^\circ - B').$$

210. De même si l'on connaît l'arc  $E'$ , qui a pour corde la distance  $eZ$ , et si l'on cherche

le degré de l'arc  $BZ = E$ , égal à la moitié de l'arc qui a pour corde  $Zz = \sin E$ , en substituant dans l'équation (E) du n° 196 pour  $(eZ)^2$  sa valeur  $2 - 2 \cos E'$ ; pour  $(eB)^2$  sa valeur  $3 - \sqrt{2}$ , et pour  $AE$  sa valeur  $\sqrt{(2 - \sqrt{2})} = 2 \sin 22^\circ 30'$  (198, 38), on aura

$$2 \sin E \sqrt{(2 - \sqrt{2})} = 2 \cos E' + 1 - \sqrt{2};$$

ce qui, en multipliant par  $\sqrt{(2 + \sqrt{2})} \sqrt{2}$ , donne

$$\begin{aligned} 4 \sin E &= 2 \cos E' \cdot \sqrt{2} \sqrt{(2 + \sqrt{2})} \\ &\quad - (\sqrt{2} - 1) \sqrt{2} \sqrt{(2 + \sqrt{2})} \\ &= 2 \cos E' \sqrt{(2 + \sqrt{2})} \sqrt{2} - (2 - \sqrt{2}) \sqrt{(2 + \sqrt{2})} \\ &= 2 \cos E' \sqrt{(2 + \sqrt{2})} \sqrt{2} - \sqrt{(2 - \sqrt{2})} \sqrt{2}; \end{aligned}$$

puis divisant par 4, et considérant que l'on a  $\sqrt{(2 + \sqrt{2})} = 2 \sin 67^\circ 30'$  (37) et  $\sqrt{2} = 2 \sin 45^\circ$ , on aura (156, 157, 158)

$$\begin{aligned} \sin E &= 2 \cos E' \sin 67^\circ 30' \sin 45^\circ \\ &\quad - \sin 22^\circ 30' \sin 45^\circ, \\ \text{ou } \sin E &= \cos E' [\cos(67^\circ 30' - 45^\circ) \\ &\quad - \cos(67^\circ 30' + 45^\circ)] - \sin 22^\circ 30' \sin 45^\circ; \end{aligned}$$

ou bien

$$\begin{aligned} \sin E &= \cos E' \cos 22^\circ 30' \\ &\quad + \cos E' \sin 22^\circ 30' - \sin 22^\circ 30' \sin 45^\circ; \end{aligned}$$

ou enfin

$$(6) \sin E = \frac{1}{2} \left\{ \begin{array}{l} \cos(E' + 22^\circ 30') + \sin(E' + 22^\circ 30') \\ + \sin 22^\circ 30' + \cos(E' - 22^\circ 30') \\ - \sin(E' - 22^\circ 30') - \cos 22^\circ 30' \end{array} \right\}.$$

211. Ainsi des trois équations (A), (B) et (E), nous en avons tiré six au moyen desquelles des arcs étant donnés, nous pourrons en obtenir de nouveaux, ainsi que leurs nouvelles cordes, à l'aide des trois seuls points *a*, *b* et *e*.

212. Comme il peut y avoir une infinité d'arcs, chacune de ces équations donne une infinité de solutions. Mais si l'on ne veut avoir la valeur que des arcs que l'on peut trouver par le moyen des mêmes points *a*, *b* et *e*, on en trouvera 120 pour chaque équation, quand il n'y aura de limites particulières pour aucune d'elles. En effet, on pourra, par le moyen de ces trois points, diviser la circonférence en 240 parties égales (57), et par conséquent la demi-circonférence en 120; on aura donc 60 points *Z* et 60 points *z*, qui, pris ensemble, détermineront 120 cas pour chaque équation; mais quelqueune d'elles aura des limites particulières.

213. Si l'on voulait prendre avec le compas, par exemple, la corde de 3°, c'est-à-dire de

la cent-vingtième partie de la circonférence (42), et décrire un arc en plaçant en  $a$  la pointe du compas, cet arc ne pourrait couper la circonférence en aucun point  $Z$ , attendu que sa corde est plus petite que la distance  $aF = \sqrt{2} - 1$ . On ne pourra donc pas dans l'équation (4) mettre au lieu de  $A'$  l'arc de  $3^\circ$ , et si l'on veut le faire, on trouvera pour  $\sin A$  une valeur plus grande que l'unité, c'est-à-dire une valeur absurde. Pour voir quel est le premier arc qu'on pourra mettre à la place de  $A'$  entre les arcs de la série  $1^\circ 30'$ ,  $3^\circ$ ,  $4^\circ 30'$ , etc., on observera quel est l'arc qui a pour corde la distance  $aF$ , qui est la plus petite entre le point  $a$  et le cercle, et qui est égale à  $\sqrt{2} - 1 = 2\left(\sin 45^\circ - \frac{1}{2}\right) = 0,4142136 = \text{corde } 23^\circ 54' \frac{976}{2846}$ . Donc le premier arc qu'on puisse employer de ceux qu'on trouve par le moyen des trois points  $a$ ,  $b$  et  $e$  sera celui de  $24^\circ$ . Après cet arc, on pourra employer tous les autres arcs de la suite  $25^\circ 30'$ ,  $27^\circ$ ,  $29^\circ 30'$  jusqu'à  $180^\circ$ ; car les cordes de tous ces arcs peuvent être des distances du point  $a$  à quelque point  $Z$  ou  $z$  de la circonférence.

214. Les équations (5) et (6) sont plus limitées; car dans l'équation (5) on ne peut pas

employer les arcs  $B'$  dont la corde est plus petite que  $bf$  ou plus grande que  $bF$  : de même l'équation (6) n'admet aucun des arcs  $E'$  dont la corde est plus petite que  $eF$  et plus grande que  $ef$ .

215. Nous verrons dans la suite dans quel cas on peut se servir avantageusement de quelques-unes de ces valeurs pour la division du cercle ou pour quelque autre problème qu'on ne peut résoudre que par approximation, en choisissant celles qui approchent le plus de la valeur qu'on cherche, et se déterminent en même temps par des sections d'arcs qui diffèrent moins de l'angle droit.

216. Pourtant, afin de retirer tous les avantages possibles de trois points  $a$ ,  $b$  et  $c$  sans en introduire de nouveaux, des trois équations (A), (B) et (E) nous en tirerons six autres pour avoir de nouvelles valeurs d'arcs et de cordes.

217. Soit  $BZ$  un arc connu, par exemple, un de ceux qu'on obtient par les problèmes du livre second, et nommons  $B$  cet arc ; on prendra avec le compas la distance  $bZ$ , qu'on portera de  $a$  à quelque autre point  $Z'$  qui détermine un autre arc  $BZ' = \Lambda$ , et comparant les deux équations (A) et (B), on en tirera une

nouvelle équation qui fait connaître sa valeur. En effet, si dans ces deux équations on fait  $bZ = aZ'$ , en faisant dans la première (A)  $Zz = 2 \sin A$ , puis dans la seconde (B)  $Zz = 2 \sin B$ , on aura

$$(aB)^2 - 2 \sin A \cdot Aa = (bB)^2 + 2 \sin B \cdot Ab,$$

ou bien (198)

$$3 - 2 \sin A \cdot \sqrt{2} = \frac{5 - \sqrt{5}}{2} + \sin B (\sqrt{5} - 1);$$

et dégageant  $\sin A$ , on aura

$$\begin{aligned} \sin A &= \frac{\sqrt{5} + 1}{4} \sqrt{\frac{1}{2}} - 2 \sin B \cdot \frac{\sqrt{5} - 1}{4} \sqrt{\frac{1}{2}} \\ &= \sin 54^\circ \sin 45^\circ - 2 \sin B \cdot \sin 18^\circ \sin 45^\circ \quad (209) \\ &= \frac{1}{2} (\cos 9^\circ + \sin 9^\circ) - \sin B (\cos 27^\circ - \sin 27^\circ) \quad (158); \\ &\text{d'où (155 et suiv.)} \end{aligned}$$

$$(7) \sin A = \frac{1}{2} \left\{ \begin{array}{l} \cos 9^\circ + \sin 9^\circ \\ + \cos(B - 27^\circ) - \sin(B - 27^\circ) \\ - \cos(B - 63^\circ) + \sin(B - 63^\circ) \end{array} \right\}.$$

218. On ne pourra pas non plus prendre ici pour  $B$  tous les arcs, mais seulement ceux qui donnent une distance  $bZ$  ou  $bz$  qui ne soit pas plus petite que  $aF$ .

219. Maintenant soit connu un arc  $BZ$  que l'on nomme  $A$ ; si l'on porte la distance  $aZ$



prise avec le compas, de  $b$  à quelque autre point  $Z'$  de la même circonférence, qui détermine l'arc  $BZ' = B$ , on connaîtra cet arc  $B$ , et si l'on veut sa corde, en dégagant  $\sin B$  de l'équation (217),

$$\sin A = \frac{\sqrt{5+1}}{4} \cdot \sqrt{\frac{1}{2}} - 2 \sin B \cdot \frac{\sqrt{5-1}}{4} \cdot \sqrt{\frac{1}{2}}.$$

Multipliant cette équation par le facteur  $2(\sqrt{5+1})\sqrt{2}$ , on aura

$$2 \sin A (\sqrt{5+1}) \sqrt{2} = 3 + \sqrt{5} - 4 \sin B;$$

d'où l'on tire

$$\begin{aligned} \sin B &= \frac{3 + \sqrt{5}}{4} - 4 \sin A \cdot \frac{\sqrt{5+1}}{4} \cdot \sqrt{\frac{1}{2}} \\ &= 2 \sin^2 54^\circ - 4 \sin A \sin 54^\circ \sin 45^\circ \quad (209); \end{aligned}$$

et traitant comme ci-dessus les équations (155 et suiv.), on aura enfin

$$\begin{aligned} (8) \quad \sin B &= 1 + \sin 18^\circ - \sin(A + 9^\circ) \\ &+ \cos(A + 9^\circ) - \sin(A - 9^\circ) - \cos(A - 9^\circ). \end{aligned}$$

**220.** On ne pourra pas dans cette équation (8) employer pour  $A$  les arcs  $BZ$  qui donnent une distance  $aZ$  plus grande que  $bF$ .

**221.** Actuellement, si dans l'équation (A) du n° 196 on fait  $Zz = 2 \sin A$ , et dans l'équation (E) une autre distance  $Zz = 2 \sin E$ , en

faisant en outre dans ces deux équations  $(aZ)^2 = (eZ)^2$ , on aura, après les substitutions nécessaires (198),

$$3 - 2 \sin A \cdot \sqrt{2} = 3 - \sqrt{2} - 2 \sin E \sqrt{(2-2)};$$

$$\sin A = \frac{1}{2} + 2 \sin E \cdot \frac{\sqrt{(2-\sqrt{2})}}{2} \cdot \sqrt{\frac{1}{2}}$$

$$= \frac{1}{2} + 2 \sin E \sin 22^\circ 30' \quad \sin 45^\circ, \text{ et (158)}$$

$$= \frac{1}{2} + \sin E \cos 22^\circ 30' - \sin E \sin 22^\circ 30';$$

d'où enfin (156, 158)

$$(9) \sin A = \frac{1}{2} \left\{ \begin{array}{l} \sin (E + 22^\circ 30') \\ + \cos (E + 22^\circ 30') \\ + \sin (E - 22^\circ 30') \\ - \cos (E - 22^\circ 30') \end{array} \right\}.$$

**222.** On peut encore trouver cette neuvième équation d'une autre manière pour rendre le calcul plus facile par le moyen des sinus et cosinus artificiels que l'on trouve dans les tables de dix en dix secondes. C'est pourquoi comme on a

$$\begin{aligned}
 \sin A &= \frac{1}{2} \sqrt{2} + \sin E \frac{\sqrt{(2-\sqrt{2})}}{2} \cdot \sqrt{\frac{1}{2}} \\
 &= \left( \frac{1}{\sqrt{(4-2\sqrt{2})}} + \sin E \right) \frac{\sqrt{(4-2\sqrt{2})}}{2} \\
 &= \frac{\left( \frac{(2+\sqrt{2})}{2} + \sin E \right) \frac{\sqrt{(2-\sqrt{2})}}{2}}{\sqrt{\frac{1}{2}}} \\
 &= (\sin 67^{\circ} 30' + \sin E) \frac{\sin 22^{\circ} 30'}{\sin 45^{\circ}} \quad (37);
 \end{aligned}$$

et faisant  $67^{\circ} 30' = p$ ,  $E = q$ , on aura (156)

$$(9 \text{ bis}) \sin A = \frac{\sin \frac{67^{\circ} 30' + E}{2} \cos \frac{67^{\circ} 30' - E}{2}}{\cos 22^{\circ} 30'};$$

équation qu'il sera facile de calculer par le moyen des logarithmes des sinus et des cosinus.

**223.** Si donc on prend avec le compas une distance du point  $e$  à un point quelconque  $Z$ , extrémité d'un arc connu  $BZ = E$ , et qu'on la porte du point  $a$  à quelque autre point  $Z'$  de la circonférence, on connaîtra le nouvel arc  $BZ' = A$  par le moyen de l'équation (9) ou de celle (9 bis). Ces équations auront leurs limites, puisque l'arc  $BZ$  devra être tel que la distance  $eZ$  ne soit pas plus petite que  $aF$ .

224. On a trouvé (221)

$$2 \sin A \sqrt{2} - \sqrt{2} + 2 \sin E \cdot \sqrt{(2 - \sqrt{2})};$$

multipliant cette équation par  $\frac{\sqrt{(2 + \sqrt{2})}}{\sqrt{2}}$ , on aura

$$2 \sin A \sqrt{(2 + \sqrt{2})} = \sqrt{(2 + \sqrt{2})} + 2 \sin E;$$

d'où

$$\begin{aligned} \sin E &= 2 \sin A \cdot \frac{\sqrt{(2 + \sqrt{2})}}{2} - \frac{\sqrt{(2 + \sqrt{2})}}{2} \\ &= 2 \sin A \cdot \sin 67^{\circ} 30' - \sin 67^{\circ} 30' \quad (37); \end{aligned}$$

d'où (158)

$$\begin{aligned} (10) \sin E &= \cos(A - 67^{\circ} 30') - \cos(A + 67^{\circ} 30') \\ &\quad - \sin 67^{\circ} 30'. \end{aligned}$$

225. On peut encore préparer autrement cette équation pour la rendre soluble par l'usage des logarithmes. En effet, puisqu'on a

$$\begin{aligned} \sin E &= 2 \sin \left( A - \frac{1}{2} \right) \frac{\sqrt{(2 + \sqrt{2})}}{2} \\ &= 2 (\sin A + \sin - 30^{\circ}) \sin 67^{\circ} 30' \end{aligned}$$

en faisant  $A = p$ ,  $- 30^{\circ} = q$ , on aura (156)

$$(10) \sin E = 4 \sin \frac{A - 30^{\circ}}{2} \cos \frac{A + 30^{\circ}}{2} \sin 67^{\circ} 30'.$$

226. Il est évident que cette dixième équation

tion aura aussi ses limites, puisque l'on ne pourra pas y introduire toutes les valeurs de l'arc  $BZ$  ou  $Bz \pm A$ , qui donneraient la distance  $aZ$  plus grande que  $ef$ .

227. Enfin on peut de la comparaison de l'équation (B) avec celle (E) tirer deux autres équations. Car si l'on porte une distance du point  $e$  à un point quelconque  $Z$  de la circonférence, qui soit l'extrémité d'un arc connu  $BZ = E$ , et que du point  $b$  comme centre et de cette distance  $eZ$  prise pour rayon on décrive un arc qui coupe la circonférence en quelque autre point  $Z'$  qui détermine l'arc  $BZ' = B$ , on connaîtra cet arc au moyen de son sinus de la manière suivante : soit fait dans l'équation (B) du n° 196,  $Zz = 2 \sin B$ , dans celle (E)  $Zz = 2 \sin E$ , et dans toutes les deux  $bZ = eZ$ , on aura, après avoir fait les substitutions nécessaires (198),

$$\frac{5 - \sqrt{5}}{2} + \sin B(\sqrt{5} - 1) = 3 - \sqrt{2} - 2 \sin E \sqrt{(2 - \sqrt{2})};$$

d'où l'on tire

$$2 \sin B(\sqrt{5} - 1) = \sqrt{5} + 1 - 2\sqrt{2} - 4 \sin E \sqrt{(2 - \sqrt{2})};$$

et multipliant les deux membres de l'équation

par  $\frac{\sqrt{5} + 1}{8}$ , on aura

$$\begin{aligned} \sin B &= \frac{3 + \sqrt{5}}{4} - \frac{\sqrt{5} + 1}{2} \cdot \sqrt{\frac{1}{2}} \\ &= 4 \sin E \frac{\sqrt{(2 - \sqrt{2})}}{2} \cdot \frac{\sqrt{5} + 1}{4} \\ &= 2 \sin^{\circ} 54^{\circ} - 2 \sin 54^{\circ} \sin 45^{\circ} \\ &= 4 \sin E \sin 22^{\circ} 30' \sin 54^{\circ} \quad (209); \end{aligned}$$

d'où l'on tire (158)

$$\begin{aligned} \sin B &= 1 - \cos 108^{\circ} - \cos 9^{\circ} - \sin 9^{\circ} \\ &= 2 \sin E (\cos 31^{\circ} 30' - \cos 76^{\circ} 30'); \end{aligned}$$

et par conséquent (156)

$$\begin{aligned} (11) \quad \sin B &= 1 + \sin 18^{\circ} - \cos 9^{\circ} - \sin 9^{\circ} \\ &= \sin (E + 31^{\circ} 30') - \sin (E - 31^{\circ} 30') \\ &+ \sin (E + 76^{\circ} 30') + \sin (E - 76^{\circ} 30'). \end{aligned}$$

228. L'équation (11) aura aussi des limites de deux côtés; car la distance la plus petite  $eF = 1 - \sqrt{(2 - \sqrt{2})}$  est moindre que celle  $bf = 1 - \frac{1}{2}(\sqrt{5} - 1)$ , et la plus grande  $ef$  est plus grande que  $bF$ .

229. Si l'on multiplie par  $\frac{\sqrt{(2 + \sqrt{2})}}{4\sqrt{2}}$  l'équation

$$2 \sin B (\sqrt{5} - 1) = \sqrt{5} + 1 - 2\sqrt{2} - 4 \sin E \sqrt{(2 - \sqrt{2})}$$

que l'on a trouvée plus haut (227), on aura

$$\begin{aligned}
\sin E &= 2 \frac{\sqrt{5+1}}{4} \cdot \frac{\sqrt{(2+\sqrt{2})}}{2} \cdot \sqrt{\frac{1}{2}} - \frac{\sqrt{(2+\sqrt{2})}}{2} \\
&- 4 \sin B \frac{\sqrt{5-1}}{4} \cdot \frac{\sqrt{(2+\sqrt{2})}}{2} \cdot \sqrt{\frac{1}{2}} \\
&= 2 \sin 54^\circ \sin 67^\circ 30' \sin 45^\circ - \sin 67^\circ 30' \\
&\quad - 4 \sin B \sin 18^\circ \sin 67^\circ 30' \sin 45^\circ \\
&= \sin 67^\circ 30' (\cos 9^\circ + \sin 9^\circ) - \sin 67^\circ 30' \\
&\quad - 2 \sin B \sin 67^\circ 30' (\cos 27^\circ - \sin 27^\circ) \\
&= \frac{1}{2} (\sin 76^\circ 30' - \cos 76^\circ 30' \\
&\quad + \sin 58^\circ 30' + \cos 58^\circ 30') \\
&\quad - \sin 67^\circ 30' - \sin B (\sin 85^\circ 30' \\
&\quad + \sin 40^\circ 30' - \cos 40^\circ 30' - \cos 85^\circ 30');
\end{aligned}$$

d'où on a enfin

$$\begin{aligned}
(12) \sin E &= \frac{1}{2} \left\{ \begin{array}{l} \sin 76^\circ 30' - \cos 76^\circ 30' \\ + \sin 58^\circ 30' + \cos 58^\circ 30' \end{array} \right\} - \sin 67^\circ 30', \\
&- \frac{1}{2} \left\{ \begin{array}{l} \cos (85^\circ 30' - B) + \sin (85^\circ 30' - B) \\ - \cos (85^\circ 30' + B) - \sin (85^\circ 30' + B) \\ + \cos (40^\circ 30' - B) + \sin (40^\circ 30' - B) \\ - \cos (40^\circ 30' + B) - \sin (40^\circ 30' + B) \end{array} \right\},
\end{aligned}$$

équation qui n'a pas de limites.

230. Si par hasard quelque'une des valeurs qu'on trouve avec ces douze équations est au premier abord très approchante de quelque valeur utile et cherchée dans la solution des problèmes, on aura l'avantage de parvenir au même but par un moyen très simple; car on

n'aura à employer d'autres points pris hors de la circonférence que les trois seuls points  $a$ ,  $b$  et  $e$  que l'on a déjà remarqués tant de fois, et dans la circonférence quelqu'un de ceux qui servent à la division exacte de la circonférence par le moyen des solutions des problèmes du livre second. Nous allons actuellement donner quelques exemples.

231. Nous verrons d'abord comment on peut diviser le cercle à l'ancienne manière en degrés et minutes, sans erreur d'une seconde. Pour cela, nous supposerons que la circonférence du cercle  $BDd$  (*fig. 12*) est divisée en deux cent quarante parties (57, 58), dont chacune, comme  $P\delta$ , contient  $1^{\circ}30'$ , que l'on commence à compter les quantités positives de  $B$  vers  $F$ , et de même les quantités négatives de  $B$  vers  $f$ , et que les points  $Z$  et  $Z'$  sont des points vagues soumis pour le moment à la seule condition de se trouver, savoir : les points  $Z$  et  $Z'$  entre  $B$  et  $F$  sur la circonférence, et les points  $z$  et  $z'$  entre les points  $B$  et  $f$ . Nous en agissons ainsi pour éviter le trop grand nombre de figures dont on aurait besoin si l'on en répétait une pour chaque problème. D'ailleurs, la petitesse des divisions les laisserait à peine apercevoir même



dans une figure beaucoup plus grande que la figure 12.

## PROBLÈME.

**232.** *Trouver (fig. 12) l'arc d'un degré de l'ancienne division, ou de  $1^\circ$  sans erreur d'une demi-seconde.*

*I<sup>re</sup> Solution.* Soit l'arc  $Bz = -55^\circ 30'$  (231). Prenez avec le compas la distance  $bz$ , et du point  $e$  comme centre décrivez un arc qui coupe la circonférence en un point  $Z$ ; on aura l'arc  $BZ = 52^\circ 59' \frac{1739}{1751}$ , c'est-à-dire de  $53^\circ$  sans qu'il y manque vingt-cinq tierces. On a ensuite dans les divisions de  $B$  vers  $F$  exécutées par le problème du n° 42, l'arc de  $54^\circ = \frac{18}{120}$ . On aura donc aussi l'arc  $54^\circ - 53^\circ = 1^\circ$  avec l'approximation demandée.

*Démonstration.* Si dans l'équation (12) on fait  $B = -55^\circ 30'$ , on trouve à la fin du calcul  $\sin E = 0,7986343 = \sin 52^\circ 59' \frac{1739}{1751}$ .

*II<sup>e</sup> Solution.* Soit l'arc  $BZ = 10^\circ 30'$ ; du centre  $a$  et avec la distance  $bZ$  prise pour rayon décrivez un arc qui coupe la circonfé-

rence en un autre point  $Z'$ ; on aura l'arc  $BZ' = 29^\circ 29' \frac{2511}{2532}$ , c'est-à-dire  $= 29^\circ 30'$ , sans erreur d'une demi-seconde. On trouve ensuite dans les divisions du cercle faites au n° 58 l'arc de  $28^\circ 30' = \frac{19}{240}$  de la circonférence. Donc on aura la différence des deux arcs égale à  $1^\circ$  avec l'approximation demandée.

*Démonstration.* Si dans l'équation (7) on fait  $B = 10^\circ 30'$ , on trouvera à la fin du calcul

$$\sin A = 0,4924215 = \sin 29^\circ 29' \frac{2511}{2532} :$$

donc les arcs ne différeront pas de  $29''$  de la valeur d'un degré.

233. Cette seconde solution est moins approchée que la première de  $5'''$ , mais les sections des arcs s'y font sous un angle qui diffère moins de l'angle droit.

234. Puisqu'on a l'arc de  $1^\circ 30'$  (225), et qu'on a trouvé (226) l'arc de  $1^\circ$ , on aura aussi en soustrayant l'un de l'autre l'arc de  $30'$ , ou le demi-degré, et par conséquent on aura la manière de diviser toute la circonférence en demi-degrés sans accumulation d'erreurs, et sans qu'aucun point soit éloigné d'une demi-seconde de sa véritable situation.

## PROBLÈME

235. *Trouver l'arc d'un quart de degré ou de 15', sans erreur d'une tierce.*

*Solution.* Soit l'arc  $Bz = -12^\circ$ , la distance  $ez$  sera égale à la corde de  $87^\circ 15'$ ; d'un rayon égal à cette distance prise avec le compas et du point  $B$  comme centre, coupez l'arc  $BF$  en un point  $Z'$ ; on aura l'arc  $BZ' = 87^\circ 15'$ . On a de plus, par les divisions du cercle faites au n° 42, l'arc de  $87^\circ = \frac{29}{120}$  de la circonférence. On aura donc la différence de ces deux arcs  $= 15'$ .

*Démonstration.* Si dans l'équation (3) (206)

$$\cos E' = \sin 45^\circ - \sin 30^\circ + \cos (E - 22^\circ 30')$$

$$- \cos (E + 22^\circ 30'),$$

on fait  $E = -12^\circ$ , on aura

$$\begin{aligned} \sin 45^\circ - \sin 30^\circ &= 0,2071068 \\ \cos -34^\circ 30' &= 0,8241262 \\ -\cos 10^\circ 30' &= -1,0167451 \\ \hline \cos E' &= 0,0479781. \end{aligned}$$

Or dans les tables qui donnent les sinus na-

turels avec sept chiffres, on trouve  $0,0479781 = \cos 87^\circ 15'$ , sans aucune différence même dans le dernier chiffre. En employant ensuite plus de décimales, on trouve

$$\begin{aligned}\cos E' &= 0,0479780622, \\ \cos 87^\circ 15' &= 0,047978128520;\end{aligned}$$

et ne prenant que huit décimales, on a

$$\cos 87^\circ 15' 1'' = 0,04797229.$$

On a donc pour  $1''$  la différence 584. Or si 584 donne  $60'''$  de différence, 7 donnera  $\frac{105}{146}$  de tierce. On aura donc l'arc  $E'$ , qui a pour corde la distance  $eZ'$ ,  $= 87^\circ 15'$  avec une erreur plus petite que  $1'''$ .

**236.** On pourra, par le moyen de ce problème, diviser la circonférence en 1440 parties, c'est-à-dire en 1440 quarts de degrés, sans qu'il y ait en aucun point de division une erreur de trois tierces; car si l'on fait sur chaque arc  $P\delta$  de  $1^\circ 30'$ , trois divisions de 15 en 15' de  $P$  vers  $\delta$  et deux de  $\delta$  vers  $P$ , l'arc  $P\delta$  se trouvera divisé en six parties, dont chacune sera d'un quart de degré, sans qu'il y ait erreur de  $1'''$  dans la position d'aucun point de division; il en sera de même pour le reste

de la circonférence. D'après cela, nous supposons dorénavant la circonférence divisée en degrés et quarts de degrés, en les considérant comme exacts, afin de simplifier le calcul. On pourra, quand on voudra, tenir compte des erreurs.

## PROBLÈME.

237. *Trouver un arc de 10' ou la sixième partie d'un degré, sans erreur de 10''' ou de la sixième partie d'une seconde.*

*Solution.* Soit l'arc  $Bz = -49^{\circ}30'$ ; la distance  $bz$  sera égale à la corde de l'arc de  $38^{\circ}50'$ , sans erreur de  $10'''$ ; puis soustrayant l'arc de  $38^{\circ}50'$  de celui de  $39^{\circ} = \frac{13}{120}$  de la circonférence qu'on a par le n° 42, on aura l'arc de  $10'$ .

*Démonstration.* Si dans l'équation (2) on fait  $B = -49^{\circ}30'$ , elle deviendra

$$\cos B' = 0,7789738 = \cos 38^{\circ}49' \frac{1819}{1824};$$

on a donc  $B' = 38^{\circ}50'$  à moins de  $9'''$  près.

238. Soustrayant d'un arc de  $50'$  auquel manquent  $9'''$  un arc de  $45'$  (236) auquel il manque quelques tierces, on aura l'arc de  $5'$

ou la douzième partie d'un degré, sans qu'il y ait une erreur de 9<sup>'''</sup>.

## PROBLÈME.

239. Trouver l'arc de 6' ou un dixième de degré, sans erreur de 13<sup>'''</sup>.

*Solution.* Soit l'arc  $Bz = 45^\circ$ , c'est-à-dire soit l'arc  $BG$ ; du point  $b$  comme centre et avec la distance  $BG$  prise pour rayon soit décrit un arc qui coupe la circonférence en  $z$ ; on aura, sans erreur de 13<sup>'''</sup>, l'arc  $Bz = 40^\circ 6'$ .

et soustrayant (236) l'arc de... —  $40^\circ$

on aura pour reste l'arc de...  $6'$ .

*Démonstration.* Si dans l'équation (5) on fait  $B' = 45^\circ$ , elle deviendra

$$\sin B = 0,6441228 = \sin 40^\circ 5' \frac{2217}{2225}$$

On aura donc l'arc  $B = Bz = 40^\circ 6'$ , à moins de 12<sup>'''</sup> près.

240. Soustrayant de l'arc de 6' (239) l'arc de 5' (238), l'arc restant sera de 1' avec une erreur de quelques tierces. Mais on peut trouver immédiatement cet arc par le problème suivant.

## PROBLÈME.

241. Trouver immédiatement l'arc de 1', sans erreur de 22'''.

*Solution.* Soit l'arc  $Bz = -27^\circ$ ; du point  $e$  comme centre et avec un rayon égal à la distance  $bz$ , prise avec le compas, soit coupée la circonférence en  $Z$ . On aura l'arc  $BZ = 29^\circ 59'$  avec un excès de  $10'''$ : donc l'arc  $BN$  étant de  $30^\circ$  (31), l'arc  $ZN$  sera de 1' avec  $10'''$  de moins.

*Démonstration.* Si dans l'équation (12) on fait  $B = -27^\circ$ , on aura

$$\sin E = 0,4997496 = \sin 29^\circ 59' \frac{15}{2519} :$$

donc, etc.

## PROBLÈME.

242. Trouver l'arc de 9', sans qu'il y ait erreur de 7'''.

*Solution.* Du point  $e$  comme centre avec la distance  $bK$  prise pour rayon soit décrit un arc qui coupe la circonférence en  $z$ ; on

aura l'arc  $Bz = -4^{\circ} 21'$  avec un excédant de  $6'''$ , lequel, soustrait de  $-4^{\circ} 30'$ , donne pour reste  $9'$ , sans erreur de  $7'''$ .

*Démonstration.* Si dans l'équation (12) on fait  $B = 15^{\circ} = BK$  (32), on aura

$$\sin E = -0,0758494 = \sin -4^{\circ} 21' \frac{5}{2901} :$$

donc l'arc  $Bz = -4^{\circ} 21' 0'' 6'''$ .

Ce problème servira encore à la nouvelle division du cercle, ainsi que nous le verrons ci-après (256).

243. L'arc de  $15'$  manquant de moins de  $1'''$  (235), celui de  $10'$  excédant de moins de  $10'''$  (237), celui de  $6'$  manquant de moins de  $13'''$  (239), celui de  $1'$  . . . . . de moins de  $22'''$  (241), et celui de  $9'$  . . . . . de moins de  $7'''$  (242), on pourra les combiner par addition ou soustraction, sans accumuler beaucoup les erreurs, de manière qu'à la fin toute la circonférence se trouve divisée en degrés et minutes, sans autre erreur que de très peu de tierces. En effet, en doublant, par exemple, l'arc de  $9'$ , on aura un arc de  $18'$  à moins de  $14'''$  près; et soustrayant de cet arc celui de  $6'$  approché à moins de  $13'''$ , on aura l'arc de  $12'$  à moins



d'environ  $1''$ . Soustrayant maintenant cet arc de celui de  $15'$  approché à moins d'une tierce (235), on aura l'arc de  $3'$  avec à peine une erreur d'une tierce. Par ce moyen on pourra diviser en cinq parties chaque arc de  $15'$ , et toute la circonférence se trouvera divisée de trois en trois minutes avec une erreur moindre de six tierces sur cette dernière division ; erreur qui deviendra encore moindre, si on la porte en sens contraire de celle de trois tierces au plus qu'on commet dans la division de  $15'$  en  $15'$  (235). Puis employant l'arc de  $1'$  qui a  $4''$  de moins (240) à diviser chaque arc de  $3'$ , on ne commettra plus une erreur de  $10''$ , et l'on aura divisé la circonférence en degrés et minutes.

On pourrait aussi combiner ces arcs ou d'autres tirés des douze équations précédentes, de manière que l'on parvînt à commettre de moindres erreurs, et nous emploierions pour cela quelques problèmes, si d'un côté la division du cercle en  $360^\circ$  ne devait pas avec le temps cesser d'être employée, et si d'ailleurs nous croyions que les artistes qui voudraient continuer à s'en servir trouvassent ces recherches avantageuses pour la pratique. Nous ne croyons pourtant pas devoir omettre les

problèmes suivans , dans la solution desquels nous supposerons que le cercle entier est divisé en anciens degrés et minutes que , pour la simplicité du calcul , nous considérerons comme exacts.

## PROBLÈME.

244. *Trouver l'arc de 20'' ou un tiers de minute , qui ait à peine 1''' de trop.*

*I<sup>re</sup> Solution.* On trouve (201) l'arc de 40'' avec moins d'une tierce de trop; donc aussi l'arc de 20'', complément d'une minute, n'a pas tout-à-fait 1''' de moins.

*II<sup>e</sup> Solution.* Du point *e* comme centre et avec un rayon égal à la corde de l'arc de 61°30' prise avec le compas, soit coupée la circonférence en *Z*; on aura l'arc  $BZ = 20^{\circ} 39' 40''$  avec à peine une tierce de trop; puis soustrayant cet arc de celui de 20°40', l'arc restant sera de 20'' avec à peine 1''' de moins.

*Démonstration.* Si dans l'équation (6) on fait  $E' = 61^{\circ} 30'$ , en employant de plus grandes tables de sinus, on aura

$$\sin BZ = \sin E = 0,35283991 ;$$

on a ensuite

$$\sin 20^{\circ} 39' 40'' = 0,35283984.$$

Or

$$\log 0,3528399 = 9,5475777$$

$$\log \sin 20^{\circ} 39' 40'' = 9,5475776$$

$$\log \sin 20^{\circ} 39' 50'' = 9,5476334$$

$$\text{différence} = 558.$$

Donc E surpassera l'arc  $20^{\circ} 39' 40''$  de  $\frac{10}{558}$  environ, c'est-à-dire de  $1''$  et un peu plus.

#### PROBLÈME.

**245.** *Trouver l'arc de  $15''$  ou un quart de minute à moins de  $10'''$  près, ou environ.*

*Solution.* Du point *e* comme centre avec un rayon égal à la corde de  $31^{\circ} 30'$  prise avec le compas soit coupée la circonférence en un point *Z*; on aura l'arc  $BZ = 57^{\circ} 30' 15''$  à  $9'''$  de moins près.

*Démonstration.* Si dans l'équation (6) on fait  $E' = 31^{\circ} 30'$ , on trouvera  $E = 57^{\circ} 30' \frac{386}{1563}$ ; mais on a  $\frac{390}{1563} = \frac{1}{4}$ : donc ce qui lui manque est de  $\frac{4}{1563}$  environ, c'est-à-dire d'environ  $10'''$ .

## PROBLÈME.

**246.** *Trouver l'arc de 12'' ou un cinquième de minute, à 1''' de moins près, ou environ.*

*Solution.* Soit  $Bz = - 10^{\circ} 30'$ ; du point  $a$  comme centre et d'un rayon égal à la distance  $bz$  prise avec le compas soit coupée la circonférence en  $Z$ ; on aura l'arc  $BZ = 40^{\circ} 40' 12''$  avec environ 1''' de moins.

*Démonstration.* Si dans l'équation (7) on fait  $B = - 10^{\circ} 30'$ , on trouvera par le calcul  $A = 40^{\circ} 40' \frac{440}{2206}$ . Or on a  $\frac{441}{2206} = \frac{1}{5}$ : on a donc en moins une erreur de  $\frac{1}{2206}$ , c'est-à-dire de 1''' environ.

Si l'on avait fait le calcul avec de plus grandes tables, on aurait relevé l'erreur avec plus de précision.

## PROBLÈME.

**247.** *Trouver l'arc de 10'' ou un sixième de minute qui surpasse d'environ 1'''.*

*Solution.* Soit l'arc  $Bz = - 24^{\circ}$ . Du point  $a$

comme centre et d'un rayon égal à la distance  $eZ$  prise avec le compas soit décrit un arc qui coupe la circonférence en  $Z$ ; on aura l'arc  $BZ = 16^{\circ}15'10''$  avec l'approximation demandée.

*Démonstration.* Si dans l'équation (9) on fait  $E = -24^{\circ}$ , on trouvera pour résultat

$$\log \sin A = 9,4469652.$$

Ce logarithme se trouve être celui du sinus de  $16^{\circ}15'10'' \frac{20}{722}$ ; donc l'excès ne va pas à deux tierces.

## PROBLÈME.

**248.** *Trouver l'arc de 5'' ou d'un douzième de minute avec une erreur inappréciable par les tables ordinaires et moindre que 2'''.*

*I<sup>re</sup> Solution.* Soit l'arc  $BZ = 4^{\circ}30'$ ; du point  $a$  comme centre avec un rayon égal à la distance  $eZ$  prise avec le compas, soit décrit un arc qui coupe la circonférence en un autre point  $Z'$ ; on aura l'arc  $BZ' = 32^{\circ}51'5''$  avec l'approximation demandée.

*Démonstration.* Si dans l'équation (9) on fait  $E = 4^{\circ}30'$ , on aura pour résultat

$$\log \sin A = 9,7343692;$$

or

$$\log \sin 32^{\circ} 51' = 9,7343529,$$

et la différence est 163; de plus, dans les tables, la différence pour dix minutes est 326, c'est-à-dire précisément double de 163 : donc, etc.

En calculant l'erreur avec de grandes tables, on la trouve moindre que 2<sup>'''</sup>.

*II<sup>e</sup> Solution.* Soit l'arc  $BZ = 31^{\circ} 30'$ . Du centre  $a$  avec un rayon égal à la distance  $eZ$  prise avec le compas soit coupée la circonférence en un autre point  $Z'$ ; on aura l'arc  $BZ' = 51^{\circ} 30' 55''$  trop petit de moins d'une tierce.

*Démonstration.* Si dans l'équation (9) on fait  $E = 31^{\circ} 30'$ , on trouvera par le moyen des tables ordinaires

$$\log \sin A = 9,8936365 = \log \sin 51^{\circ} 30' 50'' \frac{84}{167};$$

laquelle fraction  $\frac{84}{167}$  se comparant à 10'', donnera 5'' avec un excès moindre de 1<sup>'''</sup>. On aura donc  $A = 51^{\circ} 30' 55''$ , lequel arc soustrait de  $51^{\circ} 31'$  donnera 5'' avec l'approximation demandée.

Mais il est temps de passer à la démonstration de l'usage qu'on peut faire des douze équations précédentes quand on veut diviser la circonférence du cercle suivant la nouvelle manière des Français.

249. Suivant cette manière, la circonférence se trouve divisée en 400 degrés, afin que le quart de cercle, qui est le fondement de toute la Trigonométrie, soit par là divisé en 100. Chaque degré est divisé en 100 minutes, chaque minute en 100 secondes, et ainsi de suite. On peut, si l'on veut, se dispenser de dénommer les degrés, minutes ou secondes, la position des décimales faisant assez connaître la nature de ces fractions.

250. Par conséquent on voit que 9 degrés anciens valent 10 degrés nouveaux, ou bien que  $9^\circ = 0,10$ ; que  $54' = 0,01$ ; que  $27' = 0,005$ ; que  $5'24'' = 0,001$ ; que  $32''24''' = 0,0001$ ; c'est-à-dire qu'un degré nouveau vaut  $5\frac{1}{4}$  minutes anciennes, qu'une minute nouvelle vaut  $32''24'''$  de l'ancienne division, etc.

251. Les divisions obtenues exactement par le moyen des trois points  $a$ ,  $b$  et  $e$  dans le second livre donnent jusqu'à la 240<sup>e</sup> partie de la circonférence (59). L'arc qui forme cette partie est exactement de  $1^\circ 32'$  de l'ancienne

division. Il ne s'exprime pas également avec un nombre fini de décimales dans la division moderne; le premier arc, formé par l'assemblage de plusieurs  $20^{\text{es}}$  qu'on exprime avec un nombre fini de décimales du quart de cercle, est celui de  $\frac{3}{240}$  ou de  $\frac{1}{80}$  de la circonférence, lequel est de  $4^{\circ}30' = 0,05$  du quart de cercle, c'est-à-dire de 5 degrés de la nouvelle division. On peut donc avec les méthodes du livre second et par le moyen des trois seuls points  $a$ ,  $b$  et  $e$  pris hors de la circonférence, la diviser en deux parties égales, chacune de cinq degrés modernes, et cela avec la précision géométrique, ce qui est un des avantages de cette Géométrie.

252. On pourrait, si l'on voulait, par la division des arcs en deux parties égales (60), diviser ensuite la circonférence en arcs de deux degrés et demi chacun ou de  $0,025$ , et continuer ainsi cette division; mais il est clair que par ce moyen on ne pourra pas avoir un degré avec précision. Il ne reste donc d'autre moyen à la Géométrie pour obtenir l'arc d'un degré (63), que celui de chercher quelque construction qui le donne au moins par approximation.





## PROBLÈME.

253. *Trouver l'arc d'un nouveau degré, ou de 0,01, sans qu'il excède d'un sixième de seconde de la nouvelle division ou de 3''' de l'ancienne.*

*Solution.* Prenez avec le compas la corde de  $138^\circ$  de l'ancienne division, ou de quarante-six vingtièmes de la circonférence (42), et du point  $a$  comme centre décrivez un arc qui coupe le quart de cercle  $Bf$  en un point  $z$ ; l'arc  $Bz$  sera de 11 degrés de la nouvelle division; d'où soustrayant l'arc de  $9^\circ = 0,10$  (252), on aura pour reste un arc  $= 0,01$  avec l'approximation demandée.

*Démonstration.* Si, dans l'équation (4), on fait  $A' = 183^\circ$ , on aura

$$\begin{aligned} \sin A &= \frac{1}{2} (\sin 45^\circ + \sin 183^\circ + \sin -93) \\ &= \frac{1}{2} (\sin 45^\circ - \sin 3^\circ - \sin 87^\circ). \end{aligned}$$

On a ensuite

$$— \sin 5^\circ = — 0,0523360$$

$$— \sin 87^\circ = — 0,9986295$$

$$\sin 45^\circ = \underline{1,2928932}$$

$$— 0,3438587$$

$$— 0,1719293.$$

On a de plus

$$\sin 9^\circ 54' = 0,1719291$$

$$\sin 9^\circ 55' = 0,1722156.$$

Donc l'arc  $Bz = A = 9^\circ 54'$ , avec le seul excès de  $\frac{2}{2865}$  d'une minute de l'ancienne division, c'est-à-dire sans qu'il y ait un excédant de  $4'''$ , et par conséquent sans qu'il y ait erreur d'une seconde de la nouvelle division.

254. On pourrait, avec des tables un peu plus étendues que celles ordinaires, rechercher cette erreur avec plus de précision. Dans tous les cas, elle est si petite, qu'en l'accumulant encore deux ou trois fois, elle ne serait pourtant pas sensible dans les plus grands quarts de cercle. Or, dans leurs divisions, on n'a pas besoin de l'accumuler plus de deux fois; car on a déjà, avec la précision géométrique, l'arc de  $0,05$  (251). Si sur cet arc on trace deux divisions d'un degré en commençant des deux

extrémités et allant en sens contraire , on aura marqué sur cet arc quatre points qui en donneront la division en cinq degrés , et chacun de ces points ne sera pas éloigné de sa véritable position de six tierces entières de l'ancienne division , ou d'un tiers de seconde de la nouvelle.

255. D'après ce problème , on supposera maintenant la circonférence divisée en 400 degrés de la nouvelle division.

## PROBLÈME.

256. *Trouver l'arc d'un nouveau demi-degré , sans qu'il y ait excès de six tierces de l'ancienne division ou d'un tiers de seconde de la nouvelle.*

*Solution.* Prenez avec le compas la distance du point *b* au point *K*, et du point *e* comme centre avec ce rayon *bK*, décrivez un arc qui coupe la circonférence en un point *z*; vous aurez l'arc  $Bz = 4^{\circ} 21'$ , avec un excès moindre que  $7''$ ; soustrayez-en un arc de  $3^{\circ} = Np$  (43), il viendra pour reste  $1^{\circ} 21'$ , c'est-à-dire un degré et demi de la nouvelle division : alors de tous les points des degrés

(225) pris pour centre et d'un rayon égal à la corde de cet arc, on pourra diviser tous ces mêmes degrés en deux parties égales.

*Démonstration.* Si dans l'équation (12) on fait  $B = BK = 15^\circ$  (32), on aura  $E = -4^\circ 21' \frac{5}{2901}$ ; donc, etc. (242).

PROBLÈME.

257. *Trouver l'arc d'un cinquième de degré de la nouvelle division, sans qu'il y ait excès d'une seconde ancienne.*

*Solution.* Du point  $e$  comme centre avec un rayon égal à la corde de  $51^\circ$  prise avec le compas décrivez un arc qui coupe le quart de cercle en  $Z$ ; l'arc  $BZ$  sera de trente-sept degrés nouveaux plus un cinquième de degré, avec la précision demandée.

*Démonstration.* Si dans l'équation (6) on fait  $E' = 51^\circ$ , on aura

$$E = 33^\circ 28' \frac{1968}{2426} = 33^\circ 28' 48'' \frac{1632}{2426}$$

Mais  $33^\circ 28' 48'' = 0,372$ ; donc, etc.

## PROBLÈME.

258. *Trouver l'arc de quatre dixièmes d'un nouveau degré, sans qu'il y ait excès de 16'' anciennes.*

*Solution.* Soit l'arc  $BZ = 76^{\circ}30'$ ; puis du point  $a$  comme centre et d'une ouverture de compas  $= bZ'$  prise pour rayon décrivez un arc qui coupe le quart de cercle en un point  $Z'$ ; on aura l'arc  $BZ' = 0,094$ , c'est-à-dire de neuf nouveaux degrés et quatre dixièmes avec l'excès indiqué.

*Démonstration.* Si dans l'équation (7) on fait  $B = 76^{\circ}30'$ , elle deviendra  $A = 8^{\circ}27' \frac{1738}{2877}$ .  
Mais  $8^{\circ}27' \frac{1726}{2877} = 0,094$ ; donc, etc.

## PROBLÈME.

259. *Diviser un degré de la nouvelle division en dix parties égales.*

*Solution.* Après avoir divisé cet arc en deux parties égales (256), ôtez de l'arc de 0,005 les

arcs de 0,004 (258) et de 0,002 (257), et l'on aura les arcs de 0,001 et de 0,003, avec une erreur de quelques tierces de l'ancienne division seulement : on aura donc tous les arcs par la division de l'arc de 0,005 en cinq parties ; et divisant ensuite de la même manière l'autre moitié de l'arc, il sera divisé en dix parties égales.

260. On pourra soustraire et ajouter ces arcs, de manière que, balançant les erreurs en plus et en moins, on obtienne exactement la millième partie d'un nouveau degré : on pourra donc par la suite supposer le quart de cercle divisé en millièmes ou de dix en dix nouvelles minutes. On les considérera comme exacts pour la simplicité du calcul.

PROBLÈME.

261. *Trouver l'arc d'une nouvelle minute, sans erreur d'une tierce ancienne.*

*Solution.* Soit un arc  $Bz = 1^{\circ} 30'$  ; la distance  $az$  sera corde d'un arc de 1,3609, sans erreur d'une tierce ancienne. Soustrayant cet arc de celui de 1,361 (260), on aura l'arc de 0,0001.

*Démonstration.* Si dans l'équation (1) on fait  $A = -1^{\circ}3'$ , elle devient

$$\begin{aligned} A' &= 122^{\circ}28' \frac{2111}{2454} = 122^{\circ}28'51''36''' \\ &= 1,3609 \text{ (250)} : \end{aligned}$$

donc, etc.

## PROBLÈME.

**262.** *Trouver l'arc de deux nouvelles minutes, sans erreur d'une tierce ancienne.*

*Solution.* Soit l'arc  $Bz = -48^{\circ}$ ; la distance  $bz$  sera corde d'un arc de  $0,4422$  avec la précision demandée. Soustrayant de cet arc celui de  $0,442$  (260), l'arc restant sera de  $0,0002$ .

*Démonstration.* Si dans l'équation (2) on fait  $B = -48^{\circ}$ , elle devient

$$\begin{aligned} B &= 39^{\circ}47' \frac{1639}{1862} = 39^{\circ}0'52''48''' \\ &= 0,4422 \text{ (250)} : \end{aligned}$$

donc, etc.

## PROBLÈME.

**263.** *Trouver l'arc de trois nouvelles minutes, sans erreur d'une nouvelle tierce.*

*Solution.* Soit un arc  $Bz = -78^{\circ}$ ; du

point  $a$  comme centre avec la distance  $ez$  prise pour rayon soit décrit un arc qui coupe le quart de cercle  $Bf'$  en un point  $z'$ ; on aura l'arc  $Bz' = -0,0187$  avec la précision demandée; et soustrayant celui-ci de l'arc  $= -0,019$  (260), on aura l'arc restant  $= -0,0003$ .

*Démonstration.* Si dans l'équation (9) on fait  $E = -78^\circ$ , le sinus de  $A$  devient négatif; en changeant les signes dans les deux membres de l'équation, on a  $\log \sin A = 8,4678991$ . Or dans les nouvelles tables de *Callet* pour la nouvelle division du cercle, on trouve

$$8.4678990 = \log \sin 0,0187;$$

puis de  $\log \sin A = 8,4678991$

soustrayant  $DS = 6,1960574$  (*V. Callet*),

$$\text{on aura } \underline{2,2718417} = \log 187,00004.$$

On a donc  $A = -0,018700004$ ; l'erreur se trouve encore moins forte, si l'on emploie plus de chiffres dans les logarithmes.

264. On a pour la position du point dans les trois problèmes précédens, et spécialement dans le dernier, une telle approximation, qu'on n'en peut pas désirer une plus grande.



Au moyen des arcs trouvés par ces problèmes, on peut diviser de plusieurs manières un millièrne du quart de cercle (260) en deux parties égales, c'est-à-dire en minutes de la nouvelle division du cercle.

265. On pourrait de même obtenir des divisions plus petites, mais il faudrait employer des tables plus grandes que celles dont je me suis généralement servi dans les calculs des douze équations précédentes. On pourrait aussi, si l'on en avait besoin, étendre la division de la circonférence au delà des minutes du nouveau système français.

## PROBLÈME.

266. *Dans un cercle d'un rayon donné AB, trouver une corde Bb qui approche d'être égale au quart de la circonférence.*

*Solution.* Faites (fig. 101) sur la circonférence à  $AB = BC = CD = DE$ ; puis à  $BD = Ba = Ea$ ; du point C pris pour centre et du rayon Ca décrivez un arc qui coupe la circonférence en  $b$ ; Bb sera la corde cherchée.

*Démonstration.* AB étant supposée = 1, si

l'on fait  $BC = A = 60^\circ$  dans l'équation (1), on aura

$$A' = 43^\circ 33' \frac{286}{2005} = Cb :$$

donc l'arc  $BCb$  sera de  $103^\circ 33' \frac{286}{2005}$ ; sa moitié, qui est de  $51^\circ 46' \frac{1145}{2005}$ , a pour sinus  $0,7855998$ ; donc la corde  $Bb$  aura pour valeur  $1,5711996$ . Le quart de la circonférence étant ensuite égal à  $1,5707963$ , l'erreur ne sera donc que de  $0,0004$  environ.

267. Suivant le rapport d'Archimède, en supposant le rayon  $= 1$ , on trouve pour le quart de la circonférence  $\frac{11}{7} = 1,5714$ : donc la construction du problème ci-dessus (266) donne une plus grande approximation. Cette construction étant d'ailleurs très simple, il sera plus commode de l'employer dans la pratique que les autres que nous pourrions bien donner aussi; mais, quoique susceptibles de donner dans la théorie un plus grand degré d'approximation, elles seraient plus compliquées, et par conséquent plus sujettes à erreur.

## PROBLÈME.

268. Dans un cercle d'un rayon donné AB, trouver l'arc qui approche le plus d'être égal au rayon.

*Solution.* Faites sur la circonférence BLCMFDOEd (fig. 102) à AB = BC = CD = DE = Ed; à BD = Ba = Ea; à Aa = BF = Db = db = aL; à AB = FO, et enfin à bF = OM; l'arc LM sera celui qui approchera le plus d'être égal au rayon.

*Démonstration.* Si dans l'équation (4) on fait  $A' = 90^\circ$ , cet arc ayant pour corde aL, on aura

$$BL = A = 20^\circ 42' \frac{786}{2721}.$$

Comme on a de plus OM = bF corde de la cinquième partie de la circonférence (40), ou de  $72^\circ$ , et l'arc FG =  $60^\circ$ ; on aura l'arc Fm =  $12^\circ$ , et par conséquent

$$\begin{aligned} \text{l'arc LM} &= BF - BL - FM = 57^\circ 17' \frac{1935}{2721} \\ &= 57^\circ 17' 43'' + \dots; \end{aligned}$$

on aura donc pour l'arc égal au rayon  $57^\circ 17' 44''$ , comme on le sait déjà; donc, etc.

## PROBLÈME.

**269.** *Trouver le côté d'un carré qui approche le plus d'être égal en surface à un cercle d'un rayon donné AB.*

*Solution.* Faites sur la circonférence BPCQDRE (*fig.* 103), à  $AB = BC = CD = DE$ ; du même rayon BA et des centres B et E décrivez les deux arcs ALc, AMd; des centres C et D et du rayon DB décrivez les arcs cNM, dNL; faites à  $AN = BP = PQ$ , puis à  $LM = QR$ ; BR sera le côté cherché.

*Démonstration.* Si dans le triangle isocèle CND on suppose la base  $CD = 1$ , divisée en  $\mu$  en deux parties égales, on aura

$$(CN)^2 = (C\mu)^2 + (N\mu)^2,$$

ou

$$(2) = 3 = \frac{1}{4} + (N\mu)^2;$$

donc

$$N\mu = \frac{1}{2} \sqrt{11};$$

ensuite on a  $(Ca)^2 = (C\mu)^2 + (A\mu)^2$ , et par conséquent  $A\mu = \frac{1}{2} \sqrt{3}$ . Donc on aura

$$AN = \frac{1}{2} (\sqrt{19} - \sqrt{2}) = 0,7922869$$

valeur qui se trouve être celle de la corde de l'arc de  $46^{\circ}40' \frac{1272}{2671} = BP = PQ$  : donc l'arc BQ sera de  $93^{\circ}20' \frac{2544}{2671}$ . Tirez les droites BL divisées par le milieu au point  $n$ , BD, Dn, BE, et les perpendiculaires D $\delta$ , Ll, Mm perpendiculaires à la même ligne BE aux points  $\delta$ ,  $l$  et  $m$ . L'angle DBE étant égal à  $30^{\circ}$  (20, liv. 3), on aura

$$\sin DBE = \frac{1}{2}; \quad \cos DBE = \frac{1}{2} \sqrt{3}.$$

On a ensuite, suivant les propositions de la Trigonométrie,

$$\cos DBn = \frac{Bn}{DB};$$

$$\sin DBn = \frac{Dn}{DB} \text{ ou } \cos DBn = \frac{1}{6} \sqrt{3};$$

et comme l'on a

$$Dn = \sqrt{[(DB)^2 - (Bn)^2]} = \frac{1}{2} \sqrt{11},$$

on aura

$$\sin DBn = \frac{1}{6} \sqrt{33}.$$

On a ensuite (154)

$$\begin{aligned} \cos LBl &= 6(DBn - DBE) = \cos DBn \cos DBE \\ &+ \sin DBn \sin DBE = \frac{1}{12}(3 + \sqrt{33}) = \frac{Bl}{BL} = Bl \end{aligned}$$

(BL étant égal à BA = 1); donc

$$Al = AB - Bl = \frac{1}{12} (9 - \sqrt{33}),$$

et par conséquent

$$lm = LM = 2Al = \frac{1}{6} (9 - \sqrt{33}) = 0,5425729,$$

valeur qui est celle de la corde de  $31^{\circ}28' \frac{1518}{2799}$

= QR : donc l'arc BQR sera de  $124^{\circ}49' \frac{6370}{7476}$ ;

sa moitié  $62^{\circ}24' \frac{6923}{7476}$  a pour sinus 0,8863283,

et par conséquent on aura la corde de BQR

= 1,7726566. Or en faisant le rayon = 1,

on a la surface du cercle = 3,1415926, qui

a pour logarithme 0,4971499. La moitié

de ce logarithme, c'est-à-dire 0,2485749

= log  $\sqrt{3,1415926}$ , se trouve être log 1,772453.

On n'a donc qu'une erreur de 0,002 environ;

ce qui donne une approximation suffisante.

270. Au lieu de AN, on aurait pu employer les lignes dL ou cM, qu'on doit trouver égales à cette ligne AN.

*Démonstration.* Menez les droites dL et Dp au point p milieu de AN, on aura

$$\sin LDp = \frac{Lp}{DL}.$$

Mais l'angle  $LDp = \frac{1}{2} LDd = \frac{1}{2} (BDd - BDL)$   
 $= 30^\circ - BDn$  : donc (154)

$$\begin{aligned} \sin LDp &= \frac{1}{2} \cos BDn - \frac{1}{2} \sqrt{3} \sin BDn \\ &= \frac{1}{2} \cdot \frac{1}{6} \sqrt{33} - \frac{1}{2} \sqrt{3} \cdot \frac{1}{6} \sqrt{3}; \end{aligned}$$

d'où

$$Lp = DL \sin LDp = \frac{1}{4} \sqrt{11} - \frac{1}{4} \sqrt{3},$$

et

$$Ld = \frac{1}{2} \sqrt{11} = \frac{1}{2} \sqrt{3} = AN.$$

PROBLÈME.

271. *Étant donné le côté AB d'un carré (fig. 104), trouver le rayon d'un cercle qui approche de lui être égal en surface.*

*Solution.* Du centre A avec le rayon AB décrivez la circonférence BCFDLPME*d*; faites à  $AB = BC = CD = DE = Ed$ ; du centre B et avec le rayon BD décrivez l'arc  $dnNDa$ ; du centre E et avec le même rayon coupez cet arc en *a*; faites à  $Aa = BF = Db = db$  et à  $AB = Dn = dN$ ; du centre C et avec le rayon CN coupez la circonférence en P; faites

à  $Nn = PM$  et à  $FB = CL$ ; on aura  $LM$  pour le côté cherché.

*Démonstration.* Si l'on fait  $AB = 1$ , le triangle  $BNd$  ayant les côtés respectivement égaux à ceux du triangle  $BDL$  de la fig. 103, on aura

$$\sin \frac{1}{2} dBN = \frac{1}{6} \sqrt{3}; \cos \frac{1}{2} dBN = \frac{1}{6} \sqrt{33} \quad (270);$$

d'où

$$\begin{aligned} \sin dBN &= 2 \sin \frac{1}{2} dBN \cos \frac{1}{2} dBN \quad (154) \\ &= \frac{1}{6} \sqrt{11}; \cos dBN = \sqrt{1 - \sin^2 dBN} \\ &= \frac{5}{6}. \end{aligned}$$

De plus, l'angle  $OBd$  étant droit (31, liv. 3), on aura

$$\cos CBN = \sin dBN = \frac{1}{6} \sqrt{11}.$$

Mais on a par la Trigonométrie,

$$(CN)^2 = (BC)^2 + (BN)^2 - 2BC \cdot BN \cdot \cos CBN :$$

donc

$$\begin{aligned} CN &= \sqrt{4 - 2\sqrt{3} \cdot \frac{1}{6} \sqrt{11}} = \sqrt{4 - \frac{1}{3} \sqrt{33}} \\ &= 1,4440025, \end{aligned}$$



que l'on trouve être la corde de  $92^{\circ}26' \frac{804}{2013}$   
 $= CP$ ; puis on a

$$\begin{aligned} \sin NBE &= \frac{Nn}{BN} = \sin (CBE - CBN) \\ &= (154) \sin 60^{\circ} \cos CBN - \cos 60^{\circ} \sin CBN \\ &= \frac{1}{2} \sqrt{3} \cdot \frac{1}{6} \sqrt{11} - \frac{1}{2} \cdot \frac{5}{6}; \end{aligned}$$

on aura

$$\begin{aligned} Nn &= 2BN \cdot \sin NBE \\ &= \frac{1}{6} (3\sqrt{11} - 5\sqrt{3}) = 0,2149367, \end{aligned}$$

que l'on trouve être la corde de  $12^{\circ}20' \frac{946}{2892}$

$= PM$ . On aura donc l'arc  $CPM = 104^{\circ}46' \frac{4220}{5821}$ ;

d'où soustrayant l'arc  $CL$ , qui est un cinquième de la circonférence (40)  $= 72^{\circ}$ , il restera l'arc

$LM = 32^{\circ}46' \frac{4220}{5821}$  dont on trouve la corde

$= 05643274$ . Or nommant  $\pi$  le rapport de la circonférence au diamètre et  $R$  le rayon du cercle, on a, comme on sait, sa surface  $= \pi R^2$ ; faisant donc  $\pi R^2 = 1$ , qui est la surface du carré du rayon  $AB = 1$ , auquel on veut que le cercle soit égal, on aura

$$R = \sqrt{\frac{1}{\pi}},$$

et

$$\begin{aligned} \log R &= -\frac{1}{2} \cdot \log \pi = -0,2485749 \\ &= -1 + 0,7514251 = \log 0,5641896; \end{aligned}$$

l'erreur ne sera donc pas de 0,0002.

PROBLÈME.

272. *Étant donné le rayon AB d'une sphère (fig. 105), trouver le côté d'un cube dont la solidité approche d'être égale à la moitié de celle de la sphère.*

*Solution.* Après avoir décrit du centre A avec le rayon AB la circonférence BGCDPEd, faites à  $AB = BC = CD = DE = Ed$ ; du centre B avec le rayon BD décrivez l'arc aDNd; du centre E et avec le même rayon soit coupé cet arc en a; faites à  $AB = aG = dN$ ; et à  $CN = CP$ ; PG sera le côté cherché.

*Démonstration.* En effet, on aura (271) CN corde de  $92^{\circ} 26' \frac{804}{2013}$ . On aura ensuite GC  $= 15^{\circ}$  (32); d'où PG  $= 107^{\circ} 26' \frac{804}{2013}$ , dont la corde, en faisant  $AB = 1$ , se trouve être

égale à 1,6122696. Or dans la même hypothèse, et supposant le rapport de la circonférence au diamètre  $= \pi$ , on a

$$\text{la solidité de la sphère} = \frac{4}{3} \pi,$$

$$\begin{aligned} \text{et son logarithme} &= \log 4 + \log \pi - \log 3 \\ &= 0,6220886, \end{aligned}$$

dont le tiers 0,2073628 se trouve être le logarithme de 1,611991; et par conséquent l'erreur qui en résulte ne va pas à 0,0003.

## PROBLÈME.

**273.** *Étant donné le côté AB d'un cube (fig. 106), trouver le rayon d'une sphère qui approche de lui être égale en solidité.*

*Solution.* Du centre A avec le rayon AB décrivez la circonférence BLCMFDE; faites à  $AB = BC = CD = DE$ ; à  $BD = Ba = Ea$ ; à  $Aa = BF$ ; puis à  $Fa = FM$ , et à  $FA = FL$ ; LM sera le rayon cherché.

*Démonstration.* On aura l'arc  $FL = 60^\circ$  (15, liv. 4). On a ensuite, en faisant  $AB = 1$ ,  $aF = Aa - AF = \sqrt{2} - 1$  (27)  $= 0,4142136$ ,

que l'on trouve être corde de  $23^{\circ}54' \frac{976}{2846}$ . On

aura donc l'arc  $LM = 36^{\circ}5' \frac{1870}{2846}$ , qui a pour

corde 0,6195986. Or la solidité d'une sphère

qui a  $R$  pour rayon, est, comme on sait,

exprimée par la formule  $\frac{4}{3} \pi R^3$ ; si l'on fait

$\frac{4}{3} \pi R^3 = 1$ , qui est la solidité du cube donné,

on aura

$$\log R = \frac{\log 3 - \log 4 - \log \pi}{3}$$

$$= -1 + 0,7936371 = \log 0,6203504;$$

donc l'erreur en moins qui en résulte ne va pas à 0,0008.

274. Comme toutes ces approximations dans la rectification, la quadrature et la cubature de la circonférence du cercle et de la sphère, et dans les problèmes inverses, ne font pas erreur d'une millième partie du rayon, on les regarde comme suffisantes dans la pratique. Quand on voudra pousser plus loin les approximations, il n'y aura autre chose à faire qu'à trouver en degrés et minutes l'arc dont la quantité linéaire que l'on cherche est la corde; puis tirer cette corde dans le cercle, après l'avoir divisé dans le nombre trouvé de degrés et

minutes, en employant les méthodes précédemment démontrées (235, 243).

## PROBLÈME.

275. *Doubler le cube par approximation.*

*Solution.* Soit AB le côté du cube qu'on veut doubler (*fig. 107*); après avoir décrit du centre A avec le rayon AB la circonférence BQMNCFPDEde, et y avoir fait à  $AB = BC = CD = DE$ , à  $BD = Ba = Ea$ , à  $Aa = BF$ , et à  $FA = FN$ ; aN sera, à très peu de chose près, le côté du cube double.

*Démonstration.* L'arc BN sera un douzième de la circonférence ( $31$ ) =  $30^\circ$ ; si l'on fait cet arc  $BN = A$  dans l'équation (4), l'arc  $A'$ , dont aN est la corde, sera =  $78^\circ 2' \frac{2358}{2846}$ . On a donc, en faisant  $AB = 1$ ,

$$aN = 2 \sin 39^\circ 1' \frac{1179}{2846} = 1,2592800;$$

on a ensuite

$$\sqrt[3]{2} = 1,2599209.$$

L'erreur en moins qui en résulte n'est donc pas de 0,0007.

*II<sup>e</sup> Solution.* Si l'on voulait une plus grande approximation, après avoir fait la construction de la première solution, et avoir fait en outre à  $AB = Ed = dc$ , à  $Aa = BF = Db = db$ , à  $aN = cM = MP$ , à  $Fb = FQ$ ;  $PQ$  sera le côté cherché, avec une approximation plus grande que dans la solution précédente.

*Démonstration.* Comme, pour la démonstration de la première solution, on a l'arc  $cM = 78^\circ 2' \frac{2358}{2846} = MP$ , on aura l'arc  $cMP = 146^\circ 5' \frac{1870}{2846}$ ; puis soustrayant l'arc  $FQ = 72^\circ (40)$  de l'arc  $Fbc = 150^\circ (27, 29)$ , on aura l'arc restant  $cQ = 78^\circ$ ; en le soustrayant de l'arc  $cMP$ , on aura l'arc  $QP = 78^\circ 5' \frac{1870}{2846}$ , dont la corde se trouve être  $= 1,2599190$ ; l'erreur en moins qui en résulte ne sera donc que de  $0,000019$ , c'est-à-dire à peine de deux millièmes de rayon.

PROBLÈME.

**276.** *Tripler, quadrupler, etc., et octupler le cube (fig. 108).*

*Solution.* Soit  $AB$  le côté du cube donné;

du centre A et avec le rayon AB décrivez la circonférence  $B\omega G\mu C\varepsilon\nu FLDOEdc$ ; faites-y à  $AB = BC = CD = DE = Ed = dc$ ; des centres B, c, d, E, D avec le même rayon AB décrivez les arcs  $A\pi c$ ,  $Aqd$ ,  $c\beta A\delta E$ ,  $Apd$ ,  $A\tau E$ ; du centre B avec le même rayon BD décrivez l'arc  $d\tau\delta Da$ ; du centre E et avec le même rayon coupez cet arc en a; des centres C et D et avec le même rayon décrivez les arcs  $cpqE$ ,  $B\beta\pi d$ , faites à  $Aa = BF$ ; à  $AB = FO = aG = GI$ , à  $EL = a\omega$ , à  $\pi\tau = B\varepsilon$ , à  $p\delta = B\mu$ , et à  $q\tau = \mu\nu$ ; on aura

AO	}	pour côté du cube	}	double (275),
Cβ				triple,
OG				quadruple,
Oω				quintuple,
cε				sextuple,
cν				septuple,
BE				octuple.

*Démonstration.* Si l'on fait  $AB = 1$ , on aura (271)

$$C\delta = \sqrt{\left(4 - \frac{1}{3}\sqrt{33}\right)} = 1,442249\bar{3};$$

on a ensuite  $\sqrt{3} = 1,442249\bar{3}$  : donc l'excès n'est pas de 0,002.

L'arc OFG étant de  $105^\circ$  (29, 30), sa corde

OG sera égale à  $2 \sin 52^{\circ}32' = 1,5867066$ . On a de plus  $\sqrt[3]{4} = 1,5874007$ ; donc ce qui manque est de 0,0007 environ.

On aura ensuite l'arc  $EL = \frac{5}{24}$  de la circonférence (32)  $= 75^{\circ}$ ; si dans l'équation (4) on fait  $A' = 75^{\circ}$ , on a

$$\text{l'arc } A = B\omega = 32^{\circ}27' \frac{27}{2454};$$

et comme  $FO = 60^{\circ}$  (15, *liv.* 4), on aura

$$\text{l'arc } OF\omega = 117^{\circ}32' \frac{2427}{2454},$$

qui a pour corde  $1,7102744$ . On a ensuite  $\sqrt[3]{5} = 1,7099757$ ; donc l'excès n'est pas de 0,0003.

Puisque  $BD = B\tau = D\pi = \sqrt{3}$ , et  $D\tau = B\pi = 1$ , on aura (23)

$$\pi\tau \cdot BD = (BD)^2 - (B\pi)^2, \text{ c.-à-d. } \pi\tau \cdot \sqrt{3} = 2;$$

d'où

$$\frac{2}{3} \sqrt{3} = 1,1547005,$$

que l'on trouve être la corde de  $70^{\circ}31' \frac{1725}{2375} = B\epsilon$ . On aura donc l'arc  $c B\epsilon$  de  $130^{\circ}31' \frac{1725}{2375}$ , qui a pour corde  $1,8164964$ . On a ensuite



$\sqrt[3]{6} = 1,8171204$  : donc on fait une erreur en moins qui n'est pas de 0,0007.

Les deux triangles  $C\delta p$ ,  $Bp\delta$  ayant les côtés respectivement égaux, seront égaux (8 et 26, *liv. 1*); et comme ils sont sur la même base  $p\delta$ , les droites  $p\delta$ ,  $BC$  seront parallèles entre elles (39, *liv. 1*). On aura donc l'angle  $CB\delta = B\delta p$  (27, *liv. 1*).

Donc  $\cos CB\delta = \frac{1}{6} \sqrt{11} (271) = \cos B\delta p$ .

On a ensuite par la Trigonométrie,

$$(Bp)^2 = (B\delta)^2 + (p\delta)^2 - 2B\delta \cdot p\delta \cdot \cos B\delta p;$$

et les lignes  $Bp$  et  $C\delta$  étant égales, puisqu'on les détermine par la même construction, on aura

$$4 - \frac{1}{3} \sqrt{33} = 3 + (p\delta)^2 - 2p\delta \cdot \sqrt{3} \cdot \frac{1}{6} \sqrt{11};$$

d'où

$$1 - \frac{1}{3} \sqrt{33} = (p\delta)^2 - p\delta \cdot \frac{1}{3} \sqrt{33} :$$

ajoutant dans les deux membres de l'équation le carré de  $\frac{1}{6} \sqrt{33}$ , on aura

$$\left(1 - \frac{1}{6} \sqrt{33}\right)^2 = \left(p\delta - \frac{1}{6} \sqrt{33}\right)^2;$$

d'où

$$p\delta - \frac{1}{6}\sqrt{33} = \pm\left(1 - \frac{1}{6}\sqrt{33}\right).$$

On a ensuite (23)

$$p\delta \cdot dE = (dE)^2 - (pd)^2,$$

c'est-à-dire  $p\delta = 1 - (pd)^2$ , et par conséquent la ligne  $p\delta$  est plus petite que l'unité; puis on déterminera  $p\delta = \frac{1}{3}\sqrt{33} - 1 = 0,9148541$ , que l'on trouve être corde de l'arc de  $54^\circ 26' \frac{1408}{2588}$ . On a ensuite  $q\tau = LM$  de la fig. 103 = la corde de l'arc de  $31^\circ 28' \frac{2518}{2799}$  (269; donc

$$\begin{aligned} \text{l'arc } cB\mu\nu &= 60^\circ + 54^\circ 26' \frac{1408}{2588} + 31^\circ 28' \frac{2518}{2799} \\ &= 145^\circ 55' \frac{1607}{3622}, \end{aligned}$$

arc dont on trouve la corde  $c\nu = 1,9122214$ .

On a ensuite  $\sqrt[3]{7} = 1,9129309$ ; donc on fait une erreur en moins qui n'est pas de 0,000702;

on a enfin  $BE = \sqrt[3]{8} : \text{donc, etc.}$

## PROBLÈME.

277. *Sous-doubler le cube par approximation* (fig. 108).

*Solution.* Soit AB le côté du cube donné; du centre A avec le rayon AB décrivez la circonférence BCDE*d*, et faites à  $AB = BC = CD = DE = Ed$ ; du centre B avec le rayon BD tracez l'arc D*δ**d*; du centre *d* avec le rayon *d*A tracez l'arc A*δ*E; D*δ* sera le côté cherché.

*Démonstration.* La droite D*δ* de cette figure a été déterminée comme celle *d*L de la fig. 103. On aura donc (269)  $D\delta = 0,7922869$ . Or on a  $\sqrt[3]{\frac{1}{2}} = 0,7937039$  : donc on fait une erreur en moins qui n'est pas de 0,002.

278. Nous n'avons pas voulu omettre les solutions de ces deux derniers problèmes, quoiqu'il y ait erreur dans quelques résultats, savoir, d'un ou deux millièmes dans les uns, et de quelques dix-millièmes dans les autres, parce que ces erreurs sont souvent négligeables, et que d'ailleurs les solutions en sont simples. On peut avoir des valeurs beaucoup plus exactes

que les précédentes pour former des cubes, non-seulement dans les rapports ci-dessus exprimés, mais encore dans d'autres, si l'on cherchait les arcs exprimés en degrés, minutes et parties de minutes qui ont pour cordes les racines cubiques, ou leurs moitiés, leurs tiers, etc., nécessaires pour la construction du cube cherché; on retirerait ensuite ces cordes du cercle divisé exactement en degrés, minutes, etc. (243, 244), et on les emploierait ensuite, ainsi que leurs multiples, à la même construction du cube.

279. C'est ici que se termine enfin la Géométrie du Compas; si elle est accueillie favorablement des géomètres, et si elle peut être de quelque utilité aux artistes, aux dessinateurs, et spécialement aux ingénieurs en instrumens de Mathématiques à l'usage des géographes et des astronomes, je me trouverai bien récompensé du long ennui que m'a coûté sa composition.

FIN.



---

---

# TABLE.

---

PRÉFACE. . . . .	Page	5
LIVRE I. Préliminaires. . . . .		25
— II. De la division de la circonférence et des arcs du cercle. . . . .		41
— III. De la multiplication et de la division des distances en ligne droite. . . . .		65
— IV. De l'addition et de la soustraction des distances ; de la situation des perpendiculaires et des parallèles. . . . .		83
— V. Des distances proportionnelles. . . . .		95
— VI. Des racines. . . . .		105
— VII. De l'intersection des lignes droites avec les arcs de cercle et entre elles. . . . .		129
— VIII. De la construction , de la multiplication et de la division des angles et des lignes trigonométriques. . . . .		195
— IX. Des figures semblables et des polygones réguliers. . . . .		147
— X. Des centres. . . . .		175
— XI. Problèmes divers. . . . .		185
— Problèmes résolus par approximation. . . . .		259

FIN DE LA TABLE.

# TABELL.

1. Die allgemeine Theorie der Differentialgleichungen . . . . . 1

2. Die Theorie der linearen Differentialgleichungen . . . . . 15

3. Die Theorie der nicht linearen Differentialgleichungen . . . . . 35

4. Die Theorie der partiellen Differentialgleichungen . . . . . 55

5. Die Theorie der Integralgleichungen . . . . . 75

6. Die Theorie der Variationsrechnung . . . . . 95

7. Die Theorie der Mechanik . . . . . 115

8. Die Theorie der Optik . . . . . 135

9. Die Theorie der Akustik . . . . . 155

10. Die Theorie der Wärmelehre . . . . . 175

11. Die Theorie der Elektrizität . . . . . 195

12. Die Theorie der Magnetismus . . . . . 215

13. Die Theorie der Astronomie . . . . . 235

14. Die Theorie der Geographie . . . . . 255

15. Die Theorie der Meteorologie . . . . . 275

16. Die Theorie der Zoologie . . . . . 295

17. Die Theorie der Botanik . . . . . 315

18. Die Theorie der Anatomie . . . . . 335

19. Die Theorie der Physiologie . . . . . 355

20. Die Theorie der Pathologie . . . . . 375

21. Die Theorie der Pharmakologie . . . . . 395

22. Die Theorie der Chirurgie . . . . . 415

23. Die Theorie der Heilkunde . . . . . 435

24. Die Theorie der Fehlfachwissenschaften . . . . . 455

25. Die Theorie der Naturwissenschaften . . . . . 475

26. Die Theorie der Geisteswissenschaften . . . . . 495

27. Die Theorie der Kunstwissenschaften . . . . . 515

28. Die Theorie der Sozialwissenschaften . . . . . 535

29. Die Theorie der Wirtschaftswissenschaften . . . . . 555

30. Die Theorie der Rechtswissenschaften . . . . . 575

31. Die Theorie der Staatswissenschaften . . . . . 595

32. Die Theorie der Pädagogik . . . . . 615

33. Die Theorie der Psychologie . . . . . 635

34. Die Theorie der Philosophie . . . . . 655

35. Die Theorie der Religion . . . . . 675

36. Die Theorie der Ethik . . . . . 695

37. Die Theorie der Logik . . . . . 715

38. Die Theorie der Metaphysik . . . . . 735

39. Die Theorie der Ästhetik . . . . . 755

40. Die Theorie der Musik . . . . . 775

41. Die Theorie der Malerei . . . . . 795

42. Die Theorie der Architektur . . . . . 815

43. Die Theorie der Ingenieurwissenschaften . . . . . 835

44. Die Theorie der Landwirtschaft . . . . . 855

45. Die Theorie der Forstwirtschaft . . . . . 875

46. Die Theorie der Fischerei . . . . . 895

47. Die Theorie der Jagd . . . . . 915

48. Die Theorie der Tierzucht . . . . . 935

49. Die Theorie der Pflanzenzucht . . . . . 955

50. Die Theorie der Gärtnerei . . . . . 975

51. Die Theorie der Baukunst . . . . . 995

52. Die Theorie der Kunstgeschichte . . . . . 1015

53. Die Theorie der Literaturgeschichte . . . . . 1035

54. Die Theorie der Sprachgeschichte . . . . . 1055

55. Die Theorie der Religionsgeschichte . . . . . 1075

56. Die Theorie der Kulturgeschichte . . . . . 1095

57. Die Theorie der Weltgeschichte . . . . . 1115

58. Die Theorie der Nationalgeschichte . . . . . 1135

59. Die Theorie der Lokalgeschichte . . . . . 1155

60. Die Theorie der Familien- und Personengeschichte . . . . . 1175

61. Die Theorie der Genealogie . . . . . 1195

62. Die Theorie der Heraldik . . . . . 1215

63. Die Theorie der Numismatik . . . . . 1235

64. Die Theorie der Paläontologie . . . . . 1255

65. Die Theorie der Archäologie . . . . . 1275

66. Die Theorie der Ethnologie . . . . . 1295

67. Die Theorie der Anthropologie . . . . . 1315

68. Die Theorie der Linguistik . . . . . 1335

69. Die Theorie der Philologie . . . . . 1355

70. Die Theorie der Historiographie . . . . . 1375

71. Die Theorie der Historik . . . . . 1395

72. Die Theorie der Historischen Hilfswissenschaften . . . . . 1415

73. Die Theorie der Historischen Quellenkunde . . . . . 1435

74. Die Theorie der Historischen Geographie . . . . . 1455

75. Die Theorie der Historischen Ethnologie . . . . . 1475

76. Die Theorie der Historischen Anthropologie . . . . . 1495

77. Die Theorie der Historischen Linguistik . . . . . 1515

78. Die Theorie der Historischen Philologie . . . . . 1535

79. Die Theorie der Historischen Historiographie . . . . . 1555

80. Die Theorie der Historischen Historik . . . . . 1575

81. Die Theorie der Historischen Historischen Hilfswissenschaften . . . . . 1595

82. Die Theorie der Historischen Historischen Quellenkunde . . . . . 1615

83. Die Theorie der Historischen Historischen Geographie . . . . . 1635

84. Die Theorie der Historischen Historischen Ethnologie . . . . . 1655

85. Die Theorie der Historischen Historischen Anthropologie . . . . . 1675

86. Die Theorie der Historischen Historischen Linguistik . . . . . 1695

87. Die Theorie der Historischen Historischen Philologie . . . . . 1715

88. Die Theorie der Historischen Historischen Historiographie . . . . . 1735

89. Die Theorie der Historischen Historischen Historik . . . . . 1755

90. Die Theorie der Historischen Historischen Historischen Hilfswissenschaften . . . . . 1775

91. Die Theorie der Historischen Historischen Historischen Quellenkunde . . . . . 1795

92. Die Theorie der Historischen Historischen Historischen Geographie . . . . . 1815

93. Die Theorie der Historischen Historischen Historischen Ethnologie . . . . . 1835

94. Die Theorie der Historischen Historischen Historischen Anthropologie . . . . . 1855

95. Die Theorie der Historischen Historischen Historischen Linguistik . . . . . 1875

96. Die Theorie der Historischen Historischen Historischen Philologie . . . . . 1895

97. Die Theorie der Historischen Historischen Historischen Historiographie . . . . . 1915

98. Die Theorie der Historischen Historischen Historischen Historik . . . . . 1935

99. Die Theorie der Historischen Historischen Historischen Historischen Hilfswissenschaften . . . . . 1955

100. Die Theorie der Historischen Historischen Historischen Historischen Quellenkunde . . . . . 1975

*On trouve chez BACHELIER, libraire, quai des Augustins, n° 55, à Paris, les Ouvrages suivans :*

- L'ART DE RÉGLER LES MONTRES ET LES PENDULES**, 5<sup>e</sup> édition, augmentée d'une planche et de la manière de tracer la ligne méridienne du temps moyen, par Berthoud, mécanicien de la marine; membre de l'Institut de France et de la Société royale de Londres, membre de la Légion-d'honneur; 1827, vol. in-18 avec 5 pl. 2 fr. 50 c.
- TABLES BAROMÉTRIQUES** portatives, donnant les différences de niveau par une simple soustraction; par Biot; in-8. 1 fr. 50 c.
- THÉORIE DE LA MÉCANIQUE USUELLE**, ou Introduction à l'étude de la Mécanique appliquée aux Arts, contenant les principes de Statique, de Dynamique, d'Hydrostatique et d'Hydrodynamique applicables aux Arts industriels; la théorie des moteurs, des effets utiles des machines, des organes mécaniques intermédiaires, et l'équilibre des supports; par Borgnis, ingénieur et membre de plusieurs académies; 1821, 1 vol. in-4. 15 fr.
- DICTIONNAIRE DE MÉCANIQUE APPLIQUÉE AUX ARTS**, contenant la définition et la description sommaire des objets les plus importans ou les plus usités qui se rapportent à cette science, avec l'énoncé de leurs propriétés essentielles; suivi d'indications qui facilitent la recherche des détails plus circonstanciés; par le même; 1823, in-4. 13 fr.
- TRAITÉ ÉLÉMENTAIRE DE CONSTRUCTION APPLIQUÉE A L'ARCHITECTURE CIVILE**, contenant les principes qui doivent diriger, 1<sup>o</sup> le choix et la préparation des matériaux; 2<sup>o</sup> la configuration et les proportions des parties qui constituent les édifices en général; 3<sup>o</sup> l'exécution des plans déjà fixés; suivi de nombreuses applications puisées dans les plus célèbres monumens antiques et modernes, etc.; par le même, in-4 d'environ 650 pages, et atlas de 30 pl. gravées par Adam; 1823. 36 fr.
- TRAITÉ DE TRIGONOMÉTRIE**, par Cagnoli, trad. de l'ital. par M. Chompré, 2<sup>e</sup> éd.; 1808, in-4. 18 fr.

**NOUVEAU TRAITÉ ÉLÉMENTAIRE DE PERSPECTIVE** à l'usage des artistes et des personnes qui s'occupent du Dessin ; précédé des premières notions de la Géométrie élémentaire , de la Géométrie descriptive , de l'Optique et de la projection des ombres ; par Cloquet (J. - B.) , ex-professeur de Dessin à l'école des Mines et à celle de la Brigade topographique au Dépôt des fortifications ; 1 vol. in-4 et atlas de 84 pl. , dont plusieurs coloriées , 1823. 30 fr.

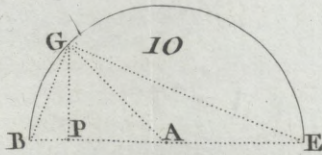
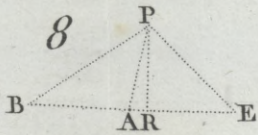
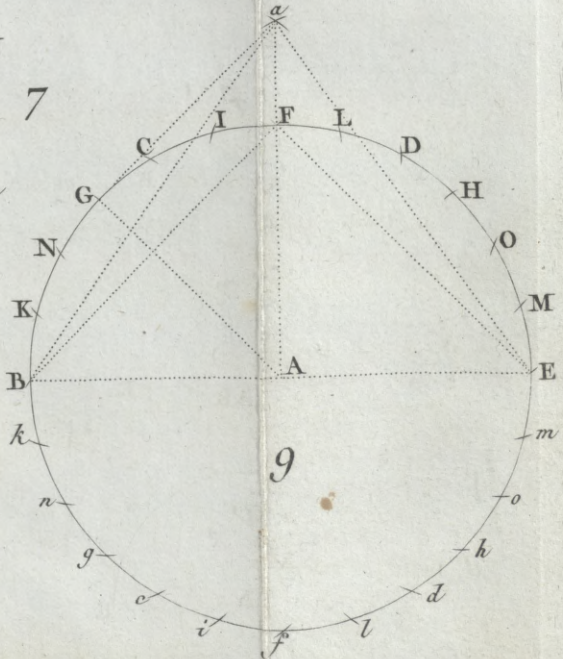
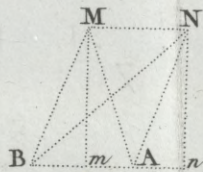
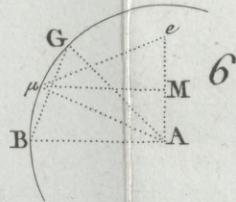
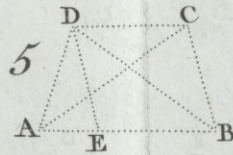
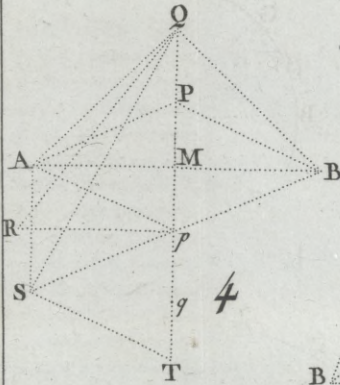
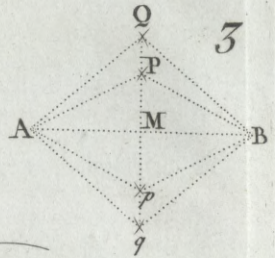
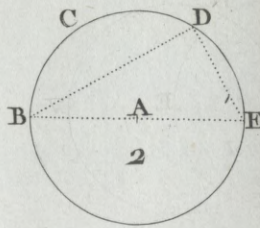
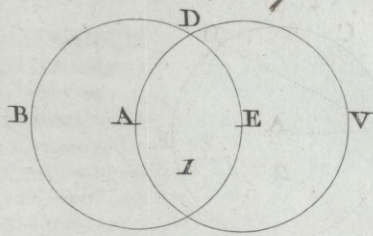
**THÉORIE DES MACHINES SIMPLES**, en ayant égard au frottement de leurs parties et à la raideur des cordages. *Nouvelle édition*, à laquelle on a ajouté les Mémoires suivans du même auteur ; — sur les frottemens de la pointe des pivots ; — recherches théoriques et expérimentales sur la force de torsion et sur l'élasticité des fils de métal ; — résultats de plusieurs expériences destinées à déterminer la quantité d'action que les hommes peuvent fournir par leur travail journalier , suivant les différentes manières dont ils emploient leurs forces ; — observations théoriques et expérimentales sur l'effet des moulins à vent et sur la figure de leurs ailes ; — sur les murs de revêtement et l'équilibre des voûtes , etc. ; par Coulomb , chevalier de Saint-Louis , capitaine du Génie , membre de l'Institut de France ; 1821 , vol. in-4 avec 10 planches. 15 fr.

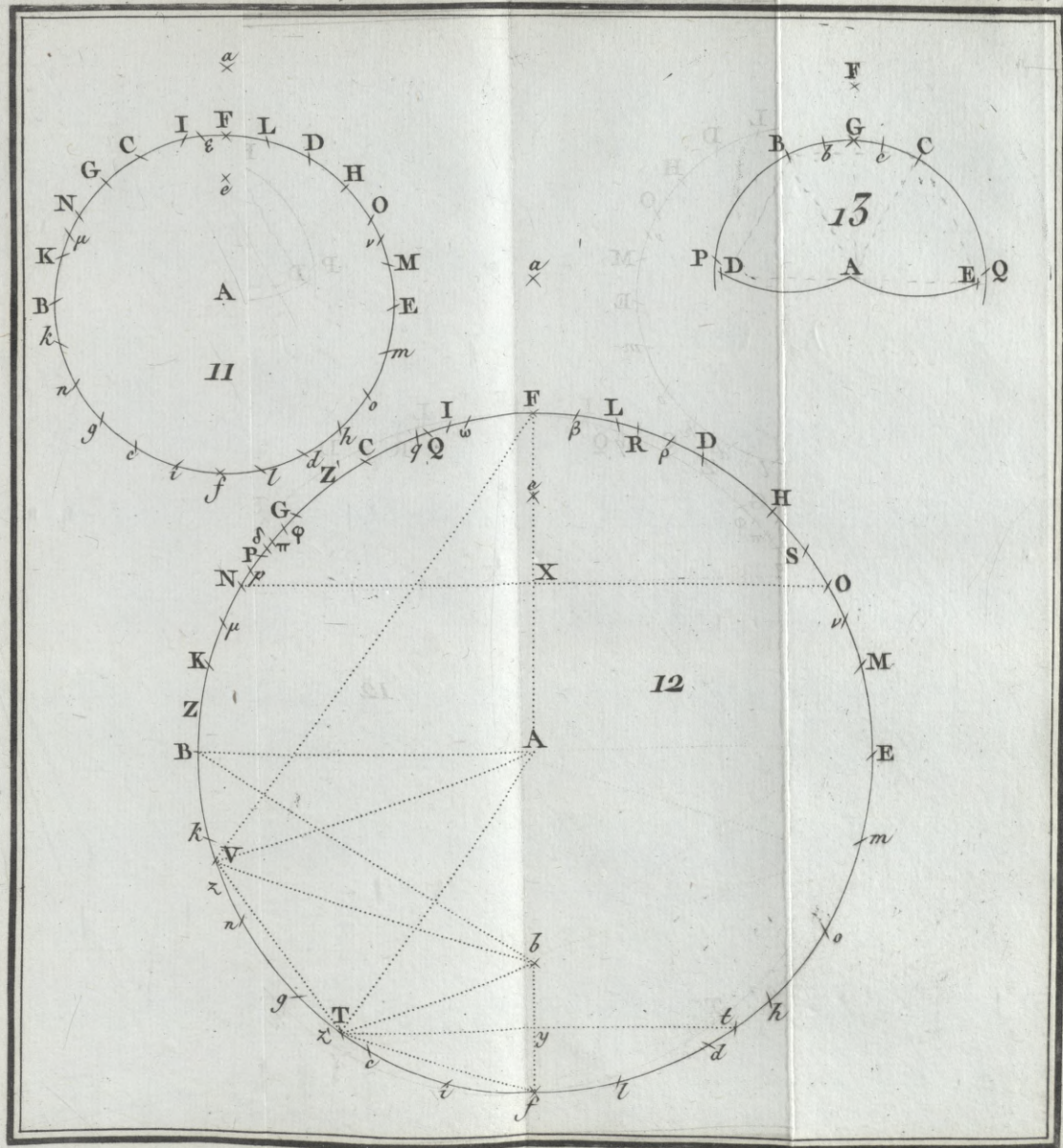
**DESCRIPTION** de divers procédés pour extraire la soude du sel marin , vol. in-4 avec 11 planches représentant d'une manière très détaillée les plans et élévations des ateliers de soudières , les fours , fourneaux et instrumens nécessaires à la manipulation de la soude ; par Darcet , Lelièvre et Pelletier. 6 fr.

**MANUEL D'ÉLECTRICITÉ DYNAMIQUE** , ou Traité sur l'action mutuelle des conducteurs électriques et des aimans , et sur la nouvelle théorie du magnétisme , pour faire suite à tous les Traités de Physique élémentaire ; par Demonferrand , professeur de Mathématiques et de Physique au collège de Versailles , etc. ; 1823 , in-8 avec 5 planches. 4 fr.

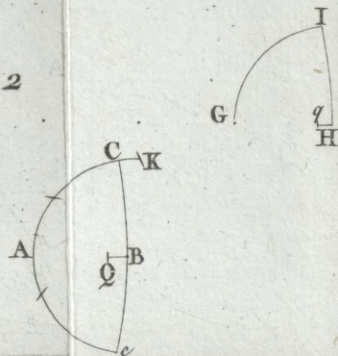
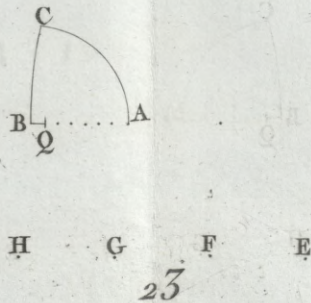
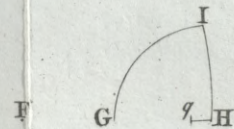
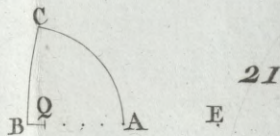
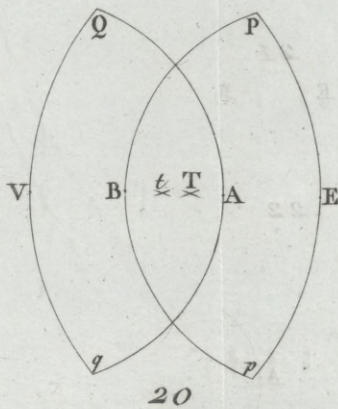
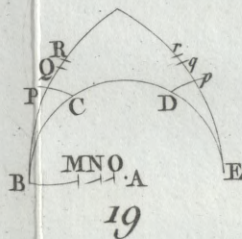
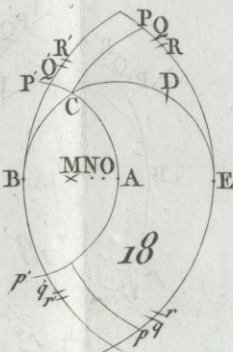
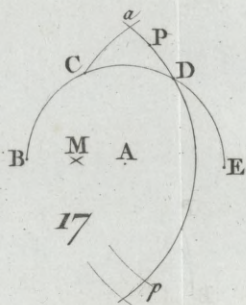
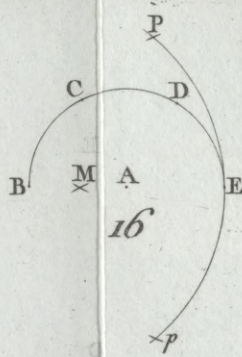
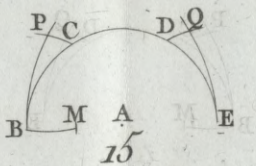
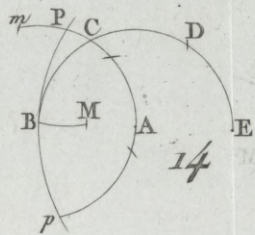


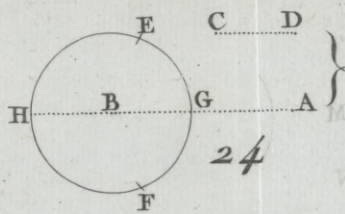




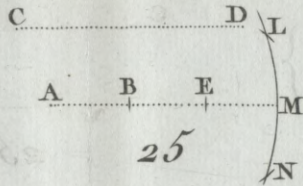


Duruisseau Sculp.

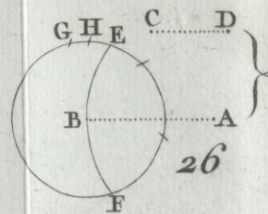




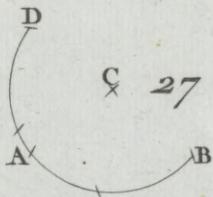
24




25



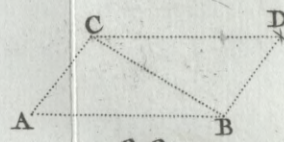
26




27



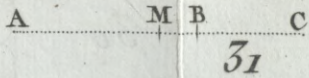
28



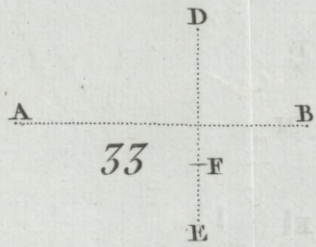
29



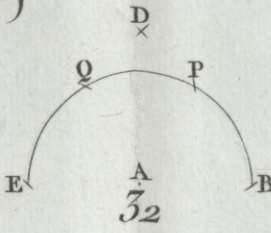
30



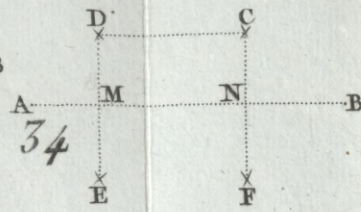
31



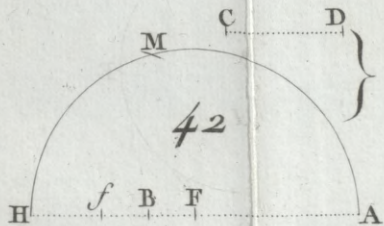
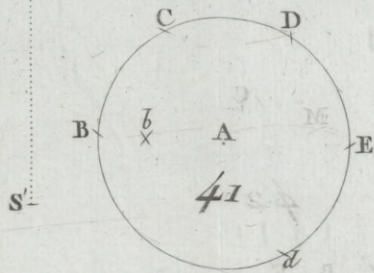

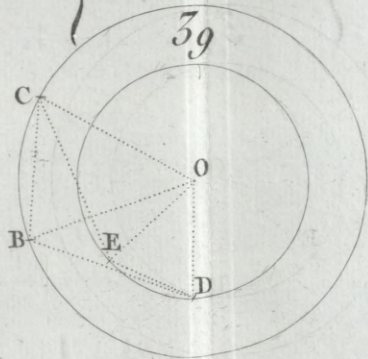
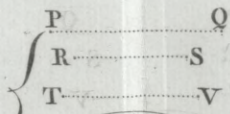
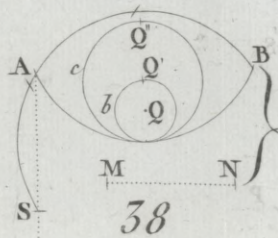
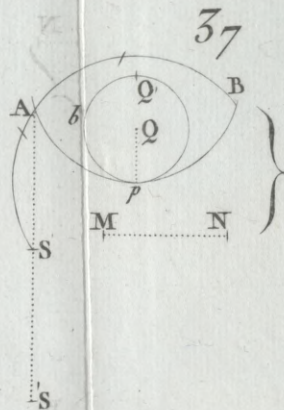
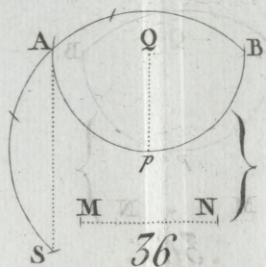
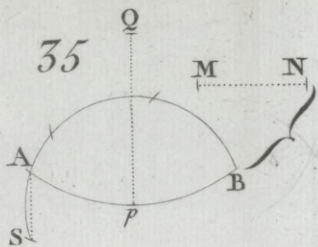
33

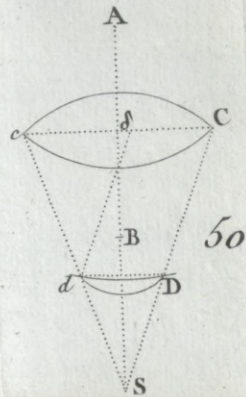
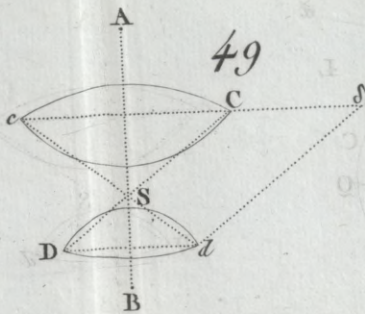
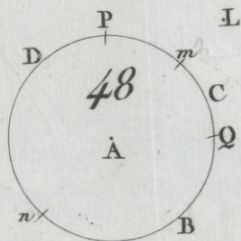
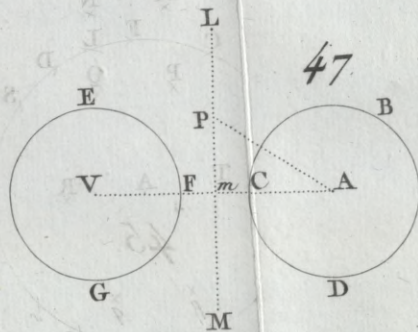
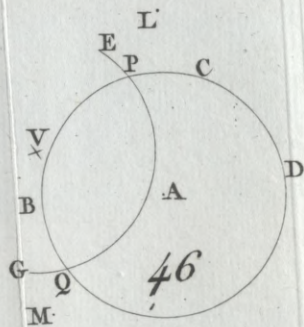
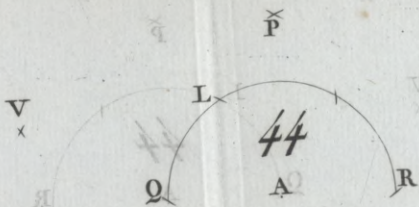
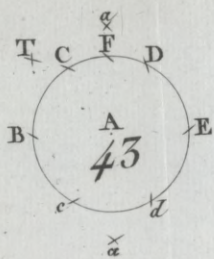


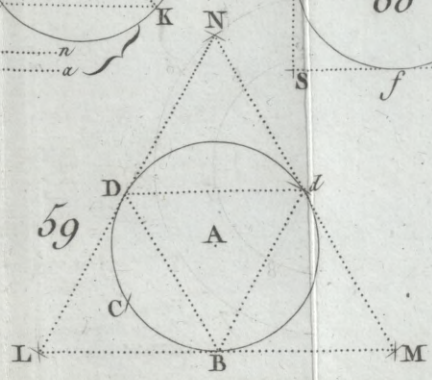
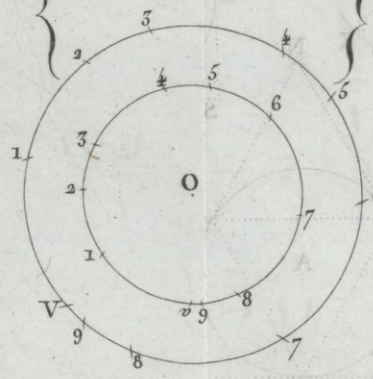
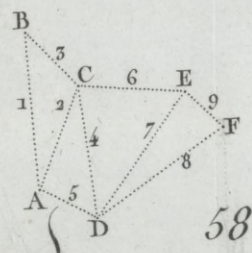
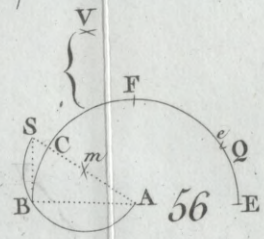
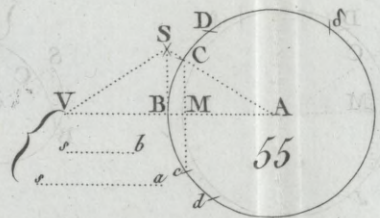
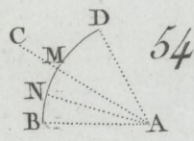
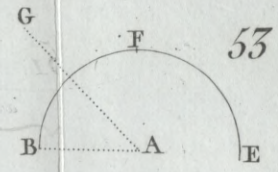
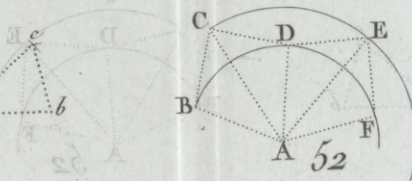
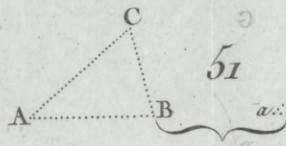
32



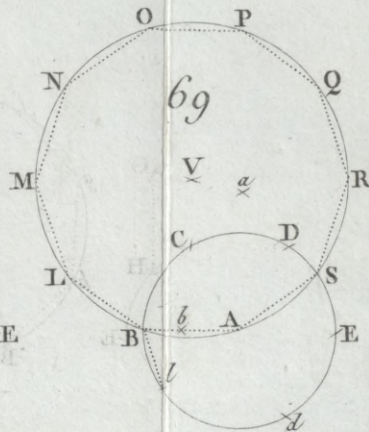
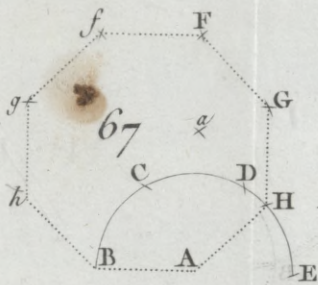
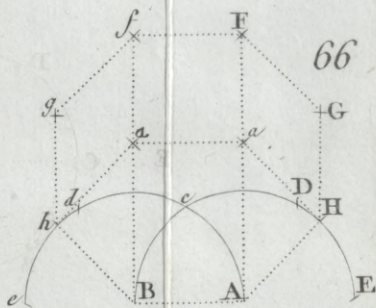
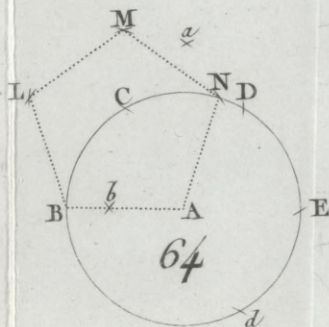
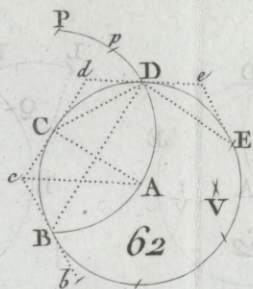
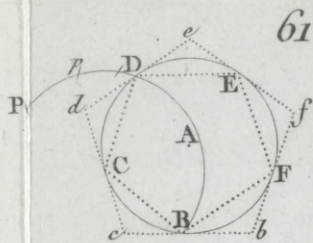
34

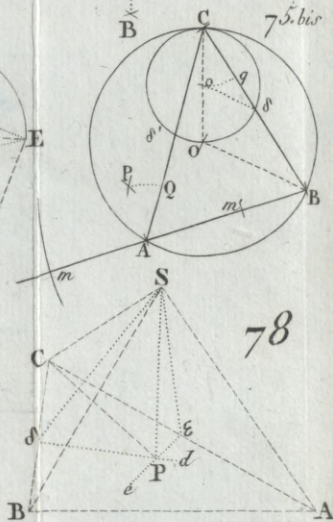
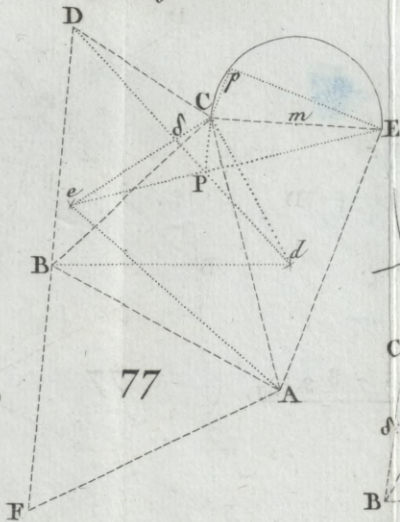
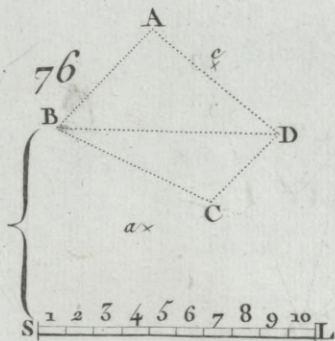
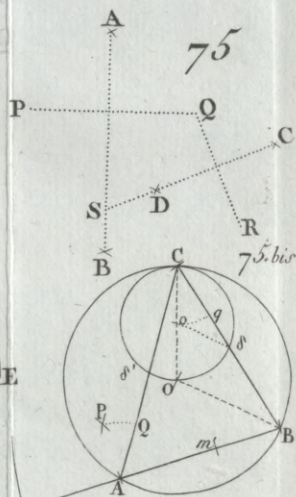
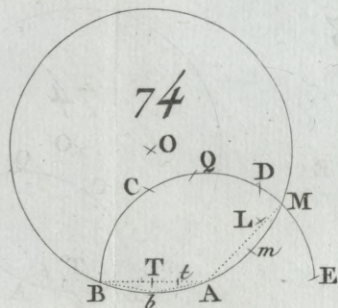
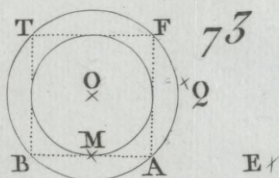
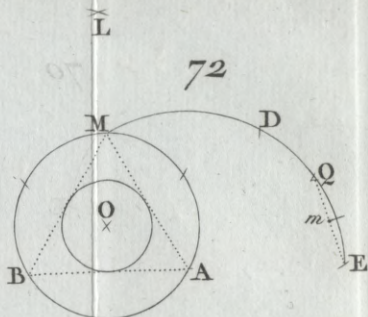
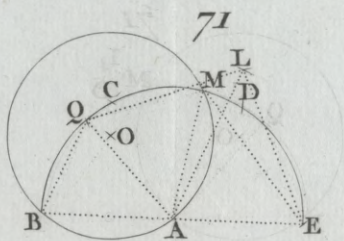
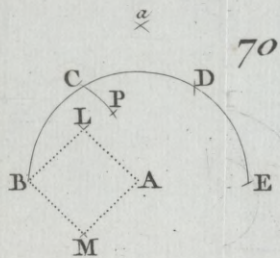


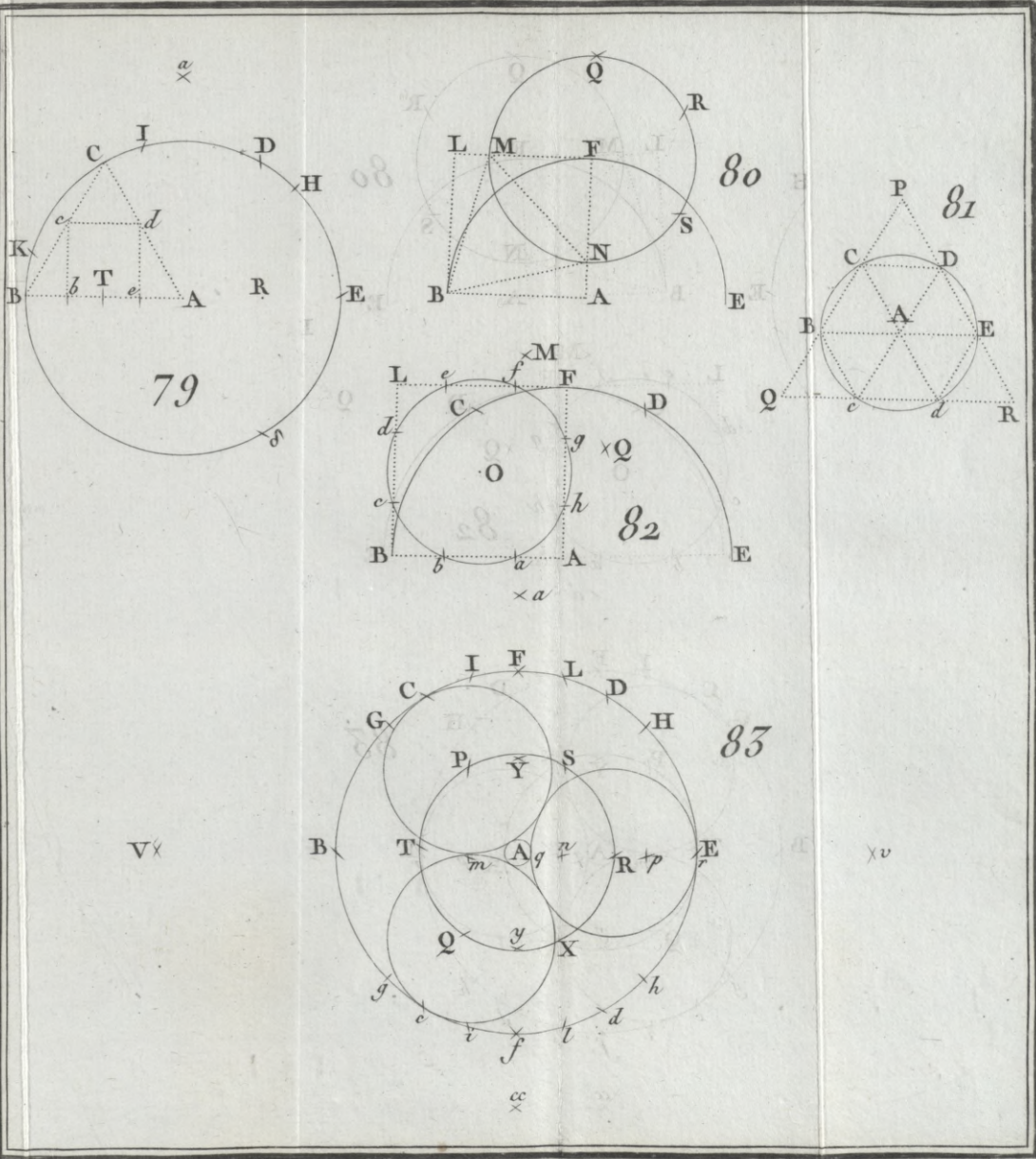




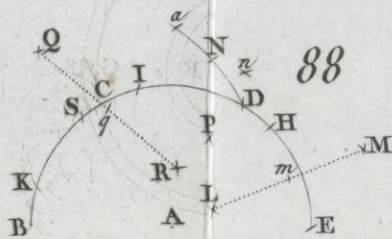
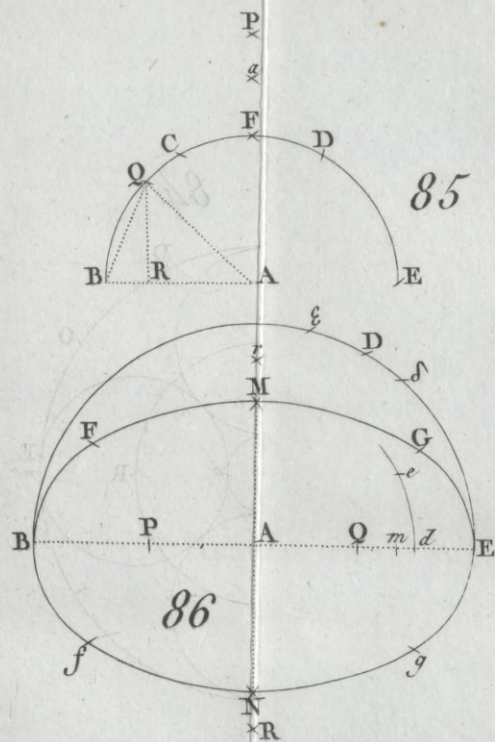
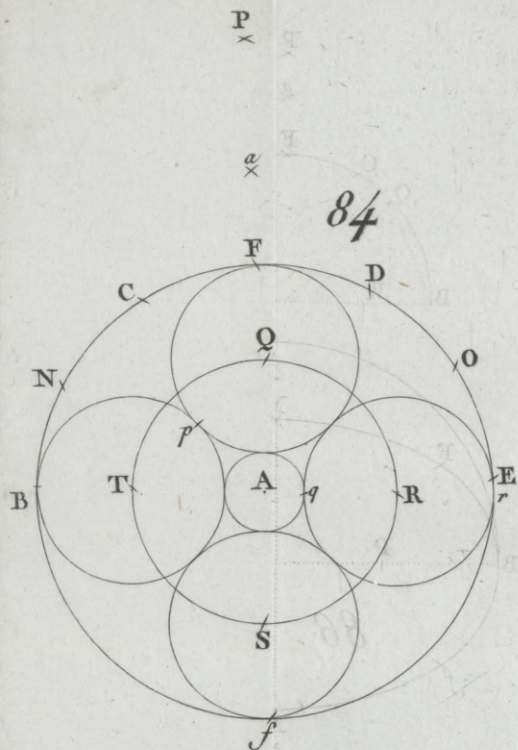


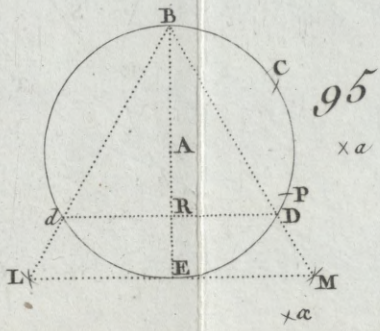
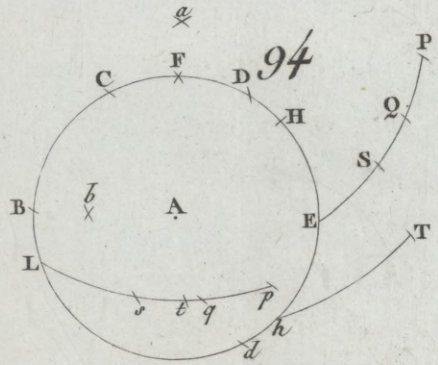
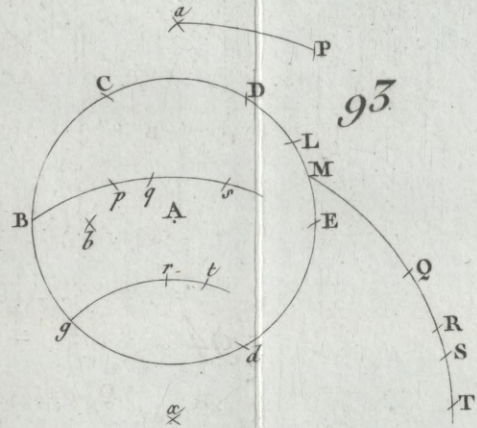
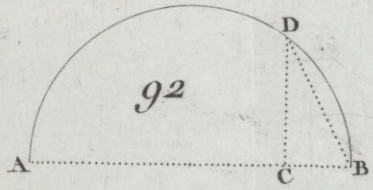
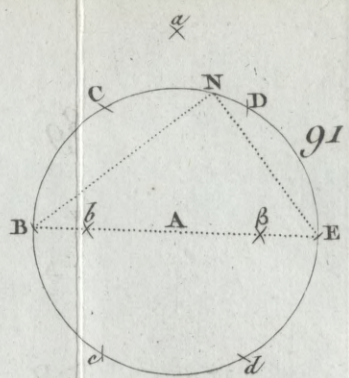
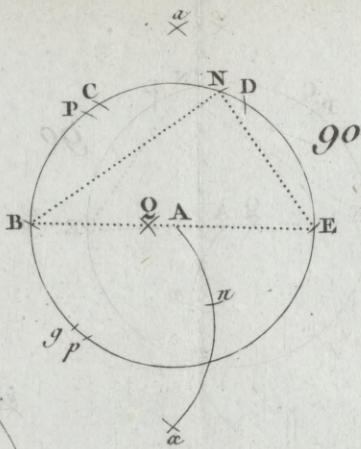
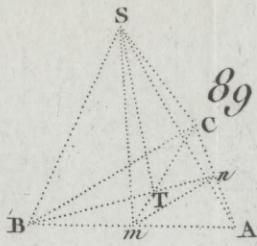






Durissseau Sculp.





Duvivier Sculp.









